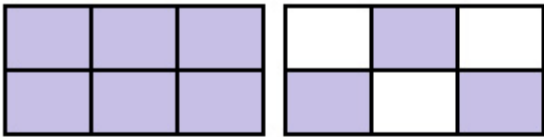




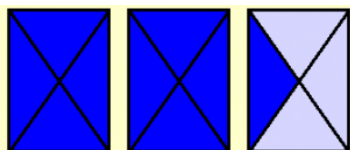
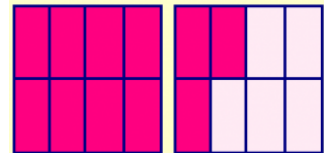
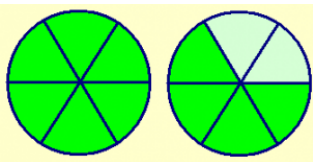
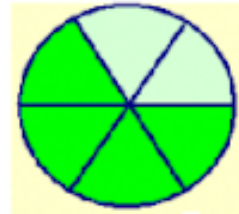
Recuerda que hay fracciones mayores que 1 y menores que 1. También hay fracciones que son iguales a 1.

a)  $\frac{9}{6}$ Mayor a la unidad

b)  $\frac{8}{8}$ igual a la unidad

c)  $\frac{2}{3}$ Menor a la unidad

1. Escribe en forma de fracción la parte coloreada en cada caso.



2. Rodea las fracciones que sean mayores que la unidad.

a. $\frac{3}{5}$

b. $\frac{4}{3}$

c. $\frac{35}{50}$


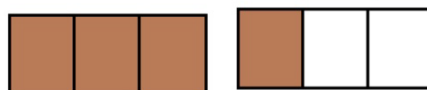
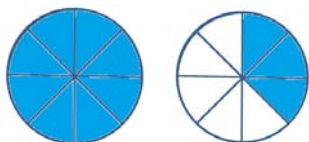
d. $\frac{1}{2}$

e. $\frac{5}{4}$

f. $\frac{11}{8}$

g. $\frac{7}{3}$


3. ¿Qué fracciones del ejercicio anterior corresponden a la parte coloreada en cada caso?



- Expresa ahora en forma de número mixto

4. Ahora colorea la parte que corresponde y expresa en forma de número mixto.


$\frac{5}{3}$



$\frac{9}{4}$




$\frac{5}{2}$



$\frac{7}{6}$



$\frac{3}{2}$



$\frac{10}{3}$

