

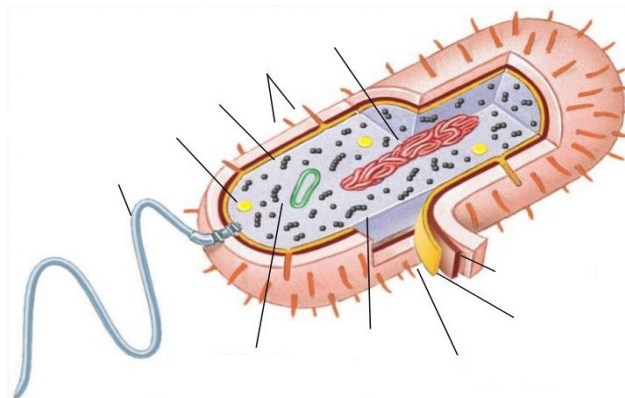
# I.E.S MATEO ALEMÁN

Apellido + Nombre

Curso:

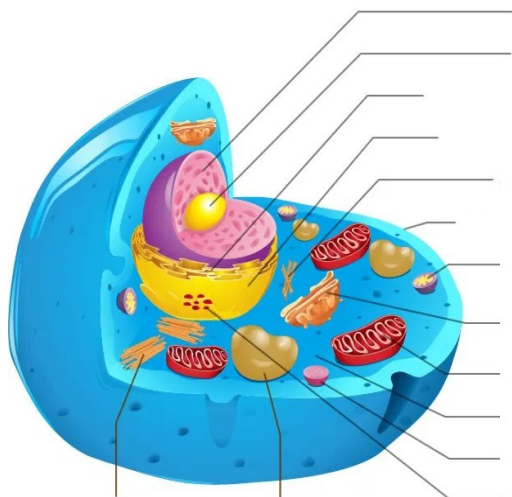
Fecha:

1. Sintetiza la TEORÍA CELULAR.
2. Diferencia fundamental entre célula eucariota y procarionta.
3. Cita las partes de una célula procarionta:

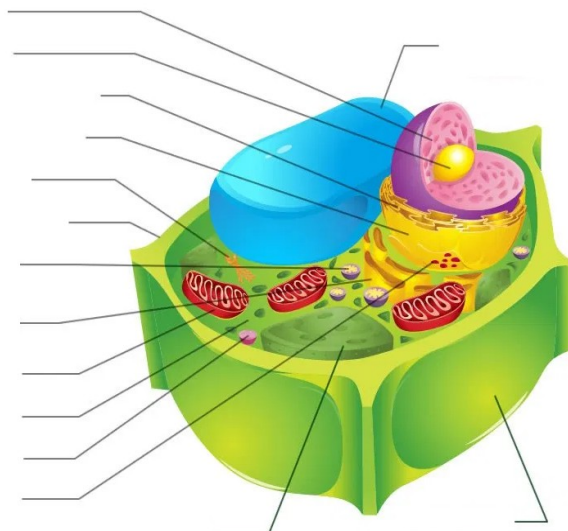


4. Indica el nombre de los orgánulos de ambas células:

**CÉLULA ANIMAL**



**CÉLULA VEGETAL**



5. Define 5 orgánulos de la célula eucariota, e ilústralos con dibujos.

Orgánulo 1

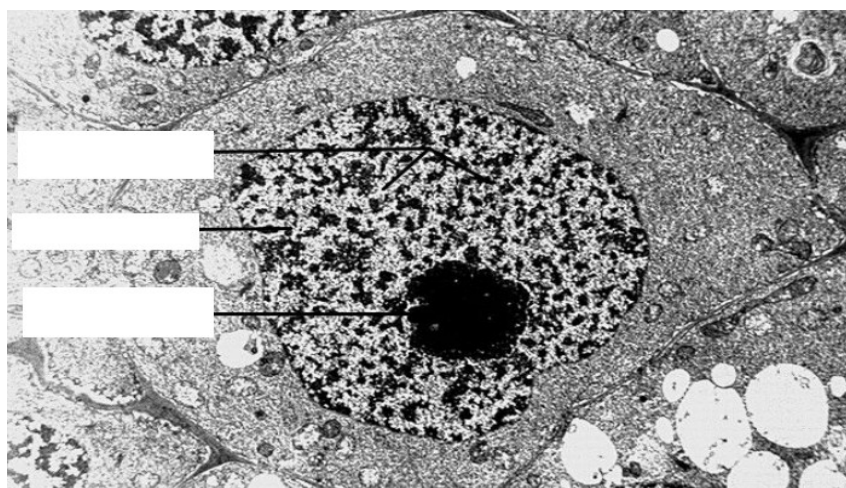
orgánulo 2

orgánulo 3

orgánulo 4

orgánulo 5

6. Qué es la figura de la imagen y cita sus partes:



7. Dibuja un cromosoma y cita sus partes.

8. ¿Qué son los cromosomas sexuales o heterocromosomas?

9. Explica la formación de los gametos.

10. ¿Cómo se llama el siguiente proceso celular?. Explica cada fase

