

FICHA 13

Nombre _____ Fecha _____

Cálculo mental

$40 + 34 = 74$ $50 + 48 = 98$ $11 + 80 = 91$ $21 + 60 = 81$

$20 + 71 = 91$ $74 + 10 = 84$ $70 + 25 = 95$ $50 + 37 = 87$

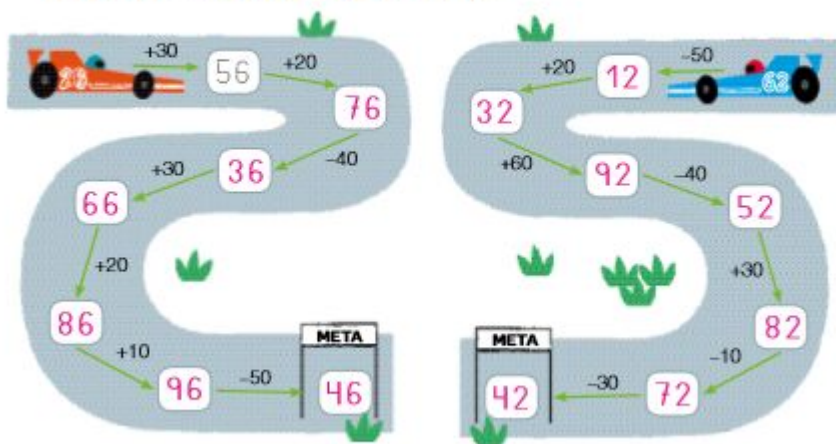
$30 + 65 = 95$ $60 + 29 = 89$ $80 + 16 = 96$ $10 + 82 = 92$

$57 - 40 = 17$ $29 - 20 = 9$ $86 - 50 = 36$ $97 - 80 = 17$

$83 - 60 = 23$ $45 - 20 = 25$ $72 - 30 = 42$ $94 - 70 = 24$

$61 - 10 = 51$ $91 - 40 = 51$ $88 - 50 = 38$ $16 - 10 = 6$

1 **Calcula y completa cada circuito. Puedes utilizar tu tabla numérica si la necesitas.**

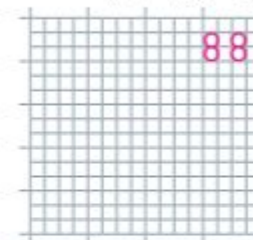
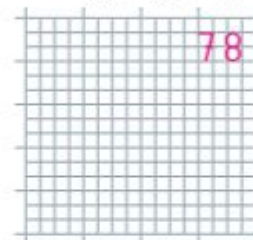
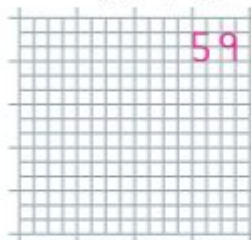


2 **Inventa un problema para cada suma y calcula.**

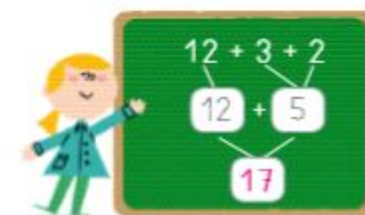
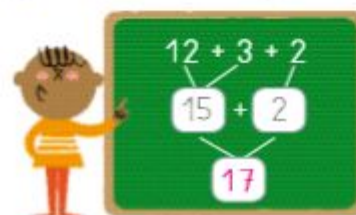
$35 + 3 + 21$

$22 + 44 + 12$

$71 + 13 + 4$



3 **Observa, calcula y contesta.**



¿Qué operación han realizado los niños? $12 + 3 + 2$

¿Cuál es el resultado de la operación en los dos casos? 17

¿Han resuelto la operación de la misma forma? No

¿Importa el orden en el que se realicen las sumas? No

4 **Completa la serie.**



FICHA 14

Nombre _____ Fecha _____

Cálculo mental

$47 + 23 = 70$	$16 + 14 = 30$	$68 + 12 = 80$	$24 + 66 = 90$
$51 + 49 = 100$	$35 + 25 = 60$	$25 + 25 = 50$	$19 + 81 = 100$
$37 + 53 = 90$	$43 + 57 = 100$	$28 + 72 = 100$	$14 + 36 = 50$

$59 - 52 = 7$	$98 - 94 = 4$	$43 - 41 = 2$	$34 - 34 = 0$
$37 - 35 = 2$	$89 - 83 = 6$	$19 - 16 = 3$	$89 - 80 = 9$
$21 - 20 = 1$	$68 - 63 = 5$	$76 - 73 = 3$	$99 - 91 = 8$

1 Completa la serie.



2 Escribe la operación que corresponda en cada caso.

63	-5	58	-2	56	-3	53	-2	51
28	+2	30	+5	35	+1	36	+3	39
79	-3	76	-1	75	+5	80	-2	78

CÁLCULO Y OPERACIONES

3 Calcula. Después, colorea los resultados en el casillero para ayudar al oso a encontrar la miel.

$17 + 25 + 43$ 85	$21 + 9 + 36$ 66	$72 + 15 + 8$ 95
$27 + 14 + 31$ 72	$54 + 26 + 9$ 89	$63 + 8 + 25$ 96
$28 + 41 + 6$ 75	$16 + 31 + 35$ 82	$37 + 3 + 21$ 61

85	4	55	88	34
31	66	43	61	64
28	95	16	73	12
51	19	72	96	77

FICHA 15

Nombre _____ Fecha _____

1 Observa y escribe cuántos vasos hay. Después, contesta.



¿Cuántos vasos ha hecho aparecer el mago? 20

Para calcular cuántos vasos han aparecido,

¿tienes que sumar o restar? Tengo que restar.

2 Inventa otros datos diferentes a los anteriores.

Después, escribe la pregunta y resuelve el problema. R. L.

En la mesa había vasos. El mago dijo las palabras mágicas y... ¡ahora hay vasos!

DATOS

OPERACIÓN

SOLUCIÓN

3 Marca la pregunta más adecuada para esta situación.

Luisa tenía 73 chapas. Su hermano le regaló todas sus chapas. Ahora Luisa tiene 98 chapas.



- ¿De quién eran las chapas?
- ¿Cuántas chapas tenía Luisa?
- ¿Cuántas chapas le regaló su hermano?

Subraya los datos del problema y escríbelos.

Tenía 73 chapas.

Ahora tiene 98 chapas.

Vuelve a leer la pregunta que has marcado y resuelve el problema.

RAZONAMIENTO

OPERACIÓN

Hay que averiguar...

- el total
- la diferencia

Hay que...

- sumar
- restar

$98 - 73 = 25$

SOLUCIÓN

Su hermano le

regaló 25 chapas.

