

**Rutinas**

Corrección tareas día anterior: Número del día y serie.

Cálculo mental: Revisar banco de rutinas semanal.

**Magnitudes y medida: El peso.**


Explicación: <https://www.youtube.com/watch?v=nLaawmrDq74>

**Teoría para tu cuaderno:** Imprime y pega en tu cuaderno o cópialo. ¡No olvides poner la fecha y haz buena letra! 😊


**EL PESO**

Para pesar los objetos usamos la balanza o la báscula.  
Expresamos esta medida en **kilogramos** o kilos.

1 kilo ► 1 kg




La balanza está equilibrada.  
El paquete de azúcar pesa 1 kg.



Las manzanas pesan en total 1 kg.


Cuando pesamos objetos de menos de 1 kilo, usamos unidades más pequeñas: el medio kilo (1/2 kg) y el cuarto de kilo (1/4 kg).

1 kilo = 2 medios kilos



$$1 \text{ kg} = 1/2 \text{ kg} + 1/2 \text{ kg}$$

1 kilo = 4 cuartos de kilo



$$1 \text{ kg} = 1/4 \text{ kg} + 1/4 \text{ kg} + 1/4 \text{ kg} + 1/4 \text{ kg}$$


**¡Practica!** Mira este vídeo y si es posible, practica en casa haciendo tu propia balanza casera.

Vídeo: <https://www.youtube.com/watch?v=ARxGobBGWSw>

**Actividades para tu cuaderno:** Copia y realiza las siguientes actividades en tu cuaderno. No hace falta hacer los dibujos, puedes sustituirlos con la palabra que representan.

**RECUERDA:** Hay que copiar los enunciados y leerlos atentamente para saber qué hay que hacer.

1 Observa las balanzas y escribe más o menos.



El bocadillo pesa  de 1 kilo.

La sandía pesa  de 1 kilo.

2 Piensa y rodea.




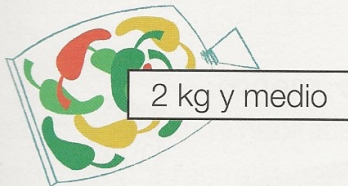

Pesa más de 1 kg.




Pesa menos de 1 kg.



3 Calcula y une.



4 Observa el dibujo, piensa y contesta.



• ¿Cuántas naranjas pesan 1 kg?

• Paco compró 2 kg de naranjas. ¿Cuántas naranjas compró?

• Patricia compró medio kilo de naranjas. ¿Cuántas compró?