

Materia: GEOGRAFÍA E HISTORIA (1º ESO)

Tareas **1ª EVALUACIÓN**

Contenido: **LOS CLIMAS DEL MUNDO (III): LOS CLIMAS SECOS**

Ficha: **1 de 4**

ALUMNO/A:

Prof. Guardia:

Apoyo Libro de Texto (sí): tema 6, pp. 80-81

FECHA Y HORA:

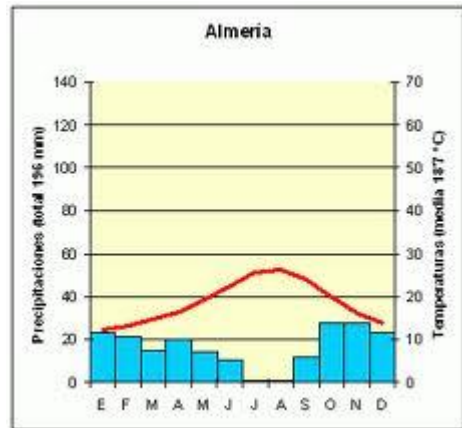
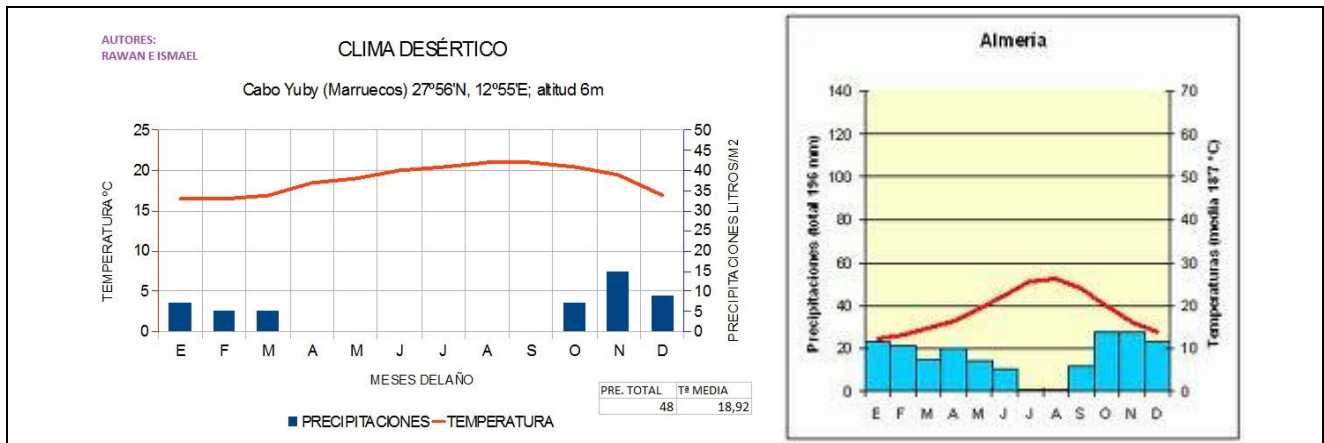


Fichas de trabajo ESO-Aula de Convivencia by Mª Begoña García Pérez is licensed under a [Creative Commons Reconocimiento-NoComercial-CompartirIgual 4.0 Internacional License](https://creativecommons.org/licenses/by-nc-sa/4.0/).

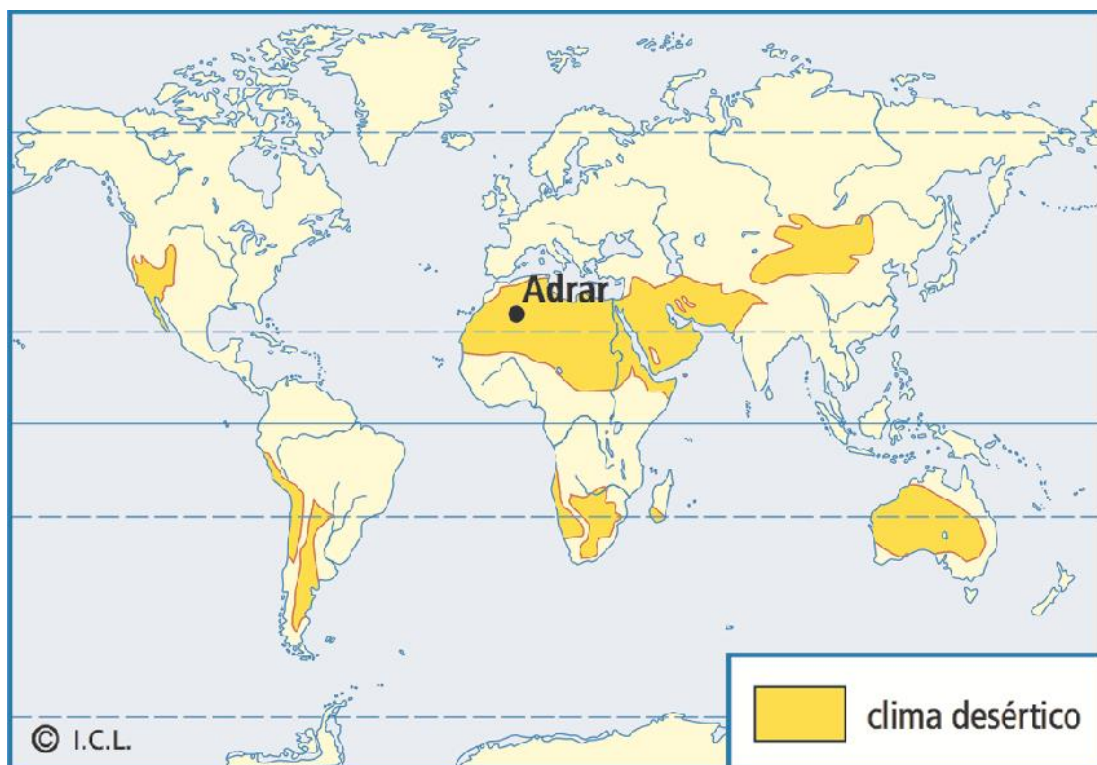
TEORÍA
CLIMAS DEL MUNDO: LOS CLIMAS SECOS

CARACTERÍSTICAS		FORMACIÓN VEGETAL	FLORA	LOCALIZACIÓN	
TEMPERATURAS	PRECIPITACIONES			SITUACIÓN	REGIONES Y PAÍSES
DESÉRTICO CÁLIDO O TROPICAL (CLIMA CÁLIDO ÁRIDO)					
<p>CALUROSAS. Variaciones bruscas de Tª diarias. TMA >27º durante el día, puede ser <0º por la noche. AT alta de día. Inviernos tibios, moderados y veranos calurosos. Heladas de noche.</p>	<p>ESCASAS (TPA <250 mm), la evaporación dobla el TPA. Más seco el verano. Mes + árido P<100 mm</p>	<p>DESIERTO: vegetación pobre, rala, escasa, xeromórfica. Donde aflora agua, OASIS.</p>	<p>CACTUS, ESPARTO, NOPAL, MATORRAL ESPINOSO, ARTEMISAS, PALMERAS DATILERAS</p>	<p>15º-30º de lat. aprox</p>	<p>Al Norte y Sur de los Trópicos en África, América y Australia. SAHARA, PROXIMO ORIENTE, OESTE Y CENTRO DE AUSTRALIA</p>
DESÉRTICO FRÍO (CLIMA TEMPLADO SEMIÁRIDO)					
<p>CÁLIDAS EN VERANO, FRESCAS O FRÍAS EN INVIERNO. TMA moderada o fresca. AT muy alta. Variaciones bruscas de Tª diarias. Heladas en invierno.</p>	<p>ESCASAS (TPA >250 mm), la evaporación supera pero no dobla el TPA Más seco el invierno. Mes + árido P>100 mm</p>	<p>DESIERTO: vegetación pobre, rala, escasa, xeromórfica. ESTEPA: degradación árida de formaciones arbustivas mediterráneas o continentales</p>	<p>CACTUS, ESPARTO, NOPAL, MATORRAL ESPINOSO, ARTEMISAS</p>	<p>30º-60º lat.</p>	<p>NAMIBIA, KALAHARI, DESIERTO DE NUEVO MÉXICO, NORTE DE CHILE, ALTIPLANOS ANDINOS, PATAGONIA, MONGOLIA Y NORTE DE CHINA, TAKLA MAKAN, ARAL, KARAKUM</p>

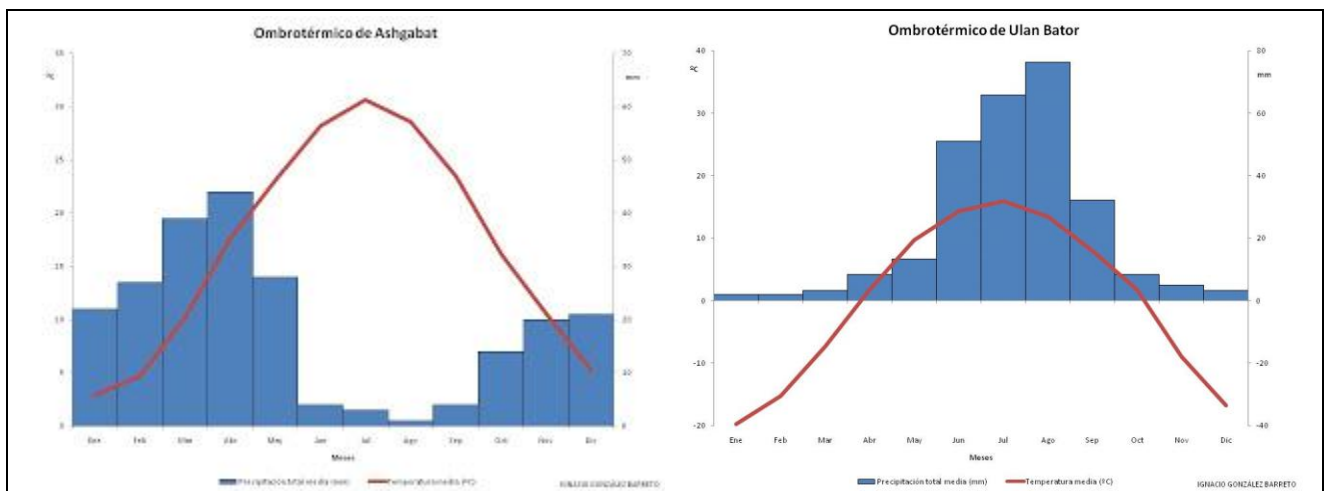
En latitudes medias aparecen climas templados desérticos como degradación árida del clima mediterráneo o del clima continental y vinculados a regiones desérticas con escasez de precipitaciones, debido a factores tales como situación al abrigo de pantallas montañosas (por ejemplo, el Tibet), litorales bañados por corrientes marinas frías (por ejemplo, Namibia) o procesos de deforestación y desertificación (región mediterránea). Aunque son climas áridos, la sensación de sequedad no es acusada por la moderación térmica, por la importante amplitud térmica e incluso puede tener meses con precipitaciones moderadas. Ejemplos de desiertos templados son Karakum (Turkmenistán) y Gobi (China y Mongolia) en Asia, Nevada (EE.UU.) y Patagonia (Argentina) en América y Namib (Namibia) y Kalahari (Botswana) en África.



Climogramas ejemplo del clima desértico cálido (Cabo Yuby, Mauritania) (tercerciclopitres.blogspot.com) y semiárido por degradación del clima mediterránea (Almería, España) (www.recursosacademicos.net)



<http://juanbascon.blogspot.com/es/> del libro de texto de Vicens Vives (Demos 1º ESO)



Climogramas desérticos templados: Ashgabat (Karakum, Turkmenistán) degradación del clima cálido subtropical y Ulan Bator (Gobi, Mongolia), degradación del clima continental. (<http://socialesmauxiliadora.blogspot.com.es/>)

Materia: GEOGRAFÍA E HISTORIA (1º ESO)

Tareas **1ª EVALUACIÓN**

Contenido: **LOS CLIMAS DEL MUNDO (III): LOS CLIMAS SECOS**

Ficha: **1 de 4**

ALUMNO/A:

Prof. Guardia:

Apoyo Libro de Texto (sí): tema 6, pp. 80-81

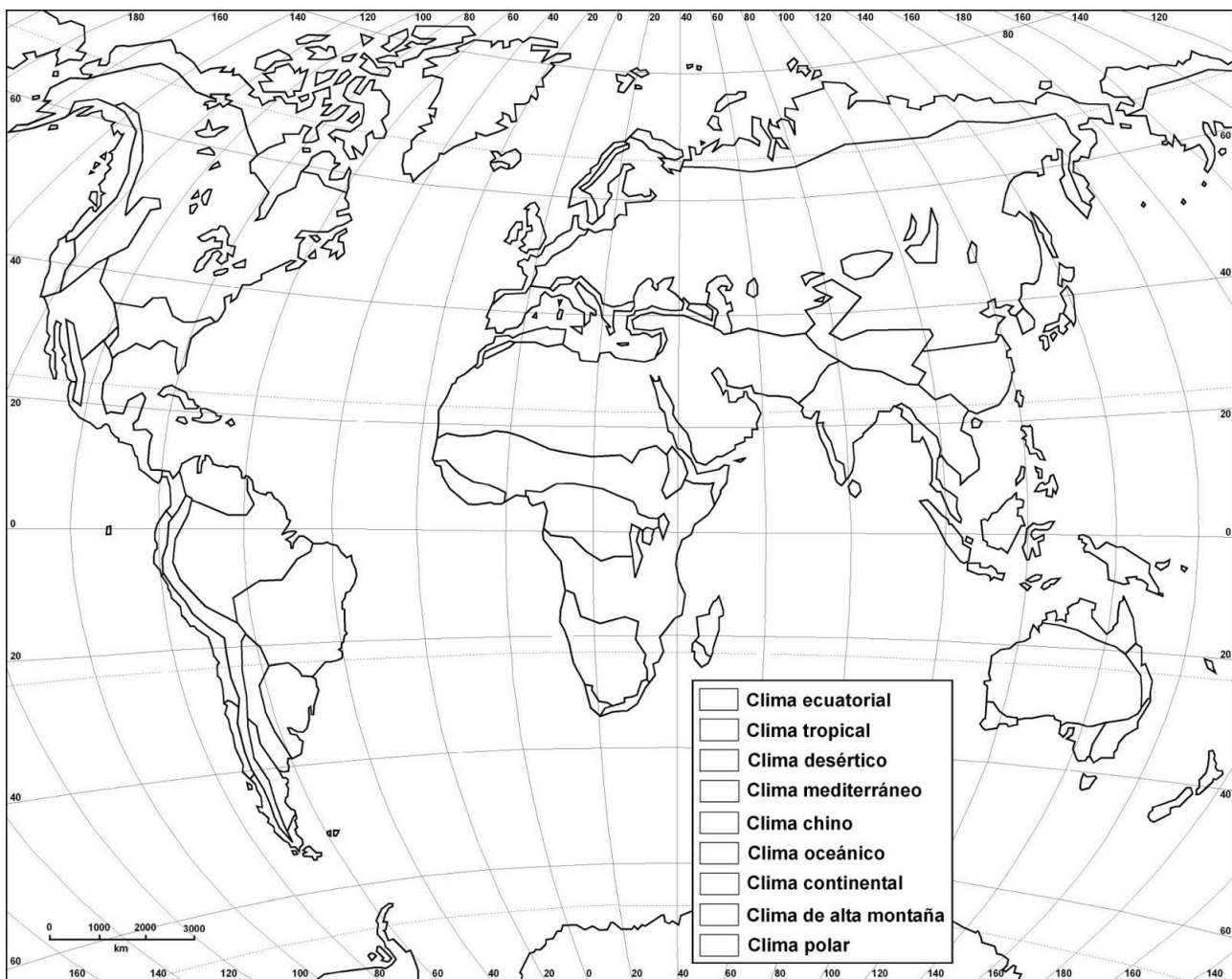
FECHA Y HORA:



Fichas de trabajo ESO-Aula de Convivencia by Mª Begoña García Pérez is licensed under a [Creative Commons Reconocimiento-NoComercial-CompartirIgual 4.0 Internacional License](https://creativecommons.org/licenses/by-nc-sa/4.0/).


EJERCICIOS
CLIMAS DEL MUNDO: LOS CLIMAS SECOS

1. Pinta en el mapamundi mudo las regiones correspondientes a los climas desérticos y elabora la leyenda.



<http://epilatlaseo.blogspot.com.es/>

2. Observa el mapa y nombra al menos cuatro países a los que corresponden el clima desértico cálido y desértico frío.
3. Observa las fotografías e identifica los paisajes desérticos: desiertos arenoso, pedregoso, de altitud, estepa mediterránea, estepa continental.



4. Completa el cuadro de los climas secos con sus datos característicos.

CLIMA		
TEMPERATURAS		
PRECIPITACIONES		
PAISAJE VEGETAL		
DOS ESPECIES		
SITUACIÓN		
DOS REGIONES		

VALORACIÓN DEL PROFESOR DE GUARDIA		¿Trabaja?	SI	NO
OBSERVACIONES				