

Materia: GEOGRAFÍA E HISTORIA (2º ESO)

Tareas **3ª EVALUACIÓN**

Contenido: **EL CRECIMIENTO DE LA POBLACIÓN ACTUAL**

Ficha: 1 de 4

ALUMNO/A:

Prof. Guardia:

Apoyo Libro de Texto (no)

FECHA Y HORA:

 Fichas de trabajo ESO-Aula de Convivencia by Mª Begoña García Pérez is licensed under a [Creative Commons Reconocimiento-NoComercial-CompartirIgual 4.0 Internacional License](https://creativecommons.org/licenses/by-nc-sa/4.0/).

TEORÍA

PROBLEMAS ACTUALES DE LA POBLACIÓN: EL CRECIMIENTO

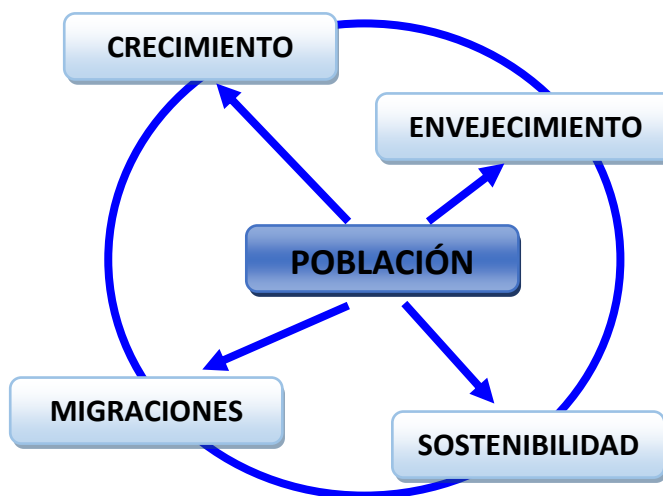
La **población** es el conjunto de personas que habitan un territorio y la **demografía** es la ciencia que la estudia. La población mundial no ha dejado de crecer desde los orígenes de la Humanidad hasta nuestros días, pero el incremento de la misma ha sido espectacular en los dos últimos siglos. Ante el aumento de la población mundial, la demografía se interesa por cuatro **problemas** principales:

- 1) El **crecimiento de la población** en el mundo subdesarrollado;
- 2) El **envejecimiento de la población** en los países desarrollados;
- 3) Las **migraciones**, sobre todo aquellas que conectan al Norte desarrollado y el Sur subdesarrollado; y
- 4) Cómo **alimentar a la población mundial** y hacerlo **de manera sostenible** para el planeta.

LA DEMOGRAFÍA

Es la **CIENCIA** que estudia la **POBLACIÓN** y sus variables

HÁBITAT de un territorio concreto
DIMENSIONES
ESTRUCTURA interna
EVOLUCIÓN Y CARACTERÍSTICAS
 (Crecimiento)
DISTRIBUCIÓN espacial
RELACIONES de las poblaciones en el mundo (**MOVIMIENTOS MIGRATORIOS**)



DIMENSIONES ACTUALES DE LA POBLACIÓN MUNDIAL

Según fuentes de la ONU (*Perspectivas demográficas mundiales de la ONU, revisión de 2015*) a mediados de **2015**, la población mundial alcanzó los **7.300 millones de personas**, habiéndose aumentado en los últimos 12 años en 1.000 millones la población mundial. Este crecimiento se ha producido en gran medida por el aumento del número de personas que sobreviven hasta llegar a la edad reproductiva, lo que ha aumentado los procesos de urbanización y los movimientos migratorios.

Un 60% de la población mundial vive en Asia (4.400 millones), un 16% en África (1.200 millones), un 10% en Europa (738 millones), un 9% en Latinoamérica y el Caribe (634 millones) y el 5% restante en América del Norte (358 millones) y Oceanía (39 millones). China (1.400 millones) e India (1.300 millones) continúan siendo los países con mayor población. Ambos cuentan con más de 1.000 millones de personas y representan el 19% y 18% de la población mundial respectivamente.

ASIA	ÁFRICA	EUROPA	AMÉR. LATINA y CARIBE	Norte AMÉR + OCEAN
60%	16%	10%	9%	5%
4.400 millones de habitantes	1.200 m.	738 m.	634 m.	39 m.

EL CRECIMIENTO FUTURO DE LA POBLACIÓN MUNDIAL

Está previsto que la población mundial aumente en más de 1.000 millones de personas en los próximos 15 años, por lo que se alcanzarían los 8.500 millones en 2030, **9.700 millones en 2050** y **11.200 millones en 2100**. Estas proyecciones se basan en la variante media de la proyección de



fecundidad, que contempla un **descenso de la fecundidad** en los países donde aún predominan las familias numerosas y un ligero aumento en países en los que la media de fecundidad es inferior a dos hijos por mujer. También se prevé que **mejoren** las posibilidades de **supervivencia** en todos los países.

Se prevé que **más de la mitad del crecimiento demográfico mundial** desde hoy hasta 2050 tenga lugar en **África**. Este continente cuenta con la tasa de crecimiento demográfico más alta en sus principales regiones, la cual aumenta a un ritmo del 2,55%

anual de 2010 a 2015. Por tanto, se prevé un rápido aumento de la población, incluso si se reducen considerablemente los niveles de fecundidad en los próximos años. A pesar de la incertidumbre que existe en torno a las próximas tendencias de fecundidad en África, hay un gran número de jóvenes en este continente que alcanzarán la edad adulta en pocos años y también tendrán hijos, por lo que esta región desempeñará un papel esencial en cuanto a las dimensiones y la distribución de la población mundial en las décadas venideras.

Está previsto que **Asia se convierta en el segundo continente** que más contribuya al crecimiento de la población mundial, con una aportación de 900 millones de personas entre 2015 y 2050.

Materia: GEOGRAFÍA E HISTORIA (2º ESO)

Tareas **3ª EVALUACIÓN**

Contenido: **EL CRECIMIENTO DE LA POBLACIÓN ACTUAL**

Ficha: 1 de 4

ALUMNO/A:

Prof. Guardia:

Apoyo Libro de Texto (no)

FECHA Y HORA:

 Fichas de trabajo ESO-Aula de Convivencia by Mª Begoña García Pérez is licensed under a [Creative Commons Reconocimiento-NoComercial-CompartirIgual 4.0 Internacional License](https://creativecommons.org/licenses/by-nc-sa/4.0/).

En marcado contraste con los datos anteriores, **Europa disminuye en población**. La tasa de fecundidad de todos los países europeos está hoy en día muy por debajo de la necesaria para garantizar el reemplazo de la población a largo plazo. (la media es de 2,1 niños por mujer) y, en la mayoría de los casos, este fenómeno lleva ocurriendo varias décadas.

FACTORES QUE INCIDEN EN EL CRECIMIENTO DE LA POBLACIÓN MUNDIAL.

Tasas de fecundidad

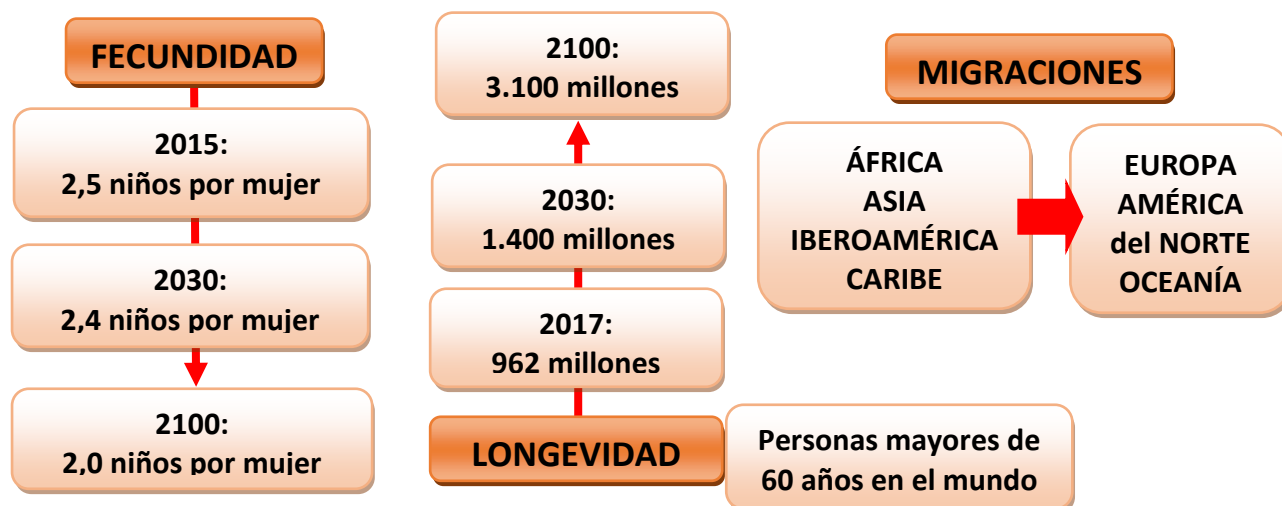
Se espera que el nivel mundial de fecundidad **descienda suavemente** de 2,5 niños por mujer en el período 2010-2015 a 2,4 en el período 2025-2030 y a 2,0 en 2095-2100. Los países con índices bajos de fecundidad incluyen todos los de Europa y América del Norte, además de 20 países de Asia, 17 de Latinoamérica y el Caribe, 3 en Oceanía y 1 en África.

Aumento de la longevidad

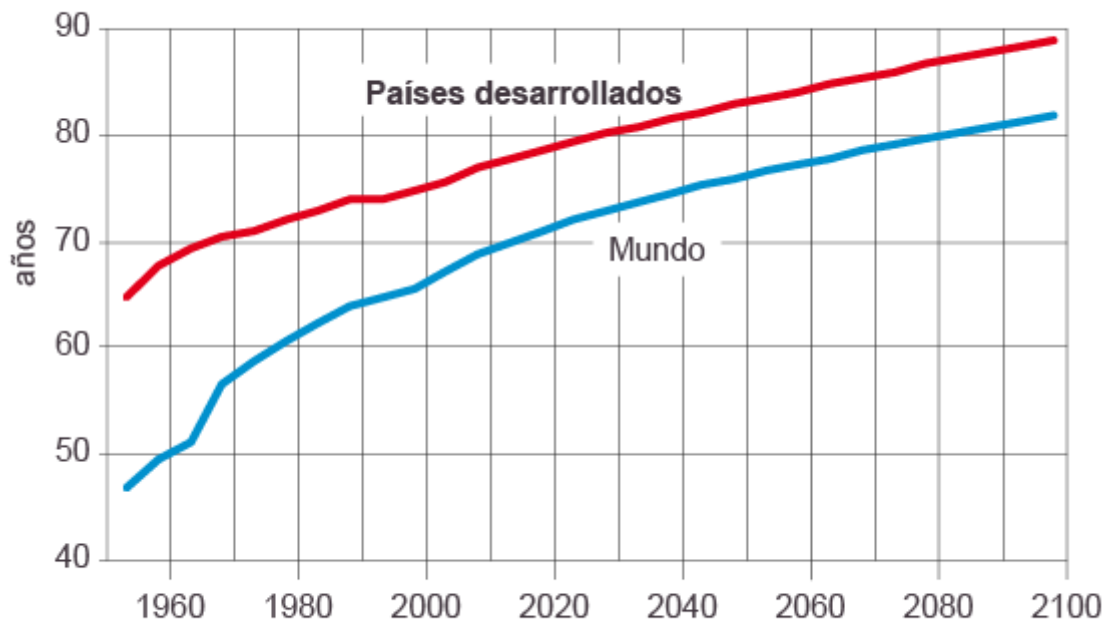
En general, se ha conseguido **aumentar la esperanza de vida** considerablemente en los últimos años. En todo el mundo, la esperanza de vida al nacer ha aumentado en 3 años, por lo que ha pasado de 67 a 70. El mayor cambio ha tenido lugar en África. La esperanza de vida en África en el período 2010-2015 era de 60 años, en comparación a los 72 años en Asia, los 75 en Latinoamérica y el Caribe, 77 en Europa y Oceanía, y 79 en América del Norte.

Migración internacional

La migración internacional es un fenómeno que tiene influencia significativa en los países que envían o reciben de una manera proporcional un número de **migrantes económicos** o aquellos países más afectados por los movimientos de **refugiados**. En términos generales, entre 1950 y 2015, las zonas principales de Europa, América del Norte y Oceanía han sido receptores netos de migrantes internacionales, mientras que África, Asia y Latinoamérica y el Caribe han sido emisores netos, con un volumen de migración neto que generalmente iba aumentando con el tiempo.



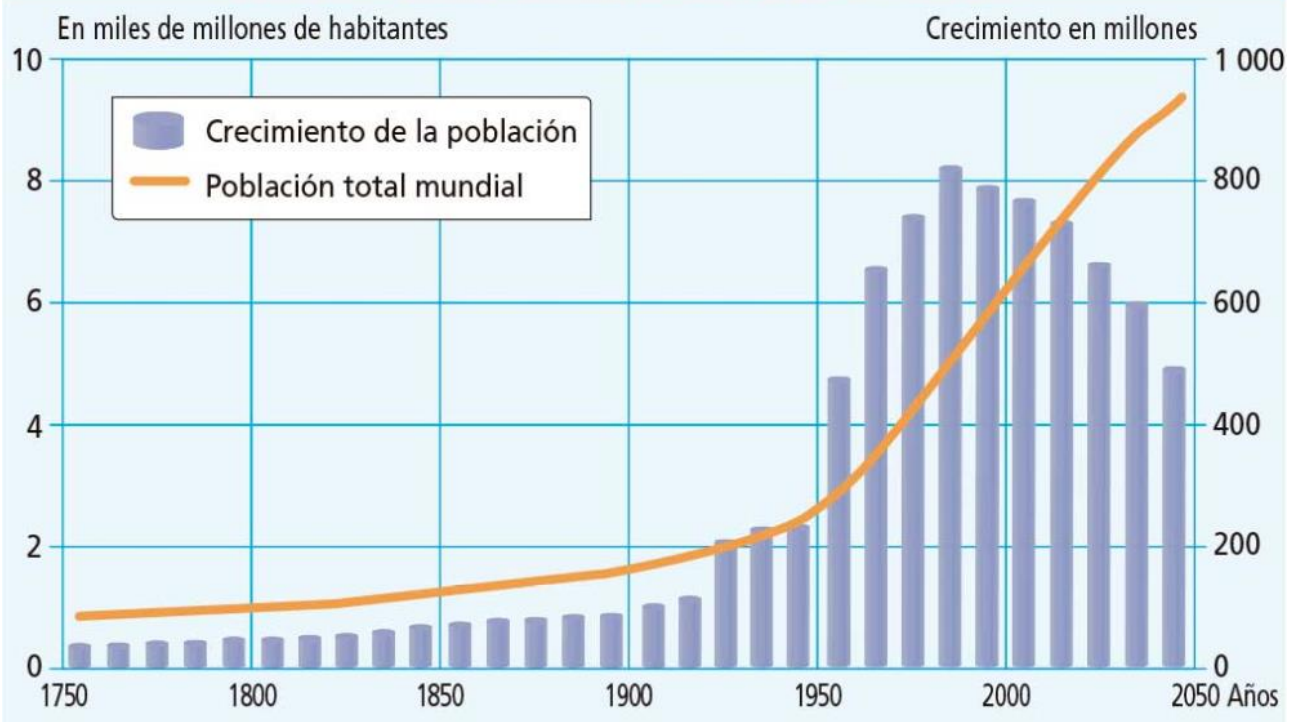
ESPERANZA DE VIDA AL NACER



Fuente: Departamento de Economía y Asuntos Sociales de EE UU.

EL PAÍS

EVOLUCIÓN DE LA POBLACIÓN MUNDIAL



<https://www.blinklearning.com>

Aunque el ritmo de crecimiento disminuya a partir de los años 90 del siglo pasado, la población seguirá creciendo puesto que el volumen de población es elevado entre la población en edad fértil en el mundo.

Materia: GEOGRAFÍA E HISTORIA (2º ESO)

Tareas **3ª EVALUACIÓN**

Contenido: **EL CRECIMIENTO DE LA POBLACIÓN ACTUAL**

Ficha: 1 de 4

ALUMNO/A:

Prof. Guardia:

Apoyo Libro de Texto (no)

FECHA Y HORA:



Fichas de trabajo ESO-Aula de Convivencia by Mª Begoña García Pérez is licensed under a [Creative Commons Reconocimiento-NoComercial-CompartirIgual 4.0 Internacional License](https://creativecommons.org/licenses/by-nc-sa/4.0/).

EJERCICIOS

1. Completa los cuadros con las palabras que faltan:

LA DEMOGRAFÍA

Es la C..... que estudia la
P..... y sus variables

H..... de un territorio concreto

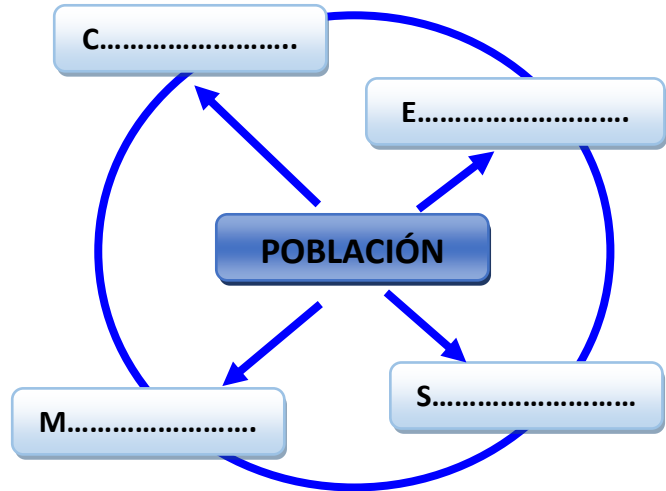
D.....

E..... interna

E..... Y CARACTERÍSTICAS
(Crecimiento)

D..... espacial

R..... de las poblaciones en el
mundo (MOVIMIENTOS M.....)



2. ¿Cuáles de los 4 problemas demográficos actuales te parece que puede estar más interesada la sociedad española? ¿Por qué?

3. ¿Cuánta población existía en el mundo en 2015? ¿Cuánta se espera que haya en 2050? ¿Y en el 2100?

4. Completa la tabla “población actual por continentes” con los datos que faltan:

ASIA	ÁFRICA	EUROPA	AMÉR. LATINA y CARIBE	Norte AMÉ RICA + OCEANÍA

5. Contesta las siguientes preguntas sobre el futuro demográfico.

- ¿Con qué tendencias sobre las dos variables demográficas naturales cuentan las proyecciones de crecimiento?
- ¿En qué continente se va a producir el mayor crecimiento de población? ¿De qué orden?
- ¿Cuál será el 2º continente en mayor crecimiento?
- ¿Qué ocurrirá con Europa?

6. Completa los cuadros sobre los factores que inciden en el crecimiento con las palabras que faltan:



7. Comenta la gráfica “Esperanza de vida al nacer”: observa qué valores se alcanzan para 2015 en años de vida en el mundo y en los países desarrollados y qué tendencia se muestra para 2100.

8. Comenta la gráfica “Evolución de la población mundial”: observa los valores para 1990, 2010 y 2050 y señala las tendencias.

VALORACIÓN DEL PROFESOR DE GUARDIA	¿Trabaja?	SI	NO
OBSERVACIONES			