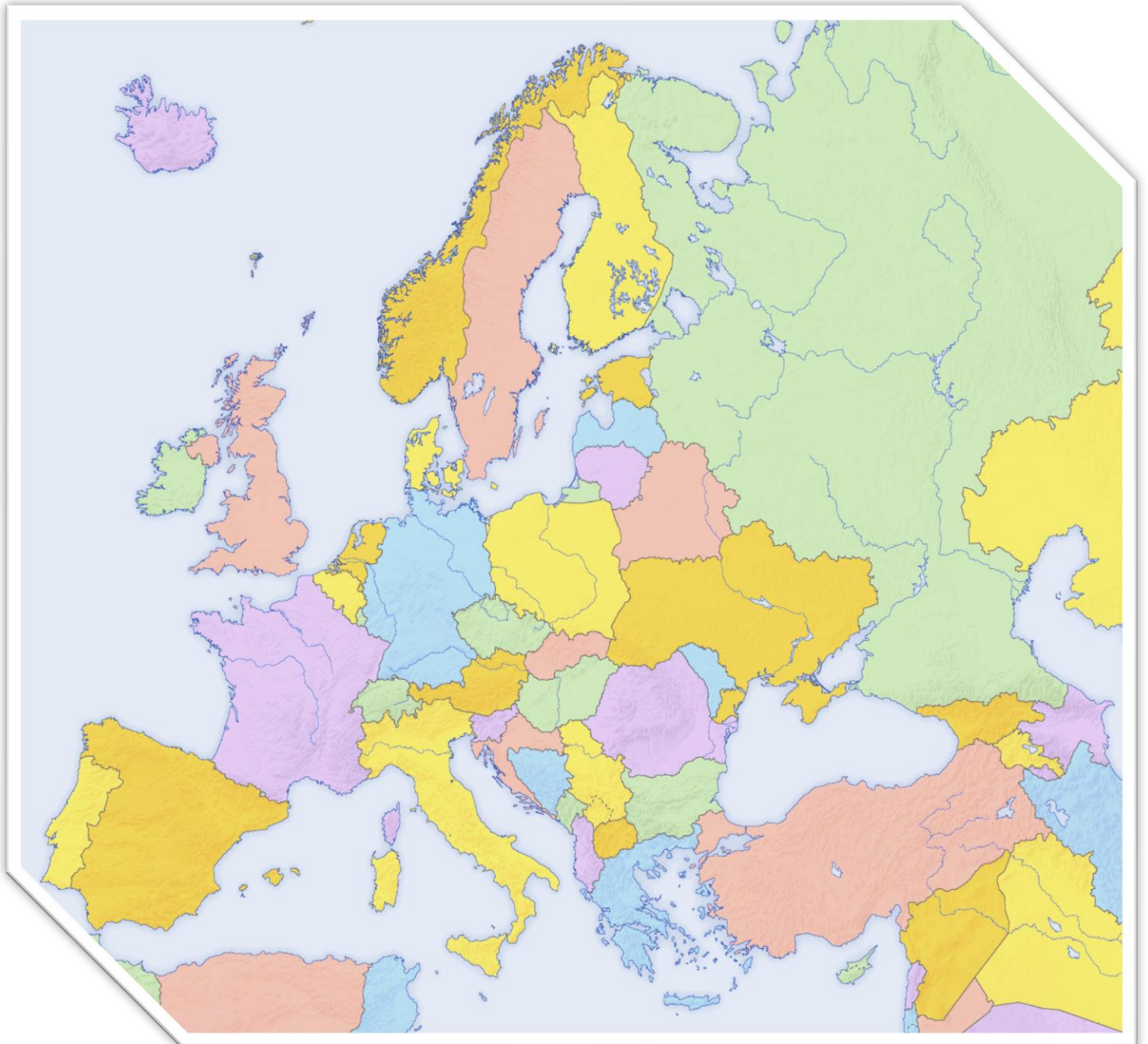


TEMA 6: EUROPA POLÍTICA



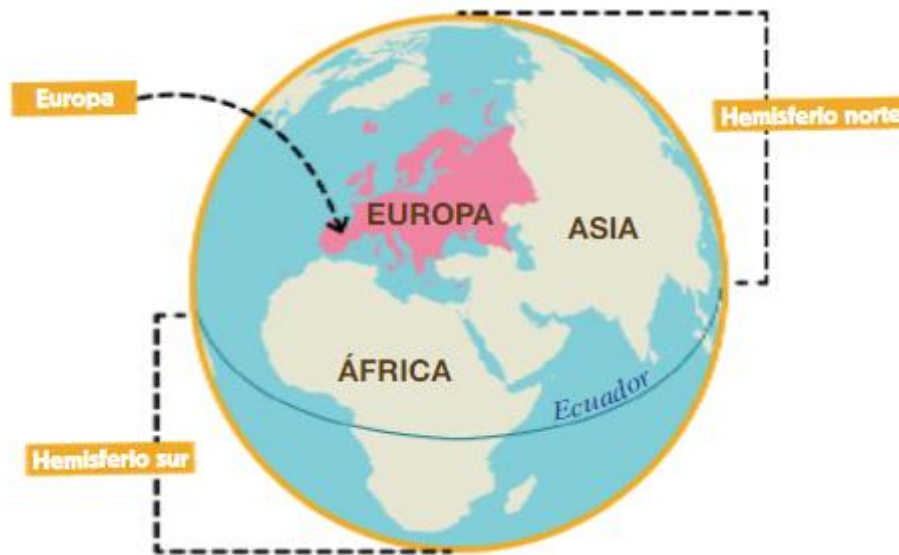
TEMA 6: EUROPA POLÍTICA

- I. NUESTRO CONTINENTE EUROPA
- II. PRINCIPALES PAÍSES Y CAPITALES

TEMA 6: EUROPA POLÍTICA

I. NUESTRO CONTINENTE EUROPA

Europa es un continente que se sitúa en el hemisferio norte de nuestro planeta Tierra.



Comparado con otros continentes, tiene un tamaño pequeño.

Europa es el segundo continente más pequeño del mundo tras Oceanía. En realidad se trata de una gran península situada en el Hemisferio Norte al oeste del bloque continental de Eurasia.





Vamos a estudiar ahora sus límites:

Limita al norte con el océano Glacial Ártico; al sur con el Cáucaso, el mar Negro y el mar Mediterráneo; al este con los montes Urales, el río Ural y el mar Caspio; y al oeste con el océano Atlántico.

Cuenta con 10.530.751 kilómetros cuadrados, lo que representa el 2% de la superficie de la Tierra.

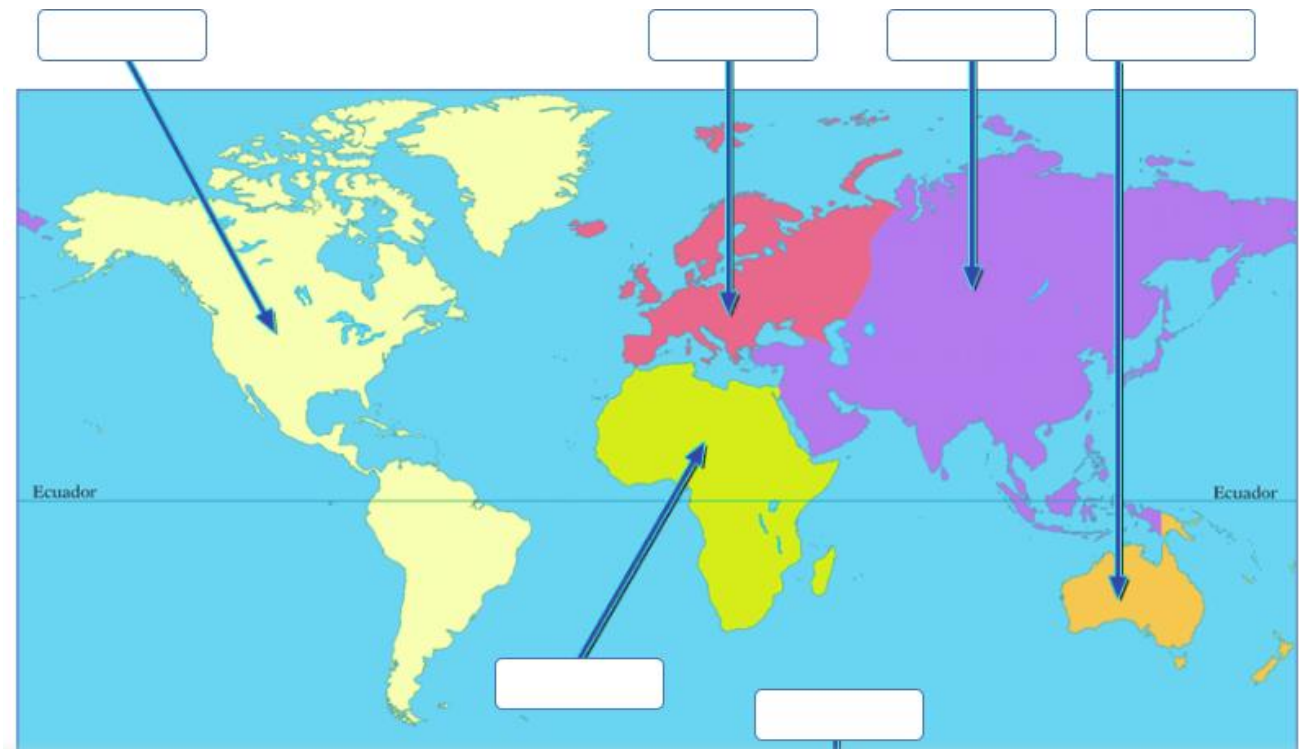


Localización y límites de Europa



ACTIVIDADES:

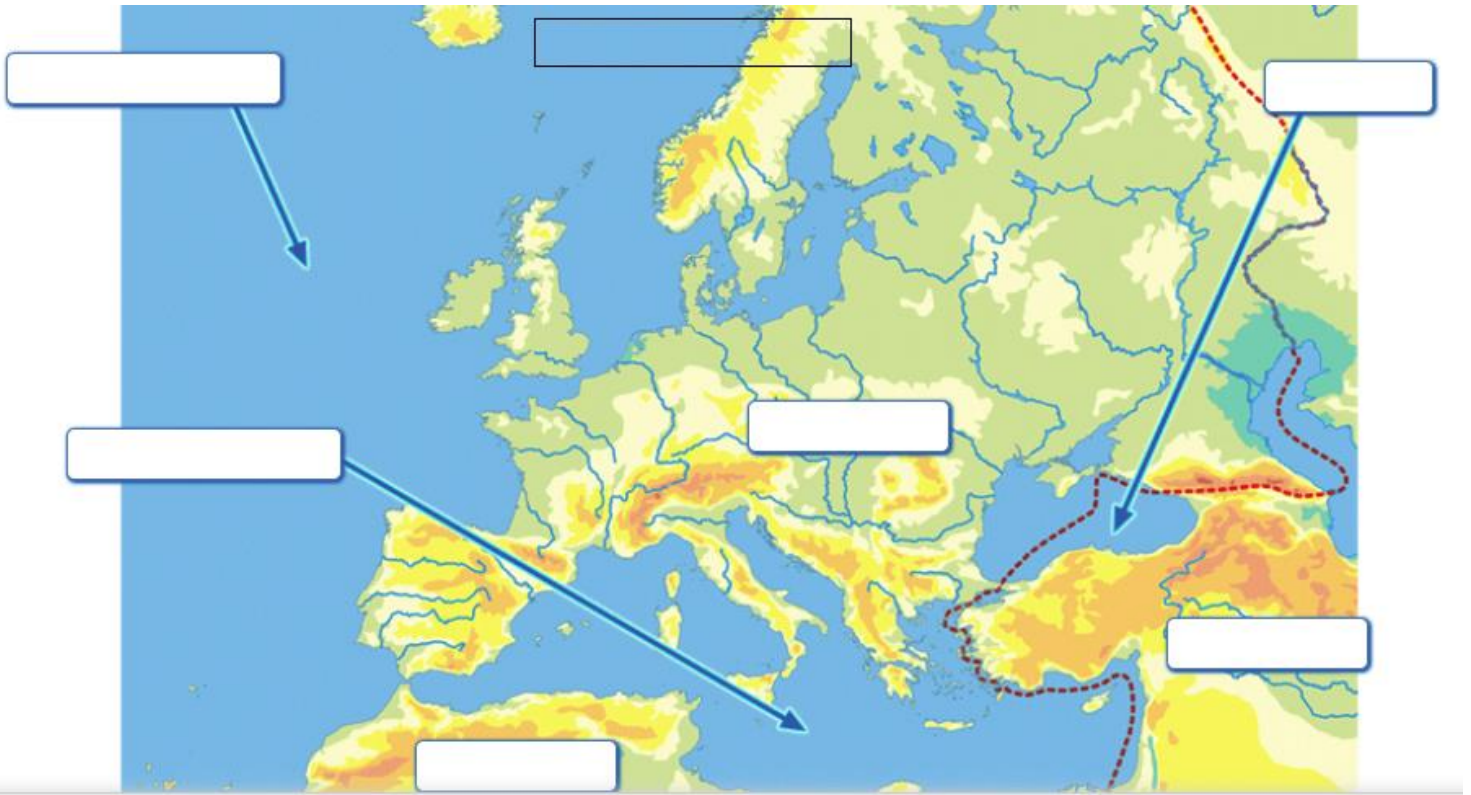
1. Escribe el nombre de cada continente y escribe con rojo Europa.



2. Colorea Europa.



3. Escribe los límites de Europa:



4. Responde a estas preguntas:

- a) ¿En qué hemisferio se encuentra Europa?
- b) ¿Es el continente más pequeño? ¿Cuál es el continente más pequeño?
- c) ¿Cuántos continentes hay? ¿En cuál está España?

II. PRINCIPALES PAÍSES Y CAPITALES

El continente europeo está formado por 50 países. De ellos 43 son propiamente europeos y los 7 restantes se consideran euroasiáticos por encontrarse entre Asia y Europa.

Hay países **muy extensos** como Rusia y otros **muy pequeños** como Ciudad del Vaticano.

















Europa tiene una extensión de más de diez millones de km².




En nuestro continente viven aproximadamente unos 750 millones de habitantes.




















La población no se reparte de forma igual por el continente y unos países tienen más población que otros. Así podemos diferenciar:

- **Países más poblados de Europa** (en el centro del continente): Países Bajos, Bélgica, Reino Unido, Alemania...
- **Países menos poblados de Europa** (en el norte): Finlandia, Suecia, Estonia y Letonia.

N.º	PAÍS	CAPITAL
1	 Albania	Tirana
2	 Alemania	Berlín
3	 Andorra	Andorra La Vieja
4	 Armenia (*)	Ereván
5	 Austria	Viena
6	 Azerbaiyán (*)	Bakú
7	 Bélgica	Bruselas
8	 Bielorrusia	Minsk
9	 Bosnia y Herzegovina	Sarajevo
10	 Bulgaria	Sofía
11	 Chipre (*)	Nicosia
12	 Ciudad del Vaticano	Ciudad del Vaticano
13	 Croacia	Zagreb
14	 Dinamarca	Copenhague
15	 Eslovaquia	Bratislava
16	 Eslovenia	Liubliana

17	 España	Madrid
18	 Estonia	Tallín
19	 Finlandia	Helsinki
20	 Francia	París
21	 Georgia (*)	Tiflis
22	 Grecia	Atenas
23	 Hungría	Budapest
24	 Irlanda	Dublín
25	 Islandia	Reikiavik
26	 Italia	Roma
27	 Kazajistán (*)	Astaná
28	 Letonia	Riga
29	 Liechtenstein	Vaduz
30	 Lituania	Vilna
31	 Luxemburgo	Luxemburgo
32	 Macedonia del Norte	Skopie
33	 Malta	La Valeta

34	 Moldavia	Chisinau
35	 Mónaco	Mónaco
36	 Montenegro	Podgorica
37	 Noruega	Oslo
38	 Países Bajos	Ámsterdam
39	 Polonia	Varsovia
40	 Portugal	Lisboa
41	 Reino Unido	Londres
42	 República Checa	Praga
43	 Rumanía	Bucarest
44	 Rusia (*)	Moscú
45	 San Marino	San Marino
46	 Serbia	Belgrado
47	 Suecia	Estocolmo
48	 Suiza	Berna
49	 Turquía (*)	Ankara
50	 Ucrania	Kiev

Los países marcados con un asterisco (*) son países euroasiáticos y están incluidos en el listado porque política y/o geográficamente (de manera parcial) se consideran parte de Europa.

- **Armenia, Azerbaiyán y Georgia:** políticamente pueden considerarse países europeos (pertenecen al Consejo de Europa y la Unión Europea los considera países europeos); geográficamente son países euroasiáticos (ubicados en el Cáucaso, límite imaginario entre Europa y Asia).
- **Chipre:** políticamente es un país europeo (es estado miembro de la Unión Europea); geográficamente es un país asiático.
- **Kazajistán:** políticamente se suele considerar un país asiático; geográficamente es un país euroasiático (la mayoría del país está ubicado en Asia a excepción de la parte occidental del país ubicada al oeste del río Ural).
- **Rusia:** políticamente tiene influencia tanto en Europa como en Asia (la Unión Europea lo considera un país europeo; la RAE lo considera euroasiático); geográficamente tiene el 40 % de su territorio en Europa.
- **Turquía:** políticamente puede ser considerado un país europeo (es miembro candidato a formar parte de la Unión Europea); geográficamente la mayoría del país se encuentra en Asia a excepción de la región de *Tracia Oriental*.



PAÍSES DE EUROPA Y SUS CAPITALES



CAPITALES DE EUROPA



CANCIÓN CAPITALS EUROPA



JUEGA A LOCALIZAR CAPITALS DE EUROPA

ACTIVIDADES:

5. Escribe cada país en su lugar correspondiente:

Legend:

- FINLANDIA
- UCRANIA
- ESPAÑA
- POLONIA
- NORUEGA
- FRANCIA
- ALEMANIA
- RUSIA
- TURQUÍA
- SUECIA

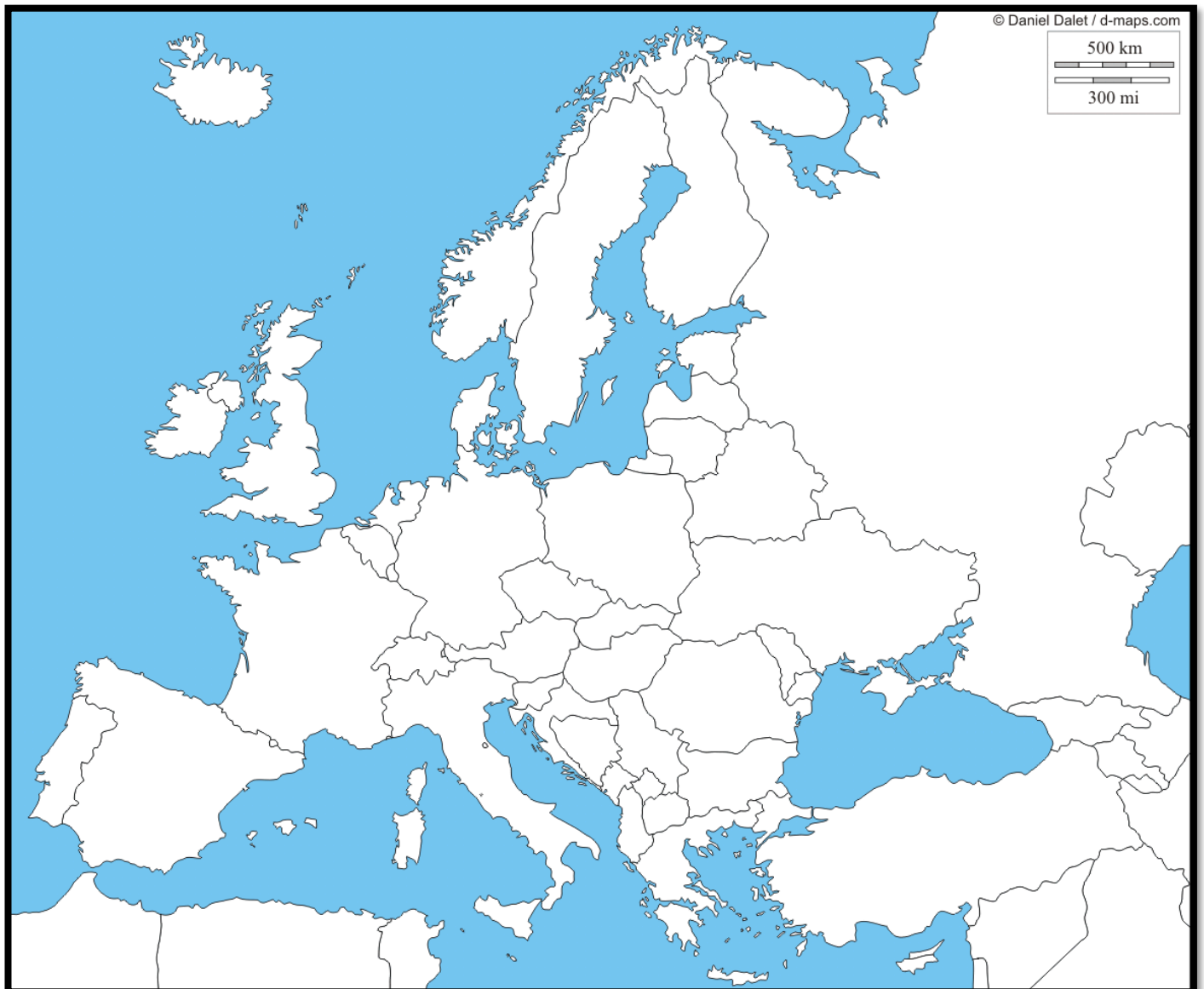


6. Responde a las preguntas:

- ¿Cuántos países tiene Europa?
- ¿Qué país es el más extenso y cuál menos?
- ¿Cuántos habitantes tiene aproximadamente Europa?
- Escribe 3 países que sean los más poblados y 3 países menos poblados de Europa.

7. Localiza y escribe el nombre de estos países de Europa:

**España, Francia, Italia, Alemania, Austria, Andorra, Bélgica,
Dinamarca, Noruega, Portugal, Rusia, Suecia, Finlandia, Irlanda,
Grecia, Islandia y Hungría.**





8. Del siguiente recuadro, relaciona cada país con su capital:

Madrid – París – Sofía – Italia – Alemania – Berlín – España –
Portugal – Lisboa – Francia – Roma – Bulgaria

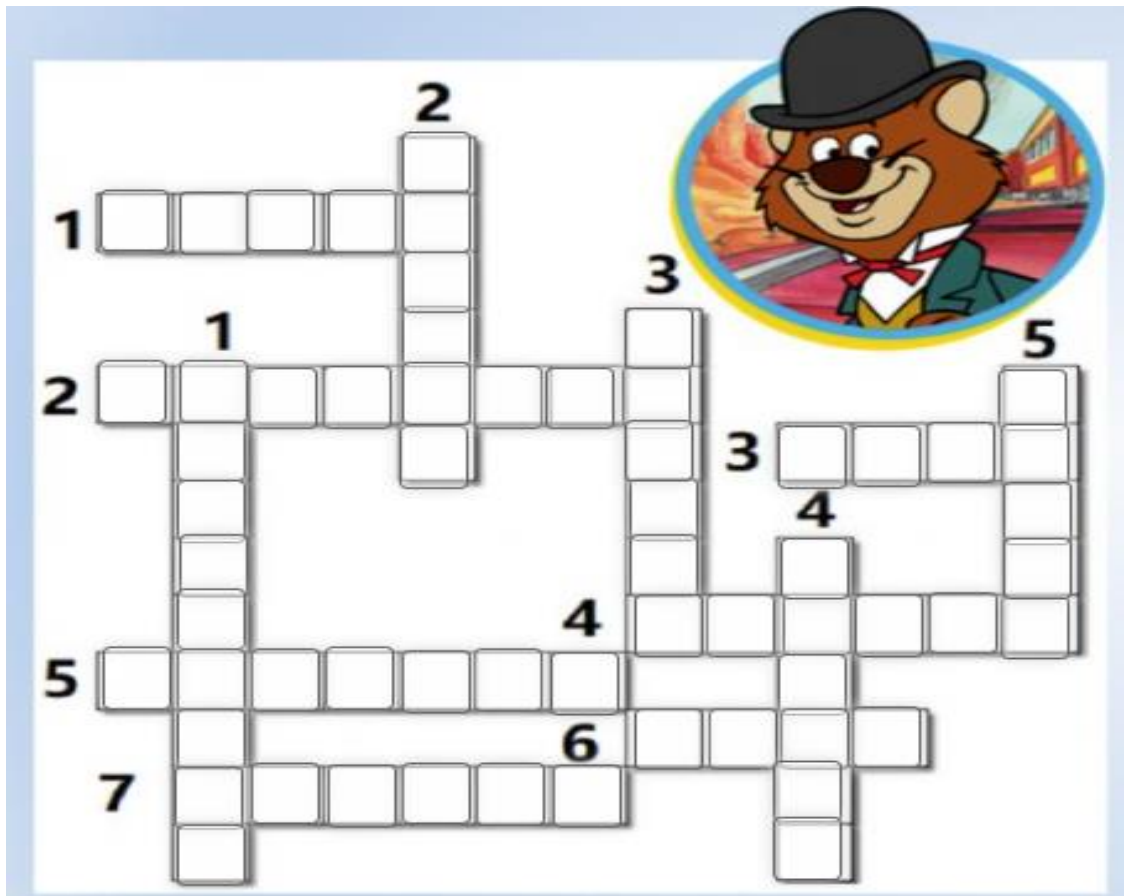
9. Une cada país con su capital correspondiente:

Noruega	Francia	Italia	España	Alemania	Reino Unido
París	Berlín	Londres	Oslo	Roma	Madrid

10. Colorea del mismo color el país y su capital:

Reino Unido	Estocolmo
España	Lisboa
Noruega	Madrid
Turquía	Londres
Irlanda	Roma
Francia	Ankara
Suecia	Dublín
Portugal	Berlín
Alemania	Oslo
Italia	París

11. Completa el crucigrama:



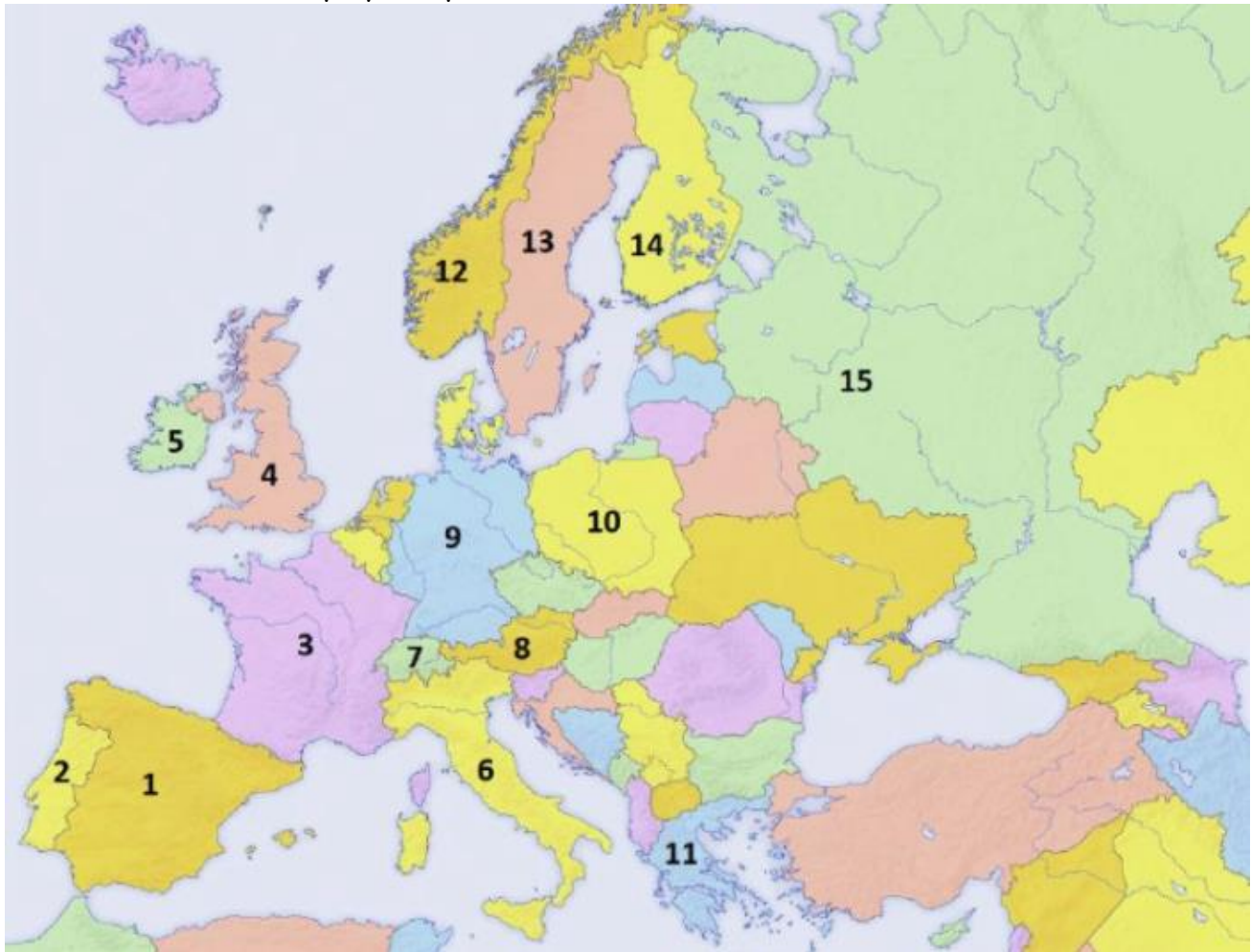
HORIZONTAL

- 1. Capital de Rusia.
- 2. Capital de Finlandia.
- 3. Capital de Italia.
- 4. Capital de Grecia.
- 5. Capital del Reino Unido.
- 6. Capital de Noruega
- 7. Capital de España.

VERTICAL

- 1. Capital de Suecia.
- 2. Capital de Irlanda.
- 3. Capital de Portugal.
- 4. Capital de Alemania
- 5. Capital de Francia.

12. Observa el mapa y completa la tabla:



	PAÍS	CAPITAL
1	España	Madrid
2	<input type="text"/>	<input type="text"/>
3	<input type="text"/>	<input type="text"/>
4	<input type="text"/>	<input type="text"/>
5	<input type="text"/>	<input type="text"/>
6	<input type="text"/>	<input type="text"/>
7	<input type="text"/>	<input type="text"/>
8	<input type="text"/>	<input type="text"/>
9	<input type="text"/>	<input type="text"/>
10	<input type="text"/>	<input type="text"/>
11	<input type="text"/>	<input type="text"/>
12	<input type="text"/>	<input type="text"/>
13	<input type="text"/>	<input type="text"/>
14	<input type="text"/>	<input type="text"/>
15	<input type="text"/>	<input type="text"/>

Europa político



Mapa político de Europa

