

BLOQUE VI. POBLACIÓN

TEMA 8. EVOLUCIÓN Y DISTRIBUCIÓN GEOGRÁFICA DE LA POBLACIÓN ESPAÑOLA.

1. Las fuentes demográficas
2. La distribución de la población
 - 2.1. Características de la distribución
 - 2.2. Factores explicativos de la distribución
3. El movimiento natural de la población
 - 3.1. Los regímenes demográficos

TEMA 9. DINÁMICA Y ESTRUCTURA DE LA POBLACIÓN ESPAÑOLA

1. Los movimientos migratorios
 - 1.1. Las migraciones interiores
 - 1.2. Las migraciones exteriores
 - 1.3. La inmigración extranjera
2. El crecimiento real de la población
3. La estructura de la población española
 - 3.1. La estructura por sexo y edad
 - 3.2. La estructura económica de la población

VOCABULARIO

PRÁCTICAS

TEMA 8. EVOLUCIÓN Y DISTRIBUCIÓN GEOGRÁFICA DE LA POBLACIÓN ESPAÑOLA.

1. Las fuentes demográficas

La demografía es la ciencia que analiza la población a partir de los datos obtenidos de distintas fuentes demográficas. En España, las más importantes son el censo, el padrón municipal y el registro civil:

- El censo es el recuento individualizado de la población del país en un momento determinado. Recoge datos demográficos, económicos y sociales de la población: total

de efectivos de hecho y de derecho, sexo, edad, estado civil, lugar de nacimiento, nacionalidad, lengua hablada, nivel de instrucción, características económicas, fecundidad de las mujeres y vivienda. El censo se realiza en España cada diez años; desde 1981, en los años acabados en 1.

- El padrón municipal es el registro de los vecinos de un municipio. Recoge también datos demográficos, económicos y sociales de la población, aunque en menor número que el censo. El padrón se actualiza el 1 de enero de cada año y se modifica constantemente con los nacimientos y defunciones, y con las altas y bajas de los vecinos.
- El registro civil anota nacimientos, matrimonios y defunciones. Con estos datos el INE (Instituto Nacional de Estadística) elabora las estadísticas de Movimiento Natural de la Población.
- Otras fuentes demográficas son las estadísticas y las encuestas. Entre las más utilizadas están los Anuarios Estadísticos del INE, la Estadística de Variaciones Residenciales (anual, para las migraciones) y la Encuesta de Población Activa (EPA, trimestral, para el mercado laboral).

2. La distribución de la población

2.1 CARACTERÍSTICAS DE LA DISTRIBUCIÓN

La población de España era, a finales de 2014, de 46,5 millones de habitantes. Su distribución espacial se analiza mediante la densidad de población, que relaciona la población de una zona con su superficie en kilómetros cuadrados.

$$D = \frac{\text{Población}}{\text{Superficie en km}^2} = \text{hab/km}^2$$

Según la cifra resultante, la densidad de población puede ser:

- Menor de 1: extremadamente baja.
- Entre 1 y 25: muy baja.
- Entre 25 y 50: baja.
- Entre 50 y 100: media.
- Mayor de 100: alta.

La densidad de población española ha ido aumentando a lo largo del tiempo hasta situarse en 92'26 hab/km² (2014). Sin embargo, existen fuertes desequilibrios entre:

- Las áreas de alta densidad, que se localizan en Madrid, la periferia peninsular, Baleares, Canarias, Ceuta y Melilla.

- Las áreas de baja densidad, que se sitúan en el interior peninsular, correspondiendo las cifras más bajas a algunas áreas de montaña (< de 10 hab/km²).

2.2 FACTORES EXPLICATIVOS DE LA DISTRIBUCIÓN

- En la época preindustrial, de economía básicamente agraria, tuvieron más peso los factores naturales. Así, las mayores densidades se situaban en las costas de clima mediterráneo.
- En la época industrial, entre mediados del siglo XIX y la crisis de 1975, se consolidaron y los contrastes en la distribución de la población. Aumentaron su peso Madrid (capital y centro financiero del Estado) y las regiones periféricas, en unos casos por su alto crecimiento natural (Galicia, Andalucía y Murcia), y en otros casos por la instalación de actividades económicas que atrajeron población, como la industria (primero en Asturias, País Vasco y Cataluña, y luego en los ejes del Ebro y del Mediterráneo) y el turismo (en el litoral mediterráneo e insular). Mientras, las regiones del interior siguieron perdiendo peso demográfico.
- En la época postindustrial, a partir de la crisis de 1975, se mantienen los contrastes

3. El movimiento natural de la población

El movimiento natural es el crecimiento o decrecimiento de la población por causas naturales, es decir, como resultado de los nacimientos y las defunciones. Así, el crecimiento natural o vegetativo es la diferencia entre la natalidad (número de nacimientos) y la mortalidad (número de defunciones en un año). El movimiento natural de la población puede estudiarse a través de diversas tasas:

La tasa de natalidad relaciona el número de nacimientos en un año con la población total y se expresa en tantos por mil.

$$TN = \frac{N^{\circ} \text{ nacimientos en un año} \times 1000}{\text{Población total}} \text{ } ^{\circ}/_{00}$$

Alta: más de 30⁰/₀₀

Media: entre 30 y 20⁰/₀₀

Baja: menos de 20⁰/₀₀

La tasa de fecundidad relaciona el número de nacimientos en un año con el número de mujeres en edad de tener hijos, y se expresa también en tantos por mil.

$$TF = \frac{N^{\circ} \text{ nacimientos} \times 1000}{N^{\circ} \text{ mujeres entre 15 y 49 años}} \text{ } ^{\circ}/_{00}$$

- Alta: más de 150⁰/₀₀ Media: entre 150 y 75⁰/₀₀ Baja: menos de 75⁰/₀₀

El índice sintético de fecundidad indica la media de hijos por mujer. Para que una generación se reemplace a sí misma se necesita una media de 2,1 hijos por mujer.

- Alto: más de 3.5 Medio: entre 3.5 y 2.1 Bajo: 2 o menos

La tasa de mortalidad relaciona el número de fallecimientos en un año con la población total y se expresa en tantos por mil.

$$TM = \frac{N^{\circ} \text{ fallecimientos en un año} \times 1000}{Población \text{ total}} \text{ } ^0/_{00}$$

- Alta: más de 15⁰/₀₀ Media: entre 15 y 10⁰/₀₀ Baja: menos de 10⁰/₀₀

La tasa de mortalidad infantil relaciona el número de fallecimientos de niños con menos de un año con el total de nacidos ese, y se expresa en tantos por mil.

$$TMI = \frac{N^{\circ} \text{ fallecidos menores de un año} \times 1000}{N^{\circ} \text{ nacimientos en ese año}} \text{ } ^0/_{00}$$

- Alta: más de 50⁰/₀₀ Media: entre 50 y 25⁰/₀₀ Baja: menos de 25⁰/₀₀

La esperanza de vida relaciona el número de años vividos por todos los miembros de una población con el número de individuos que componen esa población.

$$\text{Esperanza de vida} = \frac{\text{Suma de los años vividos por los individuos de una pob.}}{N^{\circ} \text{ de individuos de esa población}}$$

- Alta: más de 70 años Media: entre 60 y 70 Baja: menos de 60

Crecimiento en cifras absolutas:

$$CN = \text{Total de nacimientos} - \text{total de defunciones}$$

Crecimiento en cifras relativas o tasa de crecimiento natural:

$$\text{TCN} = \text{Tasa de natalidad} - \text{tasa de mortalidad} \text{ } ^0/_{00}$$

- Alta: más de 20⁰/₀₀
- Media: entre 20 y 10⁰/₀₀
- Baja: entre 10 y 0⁰/₀₀
- Negativa: menos de 0⁰/₀₀

3.1 Los regímenes demográficos

En el movimiento natural de la población española se distinguen tres etapas o regímenes demográficos:

A. El régimen demográfico antiguo: hasta principios del siglo XX

El régimen demográfico antiguo se mantuvo en España hasta principios del siglo XX. Se caracteriza por altas tasas de natalidad y de mortalidad, y por un crecimiento natural bajo.

- La natalidad presentaba valores elevados debido a dos causas principales:
 - El predominio de una economía y una sociedad rurales, en las que los hijos empezaban a trabajar pronto ayudando en las labores del campo y aseguraban el porvenir de los padres, dado que no existían seguros de accidentes, enfermedad, ni jubilación.
 - La inexistencia de sistemas eficaces para controlar los nacimientos. La única posibilidad era retrasar la edad del matrimonio en las coyunturas económicas de crisis.
- La mortalidad general era alta y oscilante. Sus causas eran el bajo nivel de vida y las precarias condiciones médicas y sanitarias.
 - La dieta alimenticia era escasa y desequilibrada: el pan era el alimento básico, y escaseaban la carne, la leche y los huevos.
 - Las enfermedades infecciosas transmitidas a través del aire (tuberculosis, bronquitis, pulmonía, gripe) o del agua y los alimentos (diarreas) tenían alta incidencia. Esta se veía favorecida por el atraso de la medicina y la falta de higiene privada y pública.

A la elevada mortalidad general, se sumaban momentos de mortalidad catastrófica causada por epidemias, guerras y malas cosechas de cereales.

La mortalidad infantil también era alta, tanto por defectos congénitos y problemas en el parto, como por desnutrición e infecciones.

- Como consecuencia de las altas tasas de natalidad y de mortalidad, el crecimiento natural era bajo y presentaba oscilaciones debidas a las crisis de sobremortalidad.

B. La transición demográfica: 1900-1975

La transición entre el régimen demográfico antiguo y el actual tuvo lugar entre 1900 y 1975. En comparación con otros países de Europa occidental, se inició más tarde, pero duró menos y fue más intensa. Sus características son las siguientes:

- La natalidad descendió de forma suave y discontinua, aunque de manera irregular:
 - En la década de 1920, la natalidad se recuperó del descenso gracias a la prosperidad económica.
 - Entre 1930 y 1956 se reanudó el descenso. Las causas fueron la crisis económica de 1929 y la inestabilidad política de la Segunda República (1931-1936); la Guerra Civil (1936-1939), que ocasionó subnatalidad, y la situación de la posguerra (1940-55), que causó el exilio de miles de personas y graves dificultades económicas derivadas de la política autárquica y del bloqueo internacional. La política pronatalista de Franco, que instituyó premios de natalidad y prohibió los anticonceptivos, no fue suficiente para compensar esta tendencia.
 - Entre 1956 y 1965, tuvo lugar una recuperación de la natalidad que algunos autores interpretan como el «baby boom» posbélico retrasado. Se debió al desarrollo económico que siguió al final del bloqueo internacional y de la autarquía.
 - Entre 1965 y 1975 (últimos años del desarrollismo) disminuyó de nuevo el tamaño de la familia. La causa fue la consolidación de un modo de vida industrial y urbano, con graves problemas de vivienda, que redujo el valor económico de los hijos.
- La mortalidad general descendió de forma acusada y continua durante la transición demográfica, excepto en dos momentos de mortalidad catastrófica: la gripe de 1918 y la Guerra Civil. Las causas fueron:
 - El incremento del nivel de vida se manifestó en la mejora de la dieta, que durante la década de 1960 superó la malnutrición y la escasez de la posguerra, y en el crecimiento del nivel educativo y cultural, que permitió intensificar la prevención y abandonar costumbres tradicionales nocivas para la salud.

- Los avances médicos más destacados fueron las vacunas y la comercialización de los antibióticos, que eliminaron la mortalidad catastrófica por epidemias y redujeron la incidencia de las enfermedades infecciosas. También tuvieron efectos positivos la generalización de los nacimientos en clínicas, que disminuyó la mortalidad femenina en el parto y el posparto, y la extensión de la sanidad pública (seguridad social). Los avances sanitarios consistieron en la mejora de la higiene privada y pública (servicios urbanos de agua potable, alcantarillado y recogida de basuras).

La mortalidad infantil también decreció. Las causas fueron los progresos de la pediatría y de la alimentación infantil, y la mejora del cuidado materno.

La esperanza de vida se elevó, primero, por la reducción de la mortalidad infantil y materna, y, luego, por el descenso de la mortalidad en adultos.

- Como consecuencia, el crecimiento natural de la transición fue alto, especialmente entre 1920-1965, cuando la mortalidad descendió fuertemente, mientras la natalidad pasaba por dos máximos separados por la Guerra Civil. Desde 1965, el crecimiento se recortó, al estabilizarse la mortalidad en cifras bajas y restablecerse el descenso de la natalidad.

C. El régimen demográfico actual: a partir de 1975

El régimen demográfico actual se extiende desde 1975 hasta nuestros días. Se caracteriza por bajas tasas de natalidad y de mortalidad, y por un escaso crecimiento natural.

- La natalidad descendió a partir de 1975 hasta situarse en cifras bajas. En esta situación se distinguen dos momentos:
 - Entre 1975 y 1998 tuvo lugar un brusco descenso de los nacimientos. Así, en 1981, el índice sintético de fecundidad alcanzó la cifra de 2,1 hijos por mujer -el límite que permite reemplazar a la población- y continuó decreciendo hasta alcanzar su valor mínimo en 1998 (1,24 hijos). Las causas han sido los cambios económicos y socio-culturales de estos años.
 - La situación económica ha retrasado la edad del matrimonio, con el consiguiente acortamiento del período fértil de la mujer. Primero, como resultado de la crisis de 1975, y, desde 1980, por la precariedad laboral y el alto precio de compra y alquiler de vivienda.
 - La sociedad española ha experimentado cambios de mentalidad y de valores desde la transición a la democracia (1975) que han colaborado al descenso de la natalidad. Ha disminuido la influencia religiosa; se han despenalizado y difundido los anticonceptivos, y se ha legalizado el aborto en ciertos supuestos. Las mujeres se han incorporado de forma creciente

al trabajo fuera del hogar y retrasan la maternidad hasta consolidar su situación laboral, de modo que la mayoría de los nacimientos se producen en el grupo de los 30-34 años; y muchas mujeres tienen dificultades para conciliar la vida familiar y laboral, ante la escasez de guarderías a precios asequibles y el mantenimiento de comportamientos sexistas en el reparto de tareas domésticas y en el cuidado de los hijos. Estos ya no se consideran como seguro de vejez de los padres, ante el progreso de la protección social, sino que se aprecia su formación y bienestar, por lo que se prefiere tener menos y atenderlos mejor. Además, los gastos que ocasionan y la dedicación que requieren compiten con el deseo de los padres de disponer de más ingresos para el consumo y de más tiempo libre.

Por otra parte, han ganado importancia las relaciones de pareja sobre las reproductoras y de cuidado de los hijos, y han surgido formas familiares distintas del matrimonio y menos prolíficas (cohabitación, hogares monoparentales de divorciados, maternidad en solitario).

- Desde 1998, la natalidad ha experimentado una ligera recuperación debida a la inmigración, que colabora al aumento de la natalidad, sobre todo, por el incremento de mujeres en edad fértil.
- La mortalidad general se mantiene en cifras bajas, aunque la tasa asciende ligeramente desde 1982 debido al envejecimiento de la población. Por tanto, se trata de un aumento «aparente» causado por el incremento del número de ancianos, puesto que la mortalidad real continúa descendiendo, como lo demuestra el aumento de la esperanza de vida.

Las causas de la mortalidad general han cambiado. Disminuye la importancia de las enfermedades infecciosas y aumentan las llamadas «tres C»: enfermedades cardiovasculares, cáncer y accidentes de carretera. Además, están creciendo las enfermedades ligadas al envejecimiento, como el alzheimer, y las llamadas «enfermedades sociales», relacionadas con ciertos estilos de vida y hábitos sociales, como el alcoholismo, el tabaquismo y la drogadicción.

La mortalidad infantil es hoy muy baja aunque todavía tiene margen para reducirse gracias a los avances médicos.

La esperanza de vida ha aumentado también gracias a los progresos de la medicina. No obstante, presenta diferencias entre los sexos, los grupos de edad y el estatus social.

- Por sexos, la esperanza de vida es mayor para las mujeres. Estas tienen mayor fortaleza biológica por motivos hormonales e inmunológicos. En cambio, los hombres han tenido tradicionalmente un estilo de vida distinto que entraña mayor riesgo: más participación directa en las guerras; trabajos más duros, con

mayor desgaste físico y probabilidad de accidentes; incidencia más alta de hábitos nocivos en exceso como el alcohol y el tabaco; hábitos alimentarios y de vida más desordenados; menor cuidado de su salud, y más accidentes en la carretera; aunque estas diferencias tienden a reducirse.

- Por edad, las mayores ganancias en esperanza de vida desde 1975 se registran en el grupo de las personas más ancianas (70-80 años), y las menores, en el grupo de los jóvenes (18-35 años). En estos últimos, las cifras se estancaron, e incluso decrecieron en el caso de los varones, durante la década de 1980, debido al incremento de los accidentes de carretera, la aparición y difusión del sida y la extensión de la drogadicción; aunque desde mediados de la década de 1990 la situación ha mejorado por la disminución de los accidentes y del sida (campañas de prevención y mejora de los tratamientos).
 - Por estatus social, la esperanza de vida es más alta para las profesiones más cualificadas que tienen menor mortalidad laboral y para las clases sociales más adineradas, que pueden acceder a más y mejores servicios sanitarios.
- El crecimiento natural en el régimen demográfico actual descendió hasta 1998 debido a las bajas tasas de natalidad y de mortalidad. Desde entonces, crece levemente debido a la ligera recuperación de la natalidad.

TEMA 9. DINÁMICA Y ESTRUCTURA DE LA POBLACIÓN ESPAÑOLA

1. Los movimientos migratorios

Las migraciones son los movimientos de población en el espacio. Distinguimos entre emigración, o salida de población desde su lugar de origen; e inmigración, o llegada de población a un lugar de destino.

El saldo migratorio es el balance entre la inmigración y la emigración ($SM = I - E$). Si es positivo, indica inmigración, y si es negativo, emigración.

1.1 Las migraciones interiores

Son los movimientos de población dentro de las fronteras del país. Podemos diferenciar entre las tradicionales, hasta 1975, y las actuales, desde esta fecha.

A. Las migraciones interiores tradicionales

Este tipo de migraciones se desarrolló entre el último tercio del siglo XIX y 1975. Tuvieron las siguientes características:

- Los emigrantes procedían mayoritariamente del campo y se dirigían a las grandes ciudades.
- El perfil característico de los emigrantes fue el de personas jóvenes, con bajo nivel de cualificación, que buscaba trabajo.

Las migraciones interiores tradicionales son de dos tipos:

- Las migraciones estacionales y temporales tuvieron su auge entre el último tercio del XIX y la década de 1960, y se emprendían con intención de retorno. En unos casos, eran desplazamientos para realizar labores agrarias (siega, vendimia, recolección de aceitunas). En otros casos, eran desplazamientos temporales a la ciudad en las épocas del año en las que el campo no daba tanto trabajo, para realizar tareas en la construcción, la industria o los servicios.
- El éxodo rural tuvo lugar entre 1900 y 1975. Es una migración entre áreas rurales y urbanas con carácter definitivo o de larga duración. Su motivación principal era conseguir trabajo e ingresos más altos. Los emigrantes procedían de zonas atrasadas de Galicia, el interior peninsular y Andalucía oriental. Se dirigieron, primero, a las zonas industriales de Cataluña, el País Vasco y Madrid, y, más tarde, también a las nuevas áreas industriales del Mediterráneo y del valle del Ebro, y a las zonas turísticas de Levante, Baleares y Canarias. Dentro del éxodo rural pueden distinguirse cuatro etapas:
 - En el primer tercio del siglo XX, tuvo un volumen moderado y estuvo motivado por el exceso de brazos en el campo. El éxodo se dirigió a las principales zonas industriales (Madrid, Barcelona y el País Vasco)

- Durante la Guerra Civil y la posguerra, se estancó.
- Entre los años 1950 y 1975, alcanzó su mayor volumen. Las causas fueron el crecimiento demográfico, la crisis de la agricultura tradicional por la mecanización, el auge industrial impulsado por los planes de desarrollo, y el «boom» del turismo en el litoral mediterráneo e insular. Así, las zonas de destino se ampliaron y formaron dos ejes peninsulares: el del Mediterráneo (desde Girona a Alicante) y el del Ebro (desde el País Vasco a Tarragona a través de Navarra y Zaragoza). A ellos se unían Madrid, en el centro de la Península, y las islas Baleares y Canarias.
- Desde 1975, el éxodo rural decayó. Con la crisis, las áreas industrializadas, sometidas a duros procesos de reconversión, perdieron su atractivo. Actualmente, el éxodo rural alcanza valores muy bajos.

Las consecuencias de las migraciones interiores tradicionales, sobre todo del éxodo rural, son las siguientes:

- En el plano demográfico, son las responsables de los desequilibrios en la distribución de la población: vaciamiento del interior y grandes densidades en la periferia.
- En el plano económico, en las áreas rurales, al marchar la gente más joven y capacitada, descendieron la productividad y el rendimiento. En las ciudades, la inmigración masiva provocó problemas de suelo, vivienda, equipamientos y servicios.
- En el plano social, se produjeron problemas de asimilación, al pasar los emigrantes de una comunidad rural de valores tradicionales a una gran sociedad urbana y competitiva. La integración no se produce, en general, hasta la generación siguiente.

B. Las migraciones interiores actuales

Desde la crisis de 1975 se inició otro ciclo de características muy distintas:

- Las motivaciones de la migración son más variadas: laborales, residenciales y retorno al lugar de procedencia.
- Hay una mayor diversidad de las áreas de origen y destino. Los emigrantes ya no proceden mayoritariamente del campo, sino de municipios urbanos, y se dirigen, sobre todo, a municipios urbanos medianos y pequeños de su propia comunidad autónoma.

1.2 Las migraciones exteriores

Son los movimientos de población fuera de las fronteras del propio país. Desde mediados del siglo XIX hasta la crisis económica de 1975, España fue un país de emigrantes cuyo destino

tradicional se encontraba en ultramar y en Europa occidental. A partir de entonces, se paralizó la emigración al exterior y España se ha convertido en un país de inmigración.

LA EMIGRACIÓN TRANSOCEÁNICA

La emigración transoceánica o a ultramar se dirigió principalmente a América Latina y secundariamente a Estados Unidos, Canadá y Australia.

En la emigración transoceánica se distinguen dos etapas de auge y dos de crisis:

- a. Desde mediados del siglo XIX hasta la Primera Guerra Mundial (1914).

Desde mediados del XIX, la emigración a América aumentó debido a las causas siguientes:

- Los países latinoamericanos necesitaban inmigrantes para poblarse, explotar sus recursos económicos y construir grandes infraestructuras, (Canal de Panamá, ferrocarriles y puertos).
- España limitó los obstáculos a la emigración, que se convirtió en una salida frente al exceso de mano de obra provocado por el atraso agrario. También influyó el deseo de los jóvenes de evitar un prolongado servicio militar de tres años.

La procedencia de la mayoría de estos emigrantes era gallega, asturiana y canaria, y su destino principal se encontraba en Argentina (actividades agrarias de la pampa), Cuba (plantaciones de azúcar) y Brasil (plantaciones de café); las dos últimas, necesitadas de mano de obra tras la abolición de la esclavitud. El perfil característico de este emigrante era varón, joven, soltero, de bajo nivel de cualificación y dedicado a la agricultura.

- b. La emigración transoceánica decayó entre las dos guerras mundiales (1914-1945). Las causas fueron las siguientes:

- La inseguridad generada por la Primera Guerra Mundial.
- La crisis económica de 1929
- La guerra civil española y la posguerra (1936-1949) ocasionaron escasez de transporte y dificultades para salir al exterior.

- c. Entre 1945-1960, la migración transoceánica se recuperó (segunda etapa de auge), aunque sin alcanzar las cifras de principios de siglo. Las causas que lo permitieron fueron la autorización para salir libremente de España (1946) y el levantamiento del aislamiento internacional por parte de la ONU (1950).

La procedencia de los emigrantes continuó siendo principalmente gallega y canaria; Los destinos prioritarios fueron Venezuela (explotación de petróleo), Argentina y Brasil. El perfil del emigrante cambió. La emigración familiar adquirió más peso y los

emigrantes tuvieron un mayor nivel de cualificación, predominando los obreros y técnicos industriales y los agricultores preparados.

- d. Desde 1960, la emigración transoceánica descendió, al iniciarse el declive de la economía latinoamericana y entrar en competencia con la emigración a Europa (segunda etapa de crisis). Actualmente, las cifras son muy bajas y predominan los retornos.

LA EMIGRACIÓN A EUROPA

La emigración a Europa tuvo tres etapas bien diferenciadas:

- Hasta mediados del siglo XX fue una migración escasa y estacional, procedente, sobre todo, del campo levantino, que se dirigió a Francia.
- El período comprendido entre 1950 y 1973 fue el de mayor auge de la emigración a Europa. Se trató, en buena parte, de una emigración permanente (con contrato de un año o más de duración) debida a variadas causas:
 - Por parte europea, la rápida reconstrucción económica tras la Segunda Guerra Mundial favoreció una amplia oferta de empleo que no podía cubrirse con los trabajadores propios.
 - Por parte española, la emigración se vio estimulada por el fuerte crecimiento demográfico, el excedente de población agraria a causa de la mecanización del campo, la insuficiencia de la industrialización para absorberla, el aumento del paro causado por el Plan de Estabilización y los elevados salarios europeos. La procedencia de los emigrantes se extendió a todas las regiones, aunque las más afectadas fueron Andalucía y Galicia, y su destino prioritario fue Francia, la República Federal de Alemania y Suiza.

El perfil de estos emigrantes era el de adultos jóvenes, poco preparados (agricultores, peones de la construcción y obreros industriales), que desempeñaron los trabajos menos cualificados y peor retribuidos en la minería, la construcción, la industria y el servicio doméstico.

- A partir de 1973, la emigración permanente a Europa decayó. La crisis económica provocó paro en los países de Europa occidental y muchos emigrantes regresaron. En los últimos, tras la crisis que comenzó en 2008, se ha producido un repunte de la emigración española a Europa, sobre todo de jóvenes que buscan oportunidades de trabajo. En todo caso, es pronto para establecer conclusiones sobre este asunto.

CONSECUENCIAS DE LAS MIGRACIONES EXTERIORES

- Consecuencias demográficas: disminución de los efectivos de población españoles y desequilibrio entre unas regiones y otras.
- Consecuencias económicas: por una parte, positivas, pues aliviaron el fuerte crecimiento natural y el paro. Además, las divisas enviadas por los emigrantes contribuyeron a financiar el desarrollo económico español y a reducir el déficit comercial; pero, por otra parte, también hubo consecuencias negativas, porque muchos ahorros no favorecieron a las áreas de partida de los emigrantes, ya que los bancos los invirtieron en las zonas más desarrolladas y muchos de los que regresaron se instalaron en otras zonas donde esperaban encontrar trabajo más fácilmente o invertir en un pequeño negocio.
- Las consecuencias sociales en los países de destino fueron el desarraigo, las penosas condiciones de vida y la situación laboral marcada por salarios frecuentemente más bajos que los de los trabajadores autóctonos. Tras la crisis de 1975, los emigrantes fueron los primeros afectados por los despidos y, en general, regresaron sin haber mejorado su cualificación.

1.3 La inmigración extranjera

CARACTERÍSTICAS

Desde mediados de la década de 1980 y, sobre todo, desde 1995, España está recibiendo un elevado volumen de inmigrantes.

Así, en 2008 la población extranjera superaba los 4.7 millones de personas. Dentro de ella se diferencian los extranjeros nacionalizados tras varios años de permanencia en el país, que pasan a ser españoles de pleno derecho, los inmigrantes legales, que obtienen permiso de residencia y mantienen su nacionalidad de origen; y los ilegales, más difíciles de contabilizar.

Las CAUSAS de esta atracción inmigratoria son numerosas:

- Por parte española, influyen varios motivos. La necesidad de mano de obra a raíz del desarrollo económico desde 1995, sobre todo en empleos de baja cualificación (temporeros agrarios y servicios personales). Además, la proximidad de España a África la convierte en la puerta principal de entrada de inmigrantes africanos a Europa; los lazos histórico-culturales con América Latina favorecen la llegada de personas de esta procedencia; y la bondad climática del Mediterráneo atrae a personas del centro y el norte de Europa.
- Por parte de los inmigrantes extranjeros, influyen motivos económicos (posibilidades de trabajo o de negocio) y motivos políticos (persecuciones o falta de derechos políticos).

La procedencia de los inmigrantes fue mayoritariamente europea hasta 1996; sobre todo, de los países de la Unión Europea y del este del continente. Desde entonces, predominan los inmigrantes extracomunitarios procedentes de África (Marruecos), Iberoamérica (Ecuador, Colombia) y Asia (China, Pakistán).

Su destino principal son las comunidades con grandes centros urbanos y de servicios: Cataluña, Madrid, Andalucía, Comunidad Valenciana, Baleares y Canarias.

Recientemente, la saturación del mercado laboral de estas regiones ha provocado algunas migraciones hacia las comunidades del interior y del Cantábrico.

El PERFIL de los inmigrantes varía según su procedencia:

- Los inmigrantes comunitarios son jubilados con nivel de vida medio-alto que aprecian las buenas condiciones climáticas del litoral o adultos atraídos por las posibilidades de trabajo y de negocio.
- Los inmigrantes extracomunitarios son jóvenes que acuden a España por motivos económicos o políticos. Realizan trabajos de baja cualificación en el sector servicios, la construcción, la agricultura, la minería y la pesca.

CONSECUENCIAS de la inmigración:

- Consecuencias demográficas. Los inmigrantes han contribuido decisivamente al crecimiento demográfico de España en los últimos años, tanto de forma directa como por el incremento de la natalidad.
- Consecuencias económicas.
 - La inmigración aporta población activa, que desempeña las tareas más duras y peor remuneradas, colabora al crecimiento del PIB, aporta más dinero a las arcas públicas del que consume en educación y sanidad, y alivia la carga del elevado gasto en pensiones. Además, los inmigrantes prestan servicios domésticos que permiten incrementar la tasa de actividad de las familias españolas, especialmente de las mujeres.
 - La inmigración se relaciona con algunos problemas, como la pérdida de competitividad (la disponibilidad de mano de obra retrasa la modernización de ciertos sectores), la presión a la baja sobre los salarios y el aumento del déficit exterior debido a las remesas enviadas a sus países de origen.
- Consecuencias sociales.
 - Han surgido actitudes xenófobas o racistas entre algunos sectores que consideran la inmigración como una «invasión» que compite por el empleo,

consume recursos sociales en perjuicio del bienestar de la población española y amenaza la identidad nacional.

- Muchos inmigrantes sufren duras condiciones laborales (bajos salarios, largas jornadas, ausencia de seguros) y malas condiciones de vida en barrios marginales y viviendas de escasa calidad.
- Las dificultades de integración, debidas a las diferencias culturales, lingüísticas y religiosas, pueden suscitar tensiones con la población autóctona.

2. El crecimiento real de la población

El crecimiento real de la población se obtiene sumando el crecimiento natural y el saldo migratorio.

$$CR = CN (\text{Nacimientos} - \text{Defunciones}) + SM (\text{Inmigrantes} - \text{Emigrantes})$$

Desde mediados del siglo XIX los efectivos demográficos españoles se han multiplicado casi por tres. Sin embargo, no ha sido un crecimiento constante.

- Entre mediados del XIX y principios del XX el incremento fue bajo, debido al escaso crecimiento natural propio del régimen demográfico antiguo (altas tasas de natalidad y de mortalidad), y a la emigración a ultramar.
- En el período 1900-1975 el crecimiento fue elevado, especialmente durante la década de 1960, debido al alto crecimiento natural propio de la transición demográfica. El incremento habría sido mayor de no haberse visto limitado por la persistencia parcial de la mortalidad catastrófica por epidemias (gripe de 1918), guerras como la de Marruecos (1908-1927) y la Guerra Civil (1936-1939), y la emigración a ultramar y a Europa.
- Entre 1975 y 2001 el aumento de la población fue muy bajo debido al escaso crecimiento natural propio del régimen demográfico actual (hundimiento de la natalidad y mortalidad baja). El retroceso habría sido mayor de no haberse visto compensado por el retorno de emigrantes a raíz de la crisis económica mundial y por el aumento de la inmigración extranjera desde 1995.
- Desde 2001 el crecimiento de la población se ha acelerado debido principalmente a la inmigración extranjera, que también ha elevado la natalidad. No obstante, existen acusados contrastes territoriales entre áreas. Aunque, en los últimos años, la crisis económica de 2008 ha hecho que la población descienda, sobre todo por la no llegada y por el retorno de extranjeros a sus países de origen.

3. La estructura de la población española

La estructura de la población es su composición por sexo y edad, y por actividad económica.

3.1 La estructura por sexo y edad

La estructura por sexo

La estructura por sexo es la relación entre el número de hombres y mujeres que componen una población. Esta relación se mide mediante las tasas de masculinidad o feminidad, que pueden calcularse para toda la población o para grupos de edades. Cuanto más se aleje del índice de 100, mayor será el desequilibrio entre sexos.

$$\text{Tasa de masculinidad} = \frac{\text{Nº de varones} \times 100}{\text{Nº de mujeres}} = \text{varones}/100 \text{ mujeres}$$

$$\text{Tasa de feminidad} = \frac{\text{Nº de mujeres} \times 100}{\text{Nº de varones}} = \text{mujeres}/100 \text{ varones}$$

Los factores que influyen en la estructura por sexo son el nacimiento siempre de un mayor número de niños (unos 105 por cada 100 niñas), la mayor esperanza de vida de las mujeres, y las migraciones, dado que suelen emigrar más los varones.

En España estos factores hacen que en las edades jóvenes predominen los hombres, debido a su superioridad numérica al nacer y al crecimiento de la inmigración. Sin embargo, en la edad adulta madura (50-54 años), los efectivos de los sexos se igualan y al final predominan las ancianas, gracias a la mayor esperanza de vida de las mujeres. La excepción son algunas zonas rurales donde la mayor emigración femenina deja más hombres en las edades adultas y ancianas.

La estructura por edad: una población envejecida

La estructura por edad es la composición de la población por grupos de edad: jóvenes (0-14 años), adultos (15-64 años) y ancianos (65 años y más). Se mide calculando los índices de juventud (porcentaje de jóvenes) y de envejecimiento (porcentaje de ancianos) de una población. Esta se considera joven cuando el porcentaje de jóvenes supera el 35%, y envejecida, cuando el porcentaje de ancianos supera el 12%.

$$\text{Índice de juventud} = \frac{\text{Población de 0 – 14 años} \times 100}{\text{Población total}} = \%$$

$$\text{Índice de envejecimiento} = \frac{\text{Población de 65 y más años} \times 100}{\text{Población total}} = \%$$

Los factores que influyen en la estructura por edad son la natalidad, en el número de jóvenes; la esperanza de vida, en el número de ancianos; y las migraciones, dado que los migrantes son habitualmente jóvenes.

En España, la estructura por edad se encuentra envejecida, pues los jóvenes representan un bajo porcentaje (14,35% en 2008) y los ancianos un porcentaje alto (16,57% en 2008).

- Las causas del envejecimiento son el fuerte descenso de la natalidad desde 1975, que ha reducido el número de jóvenes; el aumento de la esperanza de vida, que ha incrementado el número de ancianos, especialmente en las edades más avanzadas, y la emigración de épocas pasadas, que no se ha visto compensada por la reciente inmigración. No obstante, hay diferencias territoriales:
 - Las comunidades con mayor porcentaje de jóvenes son las que muestran tasas de natalidad relativamente más altas y esperanza de vida más baja (sur peninsular), o las fuertemente inmigratorias (Madrid y litoral mediterráneo).
 - Las comunidades más envejecidas son las que en el pasado se vieron muy afectadas por la emigración y cuentan actualmente con bajas tasas de natalidad, alta esperanza de vida y un sobre-envejecimiento causado por el retorno de antiguos emigrantes (Galicia y el interior peninsular), y también las comunidades que se vieron muy prolongadamente afectadas por la crisis de 1975 (cornisa cantábrica).
- Las consecuencias del envejecimiento:
 - La desaceleración económica que se debe a que el envejecimiento reduce la población activa y la capacidad de innovación.
 - La elevación del gasto en pensiones.
 - El incremento del gasto sanitario deriva de que los ancianos consumen más medicamentos, visitas médicas y estancias hospitalarias.
 - Los cuidados y atenciones a la población anciana suponen un aumento de las cargas familiares; un incremento de la demanda de residencias públicas y

privadas, que actualmente son insuficientes, y la necesidad de planear para ellos actividades que les permitan distraerse y sentirse útiles.

3.2 La estructura económica de la población

La estructura económica de la población estudia la población que contribuye con su actividad al proceso productivo (población activa) y los distintos sectores en que se desarrolla esa actividad (los sectores económicos).

A. La población activa

La **población activa** es el conjunto de personas de 16 años y más que suministran mano de obra para la producción de bienes y servicios o que están disponibles y hacen gestiones para incorporarse a esta producción. Por tanto, comprende a la población que trabaja a cambio de una retribución (población activa ocupada) y a la que busca activamente empleo (población activa desocupada), bien porque habiéndolo tenido está en paro, o bien porque está buscando su primer empleo.

La **población inactiva** es la que no realiza un trabajo remunerado ni se encuentra disponible para desempeñarlo, como pensionistas, rentistas, estudiantes y personas dedicadas a las labores del hogar. Por este motivo, depende económicamente de la población activa.

Existen diversos índices para medir la actividad de una población, como la tasa de actividad, la tasa de paro y la tasa de dependencia.

La **tasa de actividad** es el porcentaje de activos de una población. La forma de calcularla es relacionando a los activos con la población en edad de trabajar (16-64 años)

$$\text{TASA DE ACTIVIDAD} = \frac{\text{Población activa} \times 100}{\text{Población entre 16 y 64 años}}$$

La **tasa de paro** es el porcentaje de población activa desocupada respecto al total de la población activa:

$$\text{TASA DE PARO} = \frac{\text{Población activa desocupada} \times 100}{\text{Población activa}}$$

La tasa de dependencia es la relación entre la población dependiente y la población trabajadora:

$$TASA DE DEPENDENCIA = \frac{Población\ dependiente\ (0-15\ años+65\ años\ y\ más)\ x\ 100}{Población\ en\ edad\ de\ trabajar\ (16-64)}$$

B. Los sectores económicos

La población activa se divide en tres sectores económicos:

- **SECTOR PRIMARIO.** Incluye las actividades dedicadas a la obtención de materias primas: agricultura, ganadería, explotación forestal, pesca y minería. En 2013, ocupaba el 2.6 de la población.
- **SECTOR SECUNDARIO.** Comprende las actividades dedicadas a la transformación de las materias primas: la industria y la construcción. En 2013, ocupaba el 25.3 de la población.
- **SECTOR TERCIARIO.** Incluye las actividades que proporcionan servicios: transporte, comercio, turismo, sanidad, educación, finanzas. En 2013, ocupaba el 72.1%.

VOCABULARIO

Censo de población. Definición en tema.

Densidad de población. Definición en tema.

Envejecimiento de la población. Se refiere a un cambio en la estructura por edades de la población, desde la estructura del antiguo régimen demográfico, con numerosos de población en edades infantiles y juveniles y un escaso número de población en los grupos de edades maduras y longevas, a una nueva estructura propia donde básicamente crecen los grupos de edades maduras y longevas manteniéndose o disminuyendo los grupos de menor edad.

El envejecimiento de la población es característico de la segunda transición demográfica y es consecuencia directa de cambios socioeconómicos que permiten una mejora en la alimentación, la higiene y la sanidad, en definitiva un aumento general de la calidad de vida.

Éxodo rural. Definición en tema.

Padrón municipal de habitantes. Definición en tema.

Pirámide de población. Gráfico que representa la estructura de la población de un territorio en un momento dado. Ofrece información sobre edad y sexo de los habitantes. El gráfico consiste en la representación de una serie de frecuencias y se configura en forma de un doble eje de coordenadas: en el eje vertical, se marcan las edades; en el horizontal, los habitantes (hombres a la izquierda, mujeres a la derecha).

Los intervalos de edad suelen ser de cinco años y están representados por barras superpuestas.

Población activa. Definición en tema.

Población de hecho. Conjunto de personas presentes en cada ayuntamiento en el momento de realizarse un censo o un padrón municipal. Por tanto, no incluye a los residentes ausentes en ese momento.

Población de derecho. Conjunto de personas empadronadas o legalmente residentes en un municipio en el momento de realizarse un censo o un padrón municipal. Por tanto, incluye a todos los residentes, tanto presentes como ausentes.

Saldo migratorio. Es la diferencia entre el número de inmigrantes y de emigrantes en un lugar y un momentos determinados ($SM = \text{Inmigrantes} - \text{emigrantes}$).

Tasa bruta de mortalidad. Definición en tema

Tasa bruta de natalidad. Definición en tema

Tasa de fecundidad. Definición en tema

Tasa de mortalidad Infantil. Definición en tema

Tasa de natalidad. Definición en tema

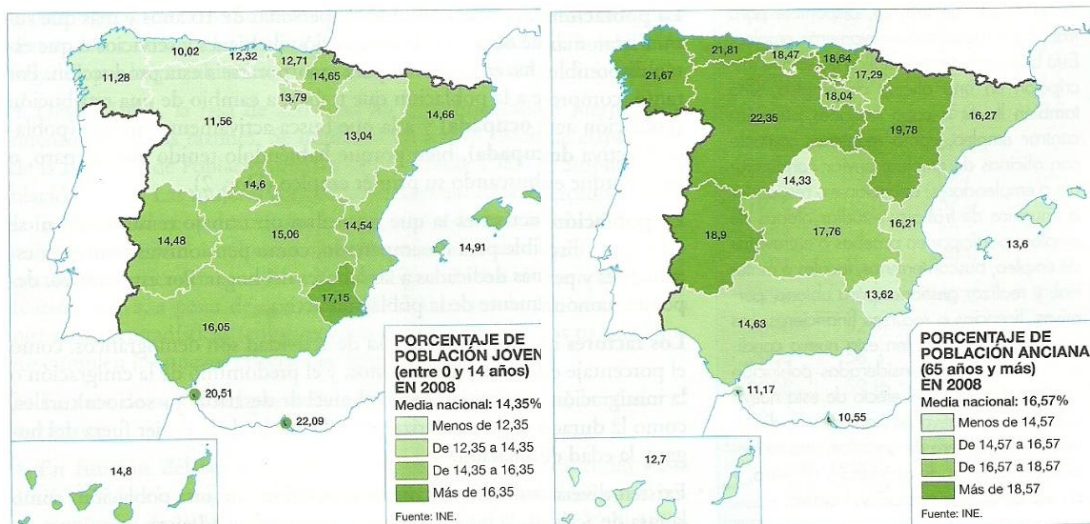
Tasa de paro. Definición en tema

Transición demográfica. Es una teoría demográfica que explicaría, primero, el paso de un régimen demográfico preindustrial, presidido por altas tasas de mortalidad y natalidad a otro industrial con un fuerte incremento de la población; y, posteriormente, a otro postindustrial, con tasas muy bajas de mortalidad y natalidad.

PRÁCTICA 1

Los mapas representan la estructura de la población menor de 15 años y mayor de 65 años en el año 2008. Observe los mapas y responda a las siguientes preguntas:

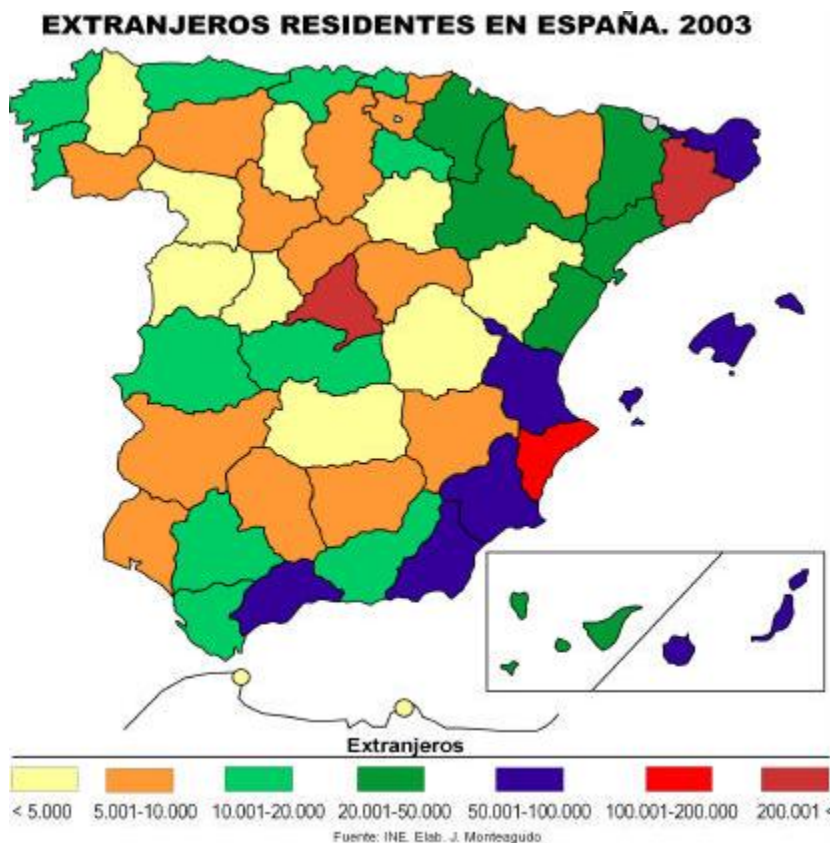
- Nombre todas las Comunidades Autónomas que tienen una “población joven”: superior al 16,5 %; entre el 14,5 -16,5 %; y las que tienen una “población anciana” superior al 18,8 %.
- Señale las posibles causas de esta distribución estructural y territorial de la población española.
- ¿Qué consecuencias tiene esta estructura en la sociedad y en la economía de las regiones afectadas por uno u otro caso?



PRÁCTICA 2

El mapa representa la localización de la población extranjera en las provincias españolas. En función de ello responda a las siguientes cuestiones:

- ¿Qué provincias acogen de 20.001 extranjeros en adelante?
- Exponga a grandes rasgos las tendencias territoriales en la localización de extranjeros. ¿Por qué se acumulan en esas provincias?
- ¿Cuáles considera que son los principales países de origen de los extranjeros en España y por qué razones son esos países?

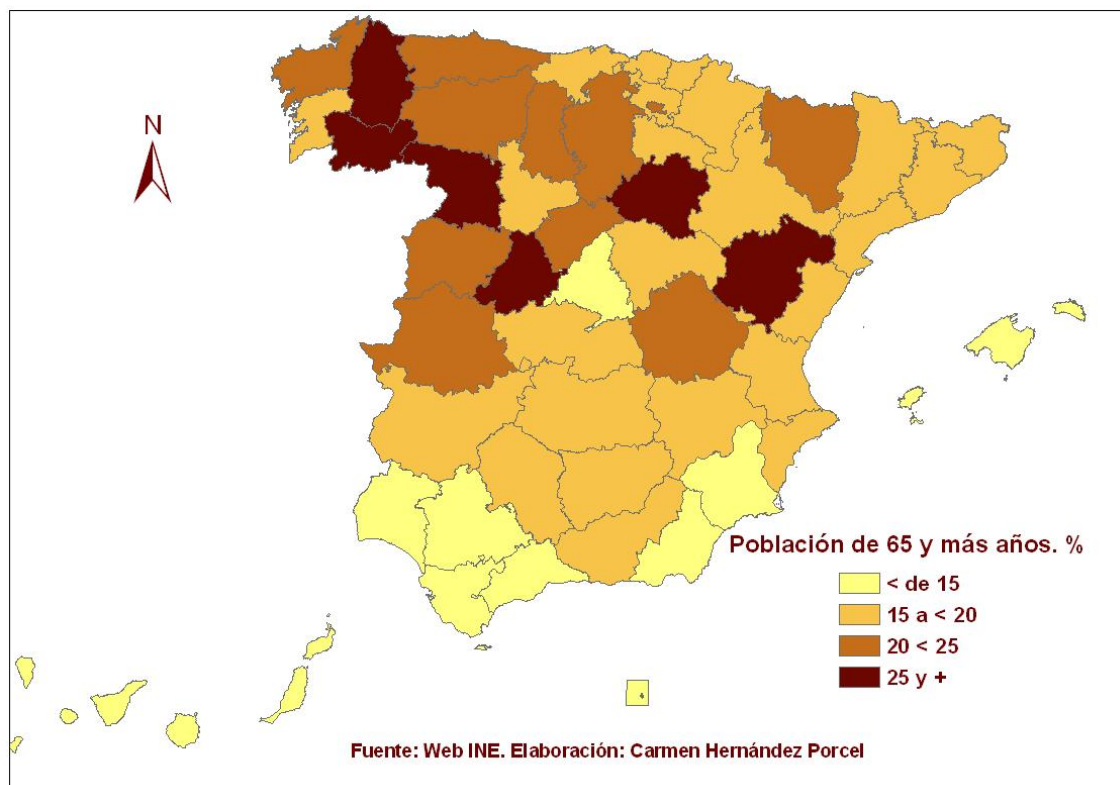


PRÁCTICA 3

En la figura siguiente se representa el peso porcentual de la población vieja en España en 2006. Analícelo y conteste a las siguientes preguntas:

- Cite las provincias en las que la población es más joven y aquéllas en las que está más envejecida.
- ¿Cuáles son las causas del envejecimiento demográfico?
- ¿A que se deben estos contrastes entre las distintas provincias españolas?

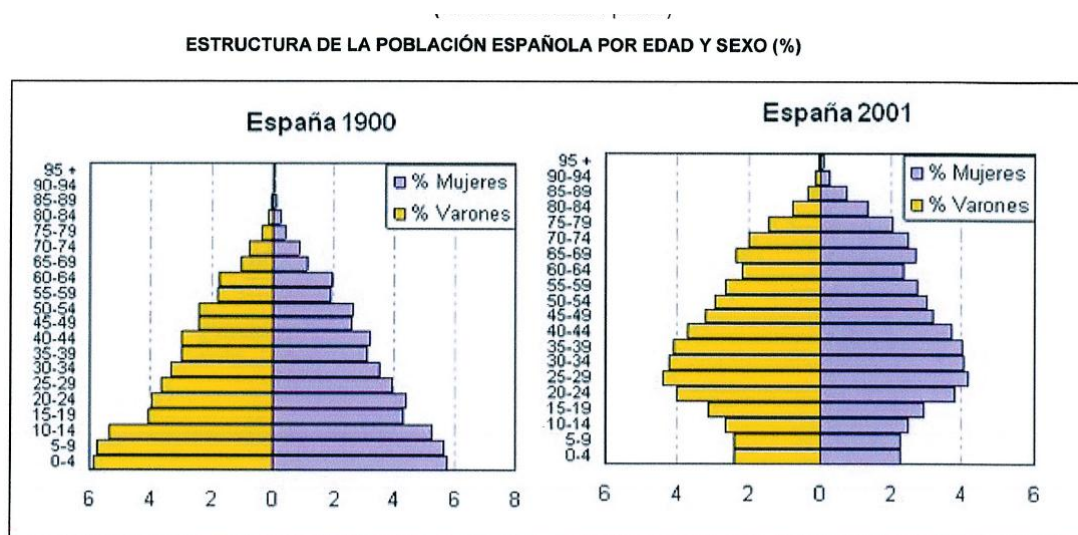
Porcentaje de población de 65 y más años. 2006



PRÁCTICA 4

Las pirámides muestran la estructura por edad y sexo de la población española en 1900 y en 2001. Obsérvelas y conteste:

- Compare la población de 0 a 14 años en ambas figuras. ¿Qué diferencias básicas existen?, ¿qué está ocurriendo en la figura de 2001?, ¿qué consecuencias sociales tiene?
- Compare la población de 65 años y más en ambas figuras. ¿Qué diferencias básicas existen?, ¿qué está ocurriendo en la figura de 2001?, ¿qué consecuencias sociales tiene?
- ¿A qué modelo de estructura demográfica corresponde cada una de estas pirámides? Razone la respuesta explicando brevemente las causas que dan lugar a ambos modelos al comienzo y al final del siglo XX.



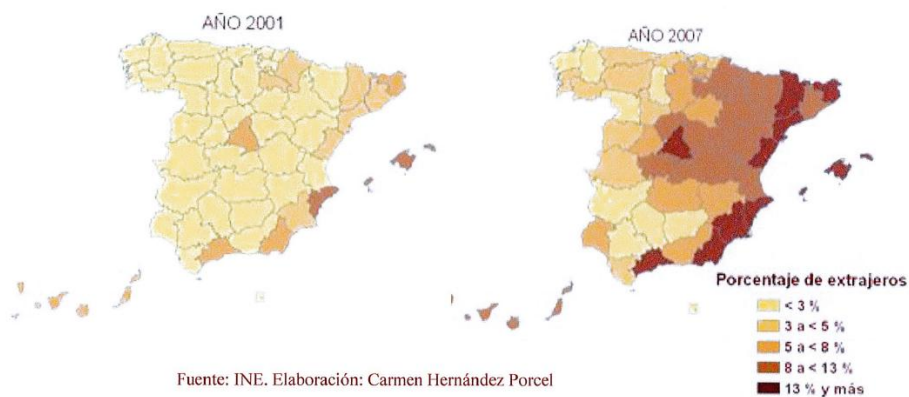
Fuente: INE. Elaboración: J. Monteagudo y C. Hernández

PRÁCTICA 5

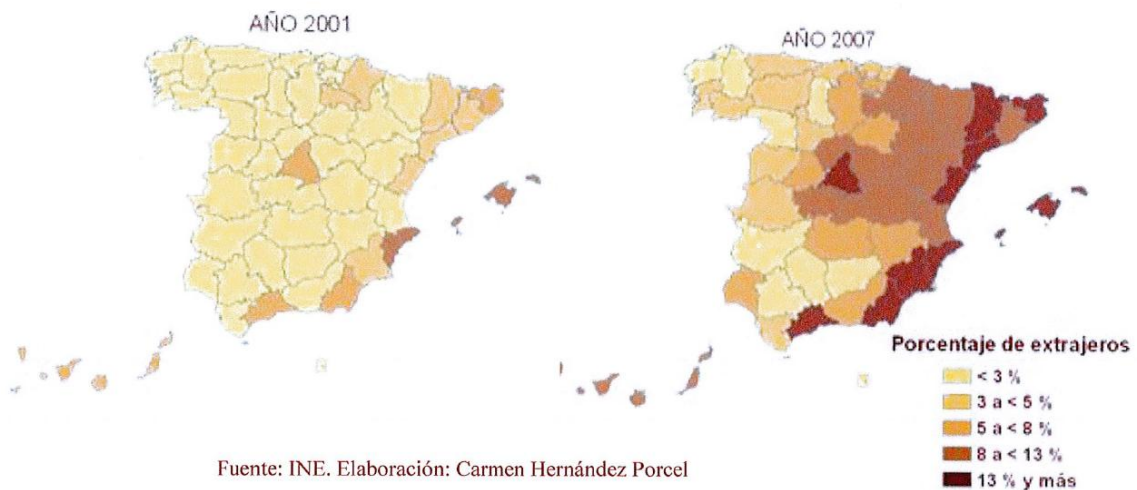
Los siguientes mapas representan el porcentaje de extranjeros con respecto al total de población de cada provincia española en dos años diferentes. Analícelos y conteste a las siguientes preguntas:

1. ¿Qué provincias tienen más de un 8% de extranjeros en ambos años?
2. ¿A qué se debe el cambio entre ambas fechas en esas provincias?
3. Razone las consecuencias demográficas y sociales de la inmigración en España.

Porcentaje de inmigrantes extranjeros sobre la población total



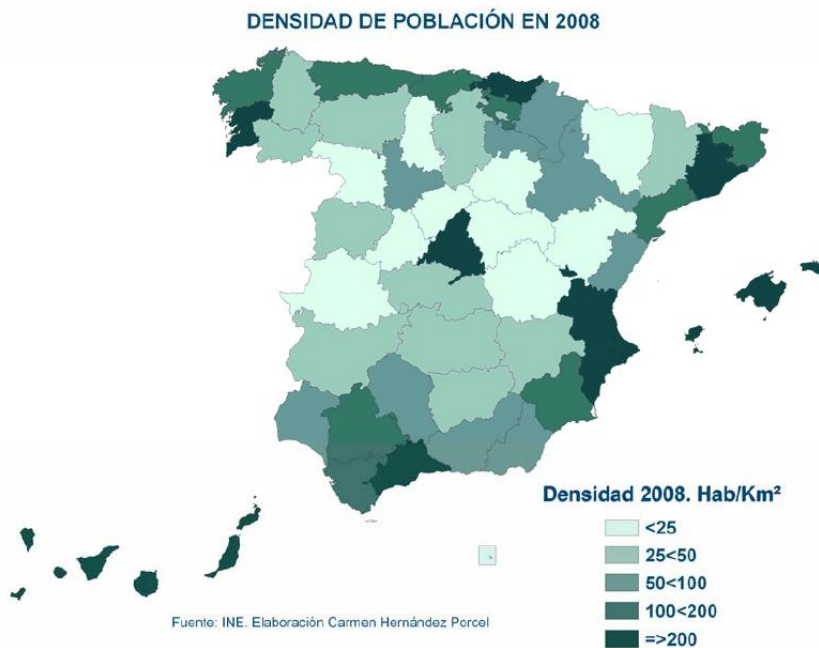
Porcentaje de inmigrantes extranjeros sobre la población total



PRÁCTICA 6

El mapa siguiente representa la densidad de población en España por provincias. Analícelo y responda a las siguientes cuestiones:

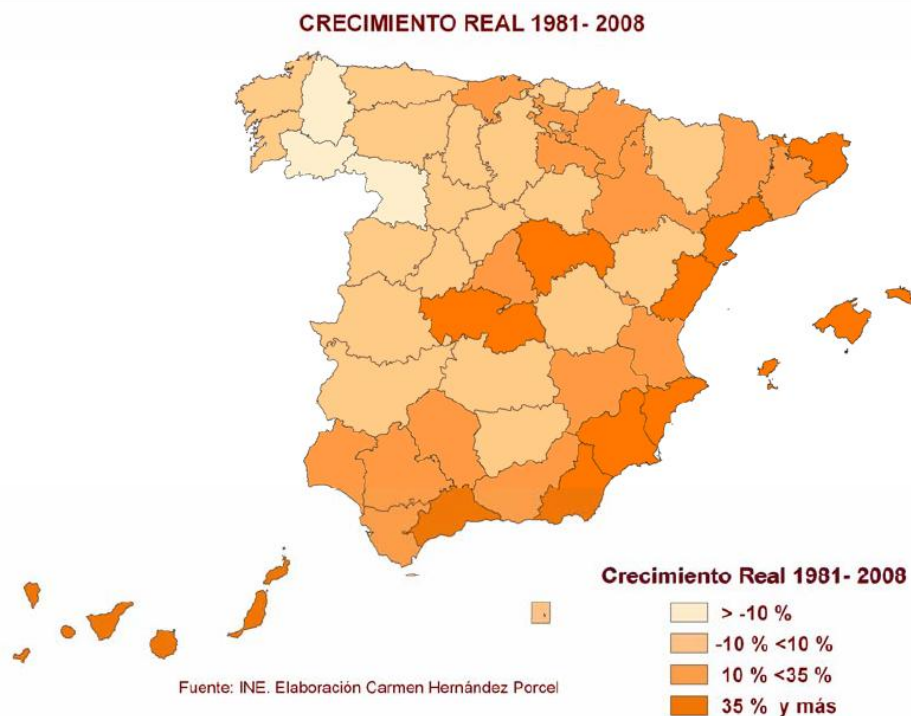
- ¿Qué provincias son las que tienen una densidad mayor de 200 habitantes/km²?
- ¿Qué diferencia hay entre las densidades de las provincias del interior y las de la periferia?
- Explique las causas de esta disimetría y las excepciones.



PRÁCTICA 7

En el mapa siguiente se representa el crecimiento real de la población en España entre 1981 y 2008, por provincias. Analícelo y responda a las siguientes preguntas:

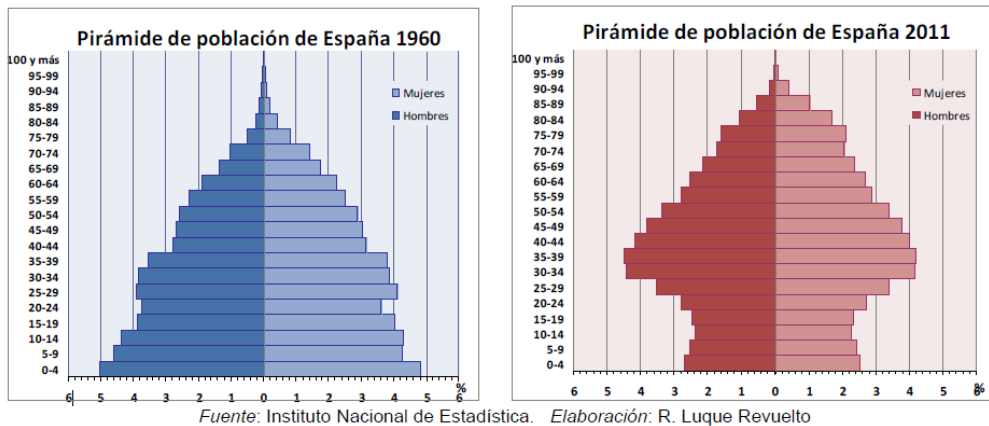
- ¿Qué provincias crecen más del 35%?
- ¿Qué provincias pierden más del 10% de su población?
- Explique las posibles causas del crecimiento en las provincias en las que este es mayor del 10%.
- Cite las provincias andaluzas en las que el crecimiento real se situó entre el 10% y el 35% en dicho período.
- ¿A qué comunidades autónomas pertenecen las provincias en las que el crecimiento real fue inferior al 10%? Explique las razones de este comportamiento.
- ¿Qué provincias crecieron más del 35%? Explique las posibles causas.



PRÁCTICA 8

Las pirámides muestran la estructura por edad y sexo de la población española en 1960 y en 2001. Obsérvelas y conteste:

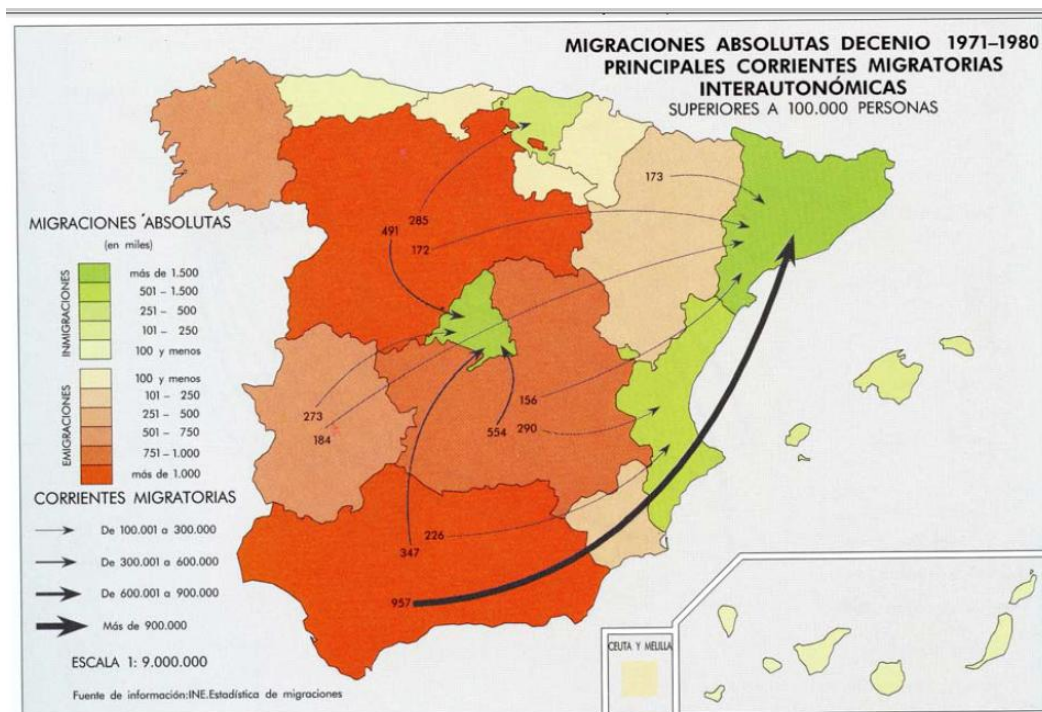
- Compare la población de 0 a 10 años en ambas figuras y explique las diferencias que observa ¿Qué consecuencias sociales tiene ese cambio?
- Compare la población de 65 años y más en ambas figuras. ¿Qué diferencias básicas existen?, ¿Qué consecuencias sociales tienen?
- Explique el modelo de estructura demográfica que representa cada una de estas pirámides. Razone la respuesta explicando brevemente las causas que dan lugar a ambos modelos.



PRÁCTICA 9

Analice el mapa de migraciones interiores en 1971-80 y responda a las siguientes cuestiones:

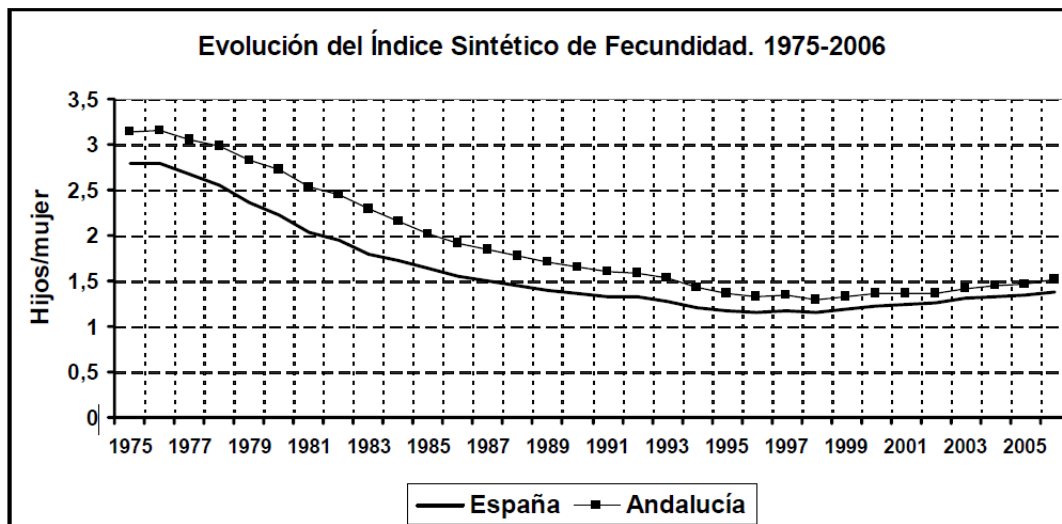
- En la década de 1971-80 ¿Qué Comunidades Autónomas tienen valores emigratorios superiores a 101.000 personas?, ¿Cuáles tienen valores inmigratorios superiores a 101.000 personas?
- Explique las causas principales por las que se producen los resultados que muestra el mapa de 1971- 80.
- ¿Cambia sustancialmente la situación desde la década representada hasta la actualidad? Explíquelo



PRÁCTICA 10

En el siguiente gráfico se representa la evolución del Índice Sintético de Fecundidad en España y en Andalucía. Analízelo y responde a las siguientes cuestiones:

- Indique las fases que se observan en la evolución del índice en España. ¿En cuál de estas fases está asegurado el reemplazo de la población? ¿Por qué?
- Explique por qué el índice es más elevado en Andalucía que en España y por qué en la última fase tienden a aproximarse.
- Explique las causas del descenso del índice en España.

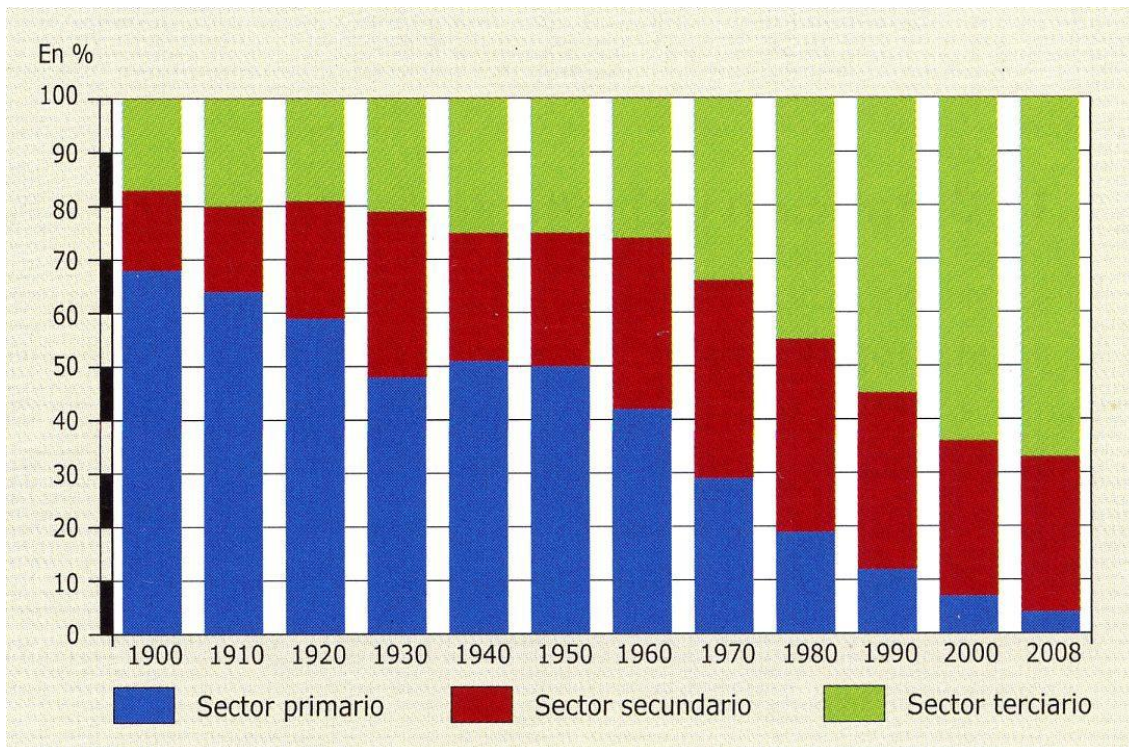


Fuente: INE. Estadísticas del MNP. Elaboración Juan Gámez

PRÁCTICA 11

En el gráfico se representa la evolución de la población activa ocupada, por sectores económicos, en España desde 1900. Analícelo y conteste a las preguntas siguientes:

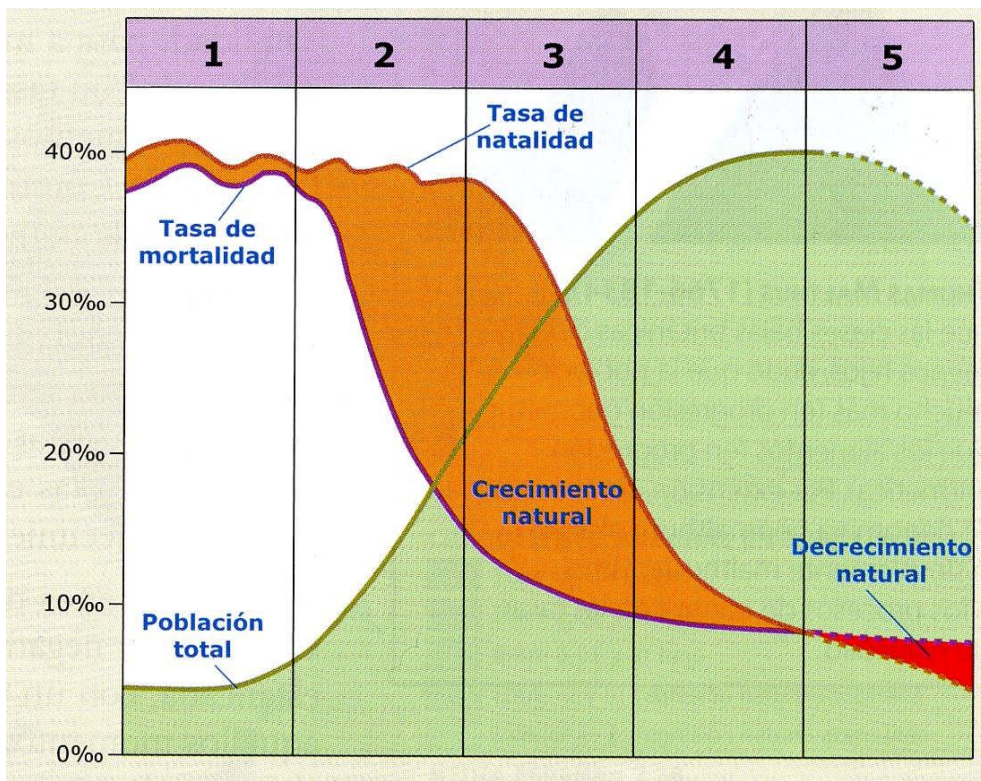
- Describa la evolución de cada sector entre las fechas indicadas indicando las etapas y las tendencias.
- Explique las causas que dan lugar a esta evolución.
- Explique las consecuencias que se derivan de esta evolución.



PRÁCTICA 12

En el gráfico adjunto se representa el modelo de transición demográfica en España. Analícelo y conteste a las preguntas siguientes:

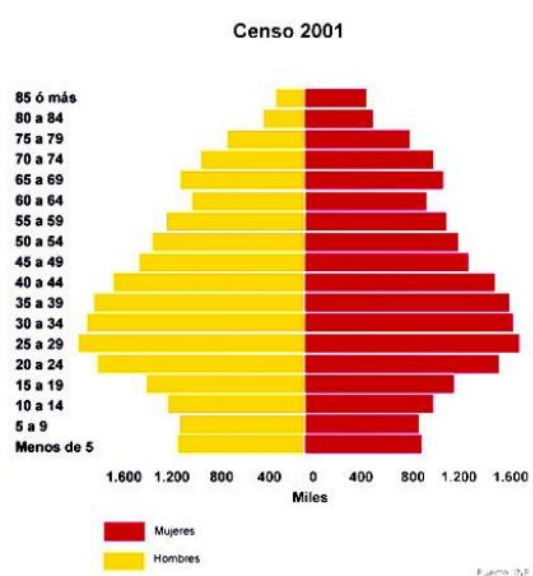
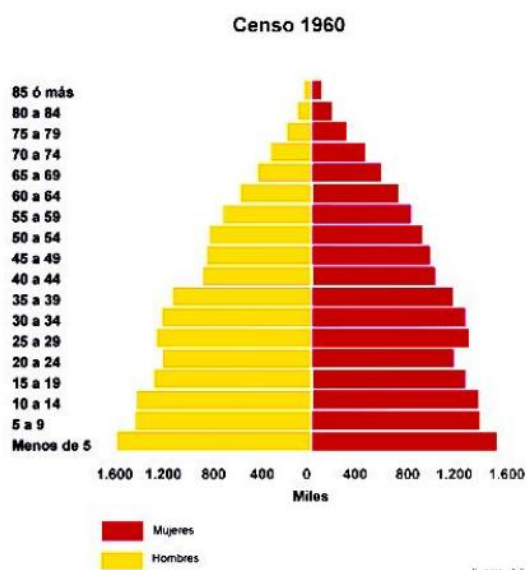
- Reconozca, indicando el número o números, la fase del modelo demográfico antiguo y explique el comportamiento en España de los elementos implicados.
- Reconozca, indicando el número o números, las fases de transición demográfica en España y explique los procesos que durante ella se producen.
- Señale, indicando el número o números, la fase del comportamiento demográfico moderno en España y diga sus características.
- Diga, aproximadamente, a qué fechas corresponden cada una de las fases del modelo en España.



PRÁCTICA 13

Las pirámides representadas muestran la estructura por edad y sexo de la población española en dos fechas distintas. Obsérvelas y conteste:

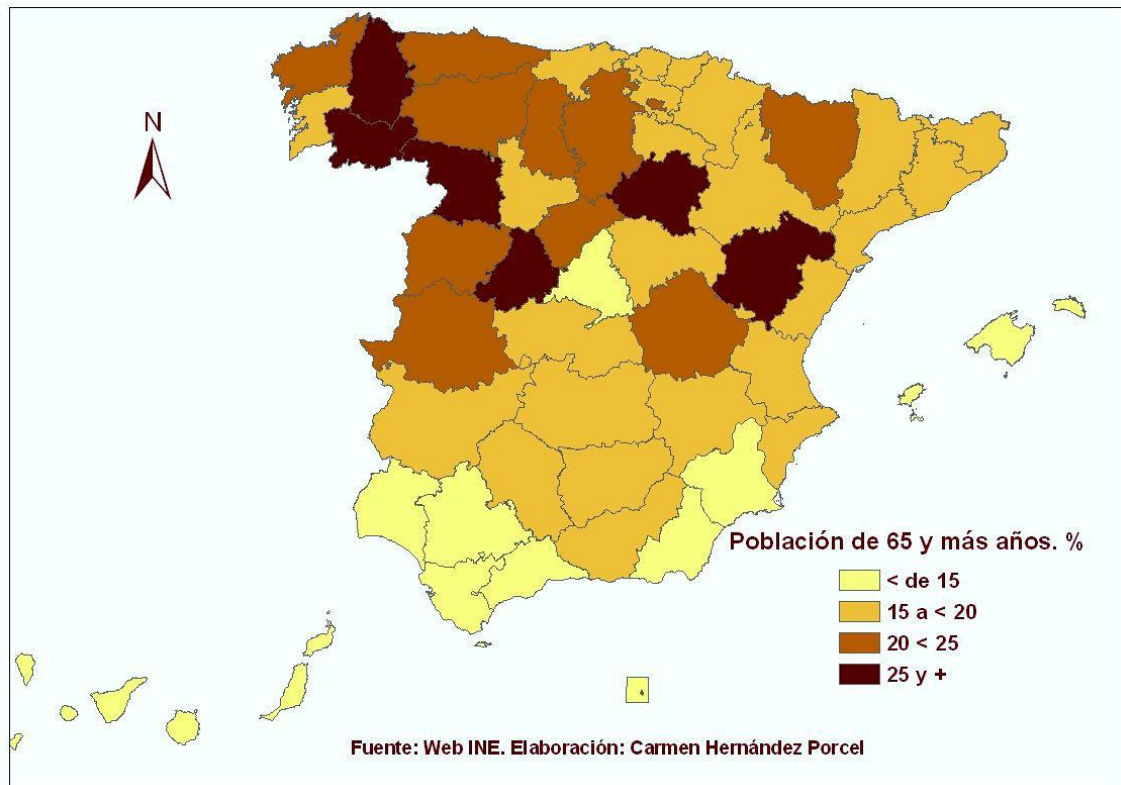
- Identifique a qué período histórico corresponde cada una de las pirámides de población y por qué.
- Señale las principales diferencias entre la estructura poblacional representada en cada caso.
- Explique la evolución de la pirámide de la derecha y las consecuencias que se podrán derivar en el futuro.



PRÁCTICA 14

En el mapa siguiente se representa la población de 65 y más años en España, por provincias, en 2008. Analícelo y responda a las siguientes cuestiones:

- Enumere de norte a sur las provincias con un porcentaje de población anciana de 25 y +.
- Describa las principales consecuencias del proceso de envejecimiento en dichas provincias.
- Explique las causas de la desigual distribución espacial de la población anciana.



PRÁCTICA 15

En el gráfico se representan los componentes de la actividad económica española según su aportación al Producto Interior Bruto (PIB) en 2006. Analícelo y conteste a las siguientes preguntas:

- a) ¿Qué actividades integran el **Sector Primario** y qué peso tiene éste en la formación del PIB? En relación con los demás sectores, explique por qué tiene tan escasa representación.
- b) ¿Qué porcentaje aporta el **Sector Terciario** y qué actividades se incluyen en él?
- c) El **Sector Secundario** está representado por dos componentes ¿Cuáles son y qué porcentaje aporta cada uno de ellos? ¿Cuál de ellos ha tenido un papel esencial como desencadenante de la crisis económica actual y por qué?

