

Materia: GEOGRAFÍA E HISTORIA (1º ESO) (ACNEES)

Tareas **3º EVALUACIÓN**

Contenido: **LA CASA ROMANA**

Ficha: **1 de 4**

ALUMNO/A:

Prof. Guardia:

Apoyo Libro de Texto (NO)

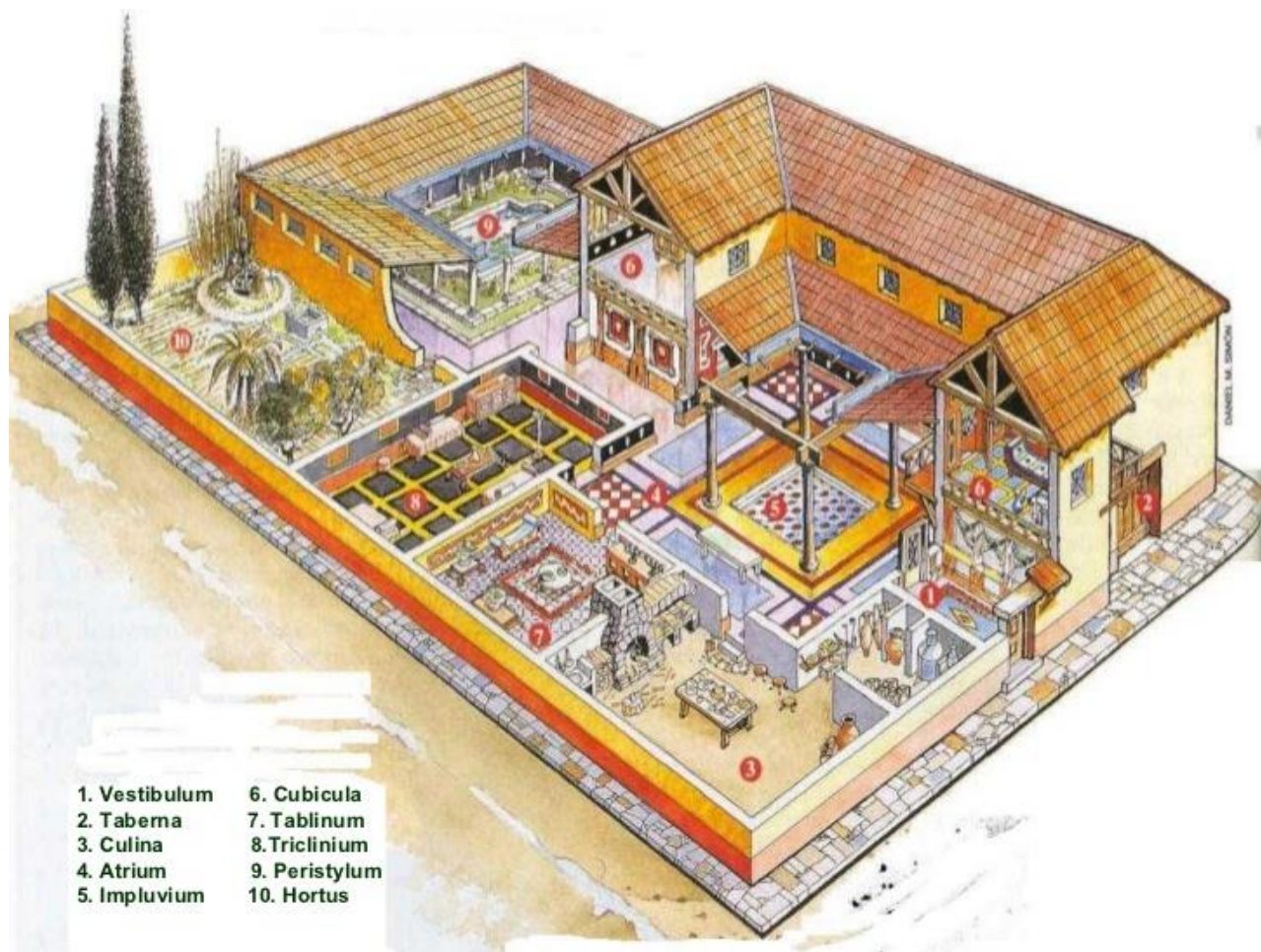
FECHA Y HORA:




Fichas de trabajo ESO-Aula de Convivencia by Mª Begoña García Pérez is licensed under a [Creative Commons Reconocimiento-NoComercial-CompartirIgual 4.0 Internacional License](https://creativecommons.org/licenses/by-nc-sa/4.0/).

TEORÍA LA CASA ROMANA

Los romanos ricos vivían en casas de planta baja, la llamada **domus**, que no tenía ventanas al exterior pero sí un interior muy atractivo. Se entraba desde la calle por la puerta principal (**ostium**) a través de un recibidor o **vestíbulo (vestibulum)**, que llevaba al **atrio (atrium)**, un amplio patio cuadrado que servía como zona de paso para dar acceso al resto de las habitaciones de la casa.



En el atrio los romanos ponían un altar llamado **lararium** en el que situaban estatuillas que representaban los **dioses domésticos**, protectores de la familia y a los que diariamente el cabeza de familia rendía culto, encendiendo candiles y velas y poniendo ofrendas de flores, vino o alimentos. Estos dioses eran los lares, protectores de la casa y sus habitantes, los penates, protectores de la despensa y otros enseres y los manes, que eran los espíritus de los antepasados.



Larario, estatuillas de dioses lares y atrio con el compluvio o abertura en el tejado para la lluvia y el estanque o impluvio.

El atrio estaba descubierto pues en su centro se situaba un estanque cuadrado llamado **impluvium**, que recogía el agua de lluvia que escurría por los tejados a través de una abertura llamada **compluvium**, y que servía a la casa para almacenar agua de uso para baños y limpieza, pero no para beber o cocinar, la cual se obtenía de fuentes que se distribuían por las ciudades.

Las habitaciones se distribuían alrededor del atrio: los dormitorios o **cubicula** (en singular *cubiculum*), la cocina o **culina**, el **tablinum** o despacho del padre y el comedor o **triclinium**, donde los romanos realizaban sus banquetes recostados en divanes en torno a una mesa común.

A partir del siglo I a.C. se puso de moda añadir a la casa un **peristilo (perystilum)** o patio abierto porticado al estilo griego, para el uso familiar y, en algunos casos, un huerto-jardín llamado **hortus**. A veces al peristilo se unía un salón de estar llamado **exedra**.

Las casas grandes tenían bodega y despensa. Los esclavos domésticos dormían en esteras que extendían en la cocina o los almacenes o en pequeños dormitorios en una planta superior.

En las grandes ciudades la *domus* tenía además una tienda o **taberna (tabernae)** que daba a la calle, que se alquilaba a comerciantes o artesanos, o si era el caso, constituía el taller del dueño de la casa.

Los romanos cubrían los suelos con mosaicos y las paredes con pinturas al fresco, tenían pocos muebles, pero no les faltaban camas, divanes, mesas, sillas y armarios o arcones para guardar la vajilla o la ropa.

Materia: GEOGRAFÍA E HISTORIA (1º ESO) (ACNEES)

Tareas **3º EVALUACIÓN**

Contenido: **LA CASA ROMANA**

Ficha: **1 de 4**

ALUMNO/A:

Prof. Guardia:

Apoyo Libro de Texto (NO)

FECHA Y HORA:



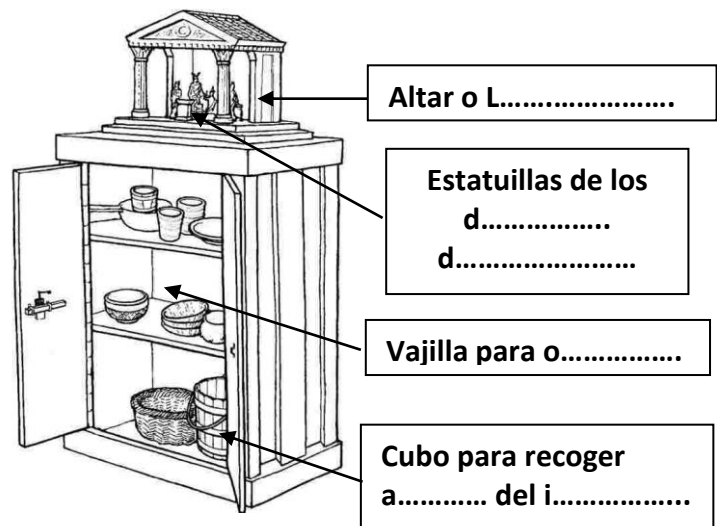
Fichas de trabajo ESO-Aula de Convivencia by Mª Begoña García Pérez is licensed under a [Creative Commons Reconocimiento-NoComercial-CompartirIgual 4.0 Internacional License](https://creativecommons.org/licenses/by-nc-sa/4.0/).

EJERCICIOS

1. Une el nombre romano de las partes de la casa con su significado en castellano.

- | | |
|---------------|--|
| a. Vestibulum | 1) Dormitorio |
| b. Tabernae | 2) Patio porticado ajardinado |
| c. Culina | 3) Salón de estar privado |
| d. Atrium | 4) Jardín-huerto |
| e. Compluvium | 5) Recibidor o entrada |
| f. Impluvium | 6) Despacho-biblioteca |
| g. Cubiculum | 7) Altar doméstico |
| h. Ostium | 8) Comedor para banquetes |
| i. Tablinum | 9) Cocina |
| j. Triclinium | 10) Estanque para el agua de lluvia |
| k. Perystilum | 11) Abertura en el tejado para la lluvia |
| l. Exedra | 12) Patio central distribuidor |
| m. Lararium | 13) Tienda |
| n. Hortus | 14) Puerta principal |

2. Explica qué crees representa este dibujo y señala en qué habitación se situaba y para qué serviría los útiles que aparecen abajo. Pinta después el dibujo y completa los nombres.



3. Identifica los dioses domésticos de los romanos:

- a. MANES: dioses de los
- b. PENATES: dioses protectores de la
- c. LARES: dioses protectores del

4. Completa el dibujo de la *domus* romana con los nombres de las partes de la casa.



5. Observa el dibujo. ¿Qué mobiliario ves y dónde se situaba?

VALORACIÓN DEL PROFESOR DE GUARDIA	¿Trabaja?	SI	NO
OBSERVACIONES			