

Materia: GEOGRAFÍA E HISTORIA (1º ESO)

Tareas **2º EVALUACIÓN**

Contenido: **LA CIVILIZACIÓN MESOPOTÁMICA**

Ficha: **1 de 4**

ALUMNO/A:

Prof. Guardia:

Apoyo Libro de Texto (sí): tema 10 pp. 146-151

FECHA Y HORA:

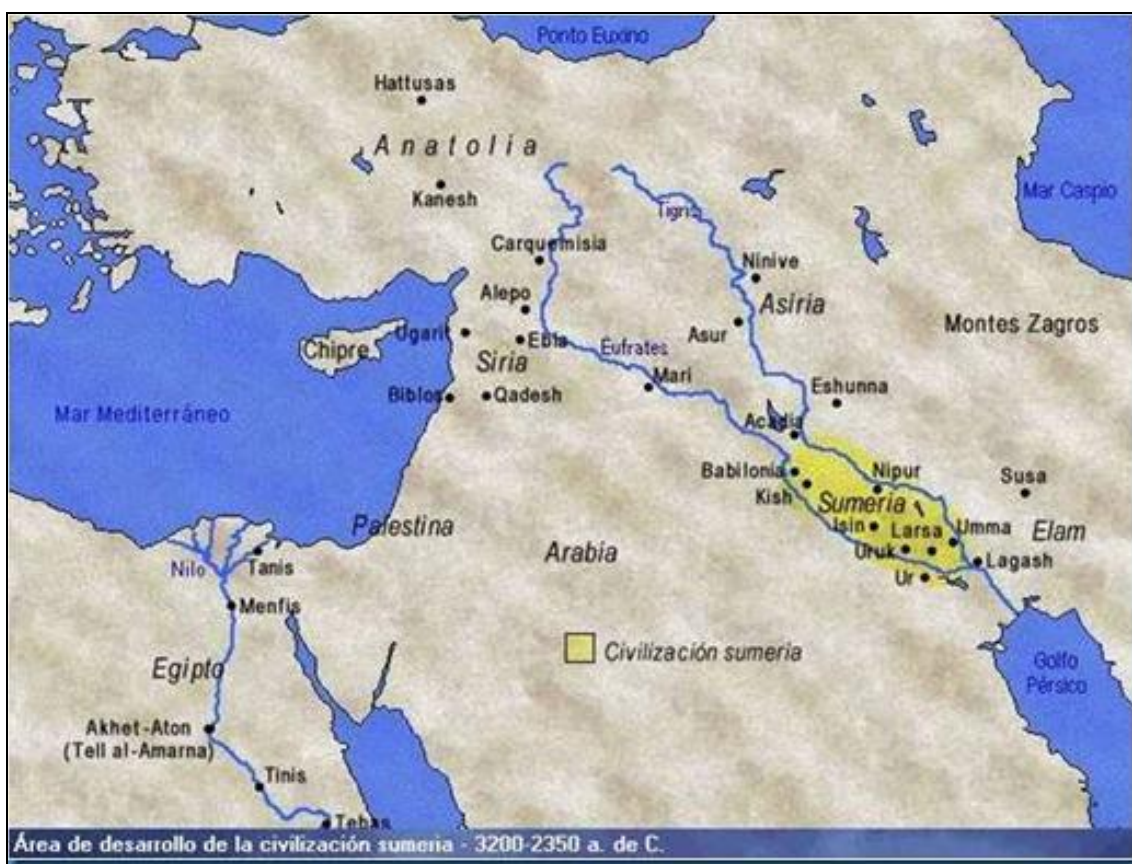


Fichas de trabajo ESO-Aula de Convivencia by Mª Begoña García Pérez is licensed under a [Creative Commons Reconocimiento-NoComercial-CompartirIgual 4.0 Internacional License](https://creativecommons.org/licenses/by-nc-sa/4.0/).

TEORÍA

LA CIVILIZACIÓN MESOPOTÁMICA: ESPACIOS Y PUEBLOS

Mesopotamia significa “entre ríos” en griego, nombre acuñado por el historiador griego antiguo Heródoto, para referirse a la **región de Oriente Próximo situada entre los ríos Tigris y Éufrates**, y que corresponde hoy día a los países de Irak y nordeste de Siria. Está limitada esta región por las montañas de Armenia y Tauro por el norte, el golfo Pérsico y el desierto de Arabia por el sur, los Montes Zagros y la región de Persia por el este y el desierto de Siria por el oeste.



La Media y Baja Mesopotamia, está conformada por dos **regiones: Sumer o Sumeria**, poblada por el pueblo sumerio, y donde destacaron las ciudades-Estado de Ur, Uruk, Lagash, y **Acadia** (la región bíblica de Caldea, de donde era originario el patriarca Abraham), en donde destacaron las ciudades de Akkad, Kish y Babilonia, y que estaba poblada por los acadios, de raza semita (árabes). En la Alta Mesopotamia la región de **Asiria**, poblada también por otro pueblo semita, los asirios, destacó por las ciudades de Assur, Nínive, Khorsabad y Mari.

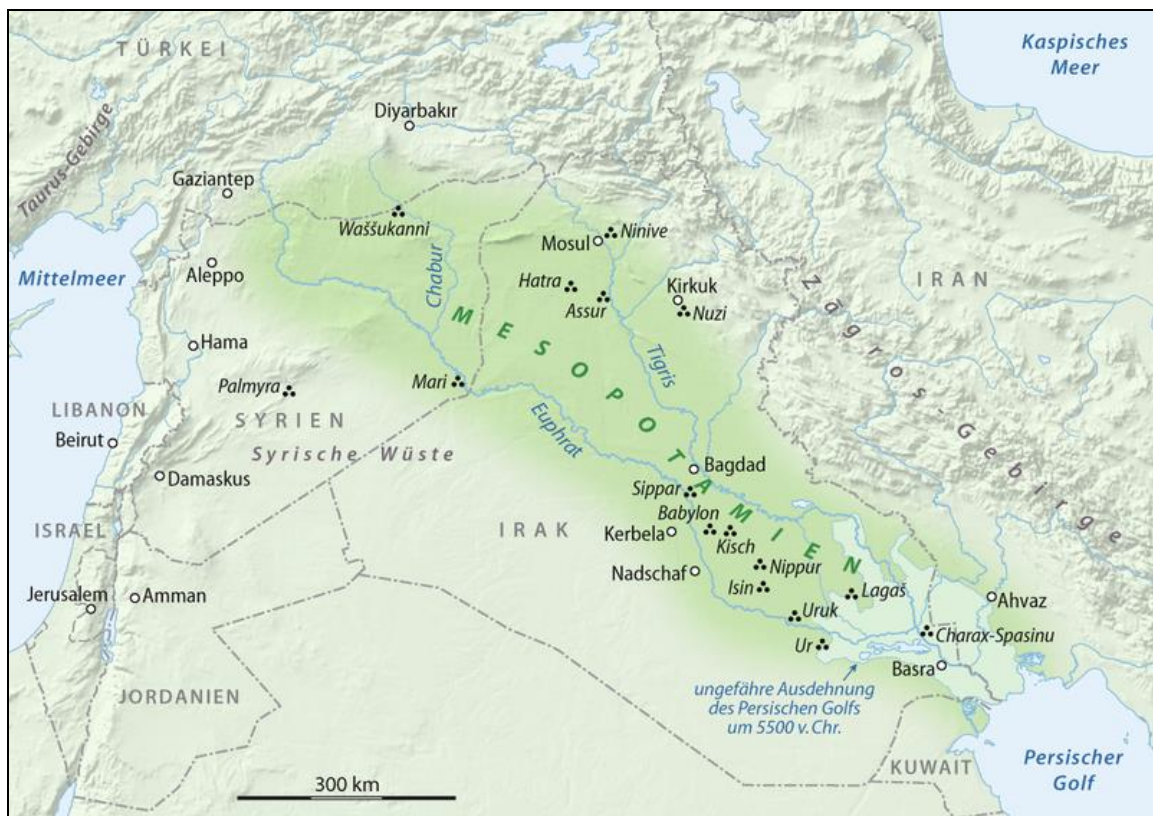
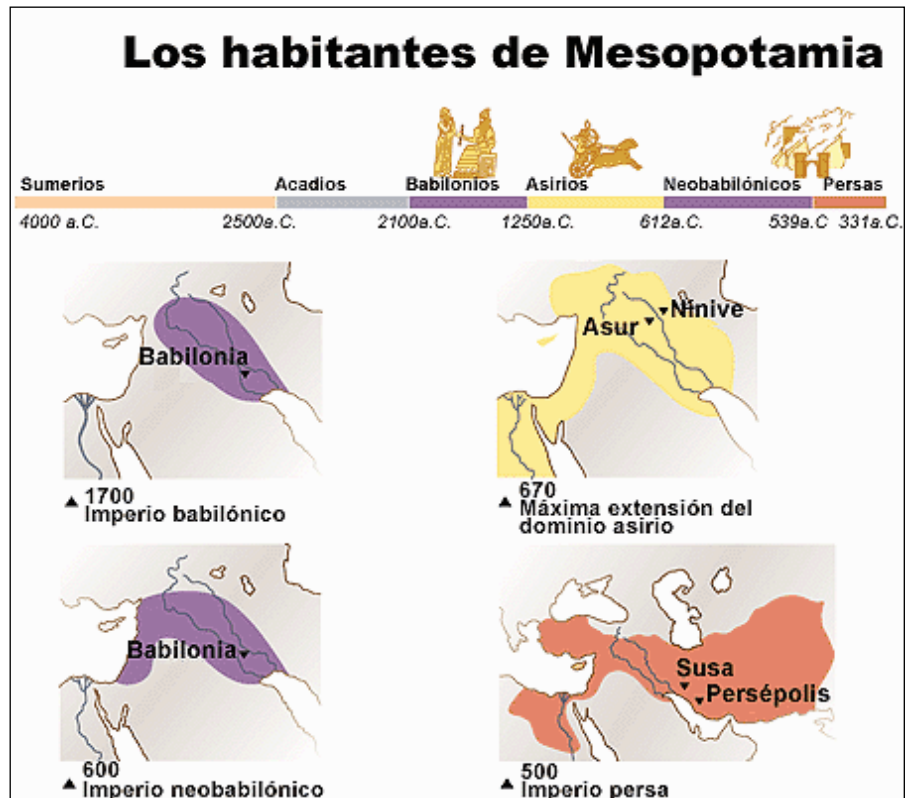
El sur de Mesopotamia era una región extremadamente fértil y apta para la agricultura de regadío, en donde sus habitantes desarrollaron una férrea sociedad urbana capaz de crear complejos

sistemas de irrigación (presas, canales, compuertas), haciendo de esta región un espacio apetecido por los sucesivos pueblos que dominaron su territorio.

Si en el IV milenio las ciudades-Estado sumerias, se limitaban a guerrear entre sí, a partir de mediados del III milenio otras regiones cercanas establecieron de manera sucesiva su dominio unificando territorios y formando Imperios: el Imperio Acadio (2.300-2150

a.C.), el Imperio Babilónico (1.730-1.530 a.C.), el Imperio Asirio (siglos XIV al VII a.C.), y el Imperio Neobabilónico (siglos VII-VI a.C.), para formar parte a partir del siglo VI a. C. del Imperio Persa, a su vez conquistado por el macedonio Alejandro Magno en el siglo IV a. C.

Mapa e información elaborada a partir de <http://elblogdetucidides.blogspot.com.es>



Fuente de los mapas: <http://commons.wikimedia.org> y <http://historiadelartei.wikispaces.com>

Materia: GEOGRAFÍA E HISTORIA (1º ESO)

Tareas **2º EVALUACIÓN**

Contenido: **LA CIVILIZACIÓN MESOPOTÁMICA**

Ficha: **1 de 4**

ALUMNO/A:

Prof. Guardia:

Apoyo Libro de Texto (sí): tema 10 pp. 146-151

FECHA Y HORA:



Fichas de trabajo ESO-Aula de Convivencia by Mª Begoña García Pérez is licensed under a [Creative Commons Reconocimiento-NoComercial-CompartirIgual 4.0 Internacional License](https://creativecommons.org/licenses/by-nc-sa/4.0/).

EJERCICIOS

1. Lee la ficha de teoría y contesta las siguientes preguntas.

- a. **¿Entre qué ríos está situada Mesopotamia?**

- b. **¿Por qué conocemos a esta región como Mesopotamia?**

- c. **¿A qué países actuales corresponden esta región de Mesopotamia?**

- d. **¿Qué accidentes geográficos limitan Mesopotamia?**
 - i. **Por el Norte:**

 - ii. **Por el Sur:**

 - iii. **Por el Este:**

 - iv. **Por el Oeste:**

- e. **¿Qué tres regiones forman la antigua Mesopotamia?**

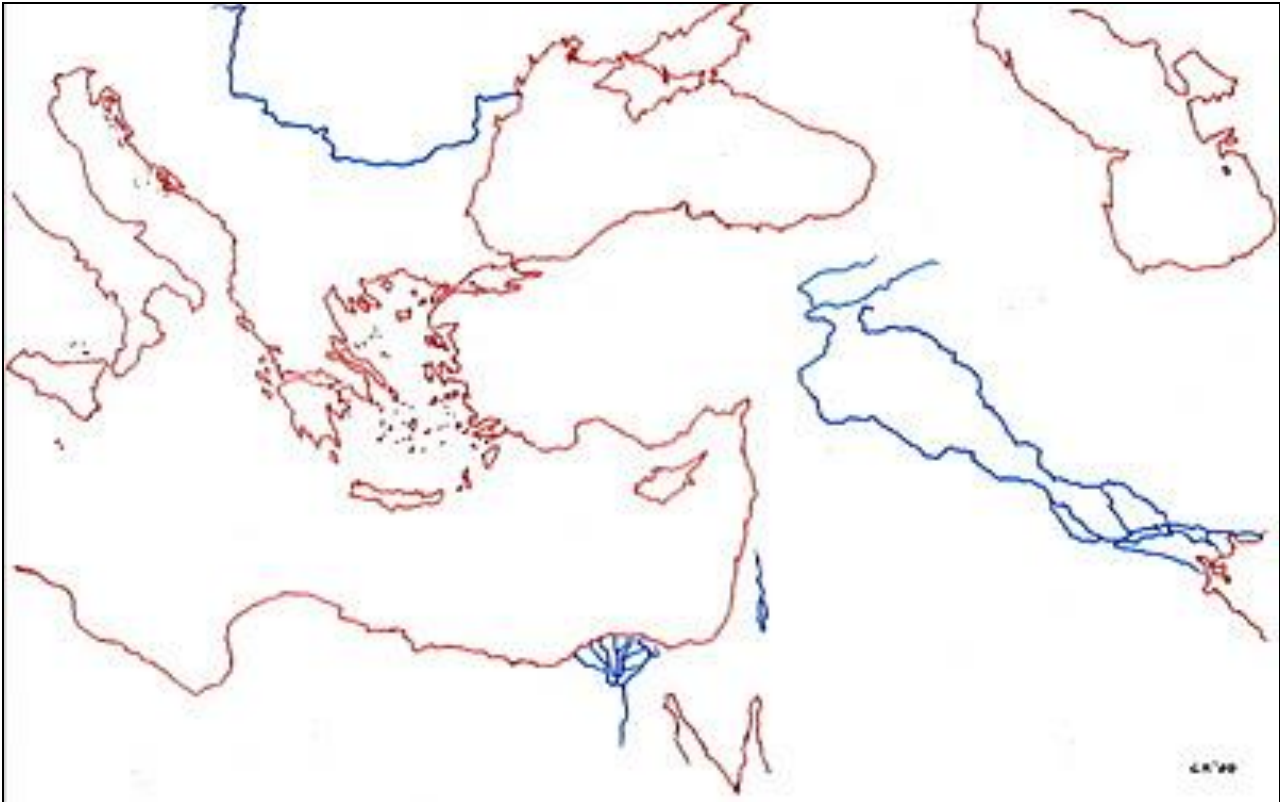
- f. **¿A qué pueblos pertenecían los habitantes de estas tres regiones?**

- g. **Nombra algunas de las ciudades más destacadas de cada una de las regiones de Mesopotamia.**
 - i. **Baja.- S.....:**
 - ii. **Media.- A.....:**
 - iii. **Alta.- A.....:**

- h. **¿Por qué esta región fue un espacio apetecido por sucesivos pueblos deseosos de dominarlo?**

- i. **¿Qué periodos históricos se sucedieron en la Historia de la Antigua Mesopotamia?**

2. Copia en el mapa mudo adjunto la información del mapa geográfico de Mesopotamia. Observa los datos que aparecen en la ficha de teoría, y localiza los accidentes geográficos con sus nombres, y las ciudades y las regiones que conformaban Mesopotamia. Pinta también de colores los mares limítrofes, las zonas montañosas, los valles fértiles y los desiertos y elabora una leyenda significativa.



3. Elabora sobre esta barra el eje cronológico de la civilización mesopotámica, situando los distintos periodos históricos que atraviesa.

4. Ordena de lo más antiguo a lo más moderno.

IMPERIO ASIRIO, IMPERIO PERSA, CIUDADES-ESTADO SUMERIAS, ALEJANDRO MAGNO, IMPERIO ACADIO

VALORACIÓN DEL PROFESOR DE GUARDIA	¿Trabaja?	SI	NO
OBSERVACIONES			