

**Materia: GEOGRAFÍA E HISTORIA (2º ESO)**

Tareas **1ª EVALUACIÓN**

Contenido: **UN REINO GERMÁNICO: LOS VISIGODOS EN HISPANIA**

Ficha: 1 de 4

ALUMNO/A:

Prof. Guardia:

Apoyo Libro de Texto (sí): tema 1 pág 10 en adelante

FECHA Y HORA:



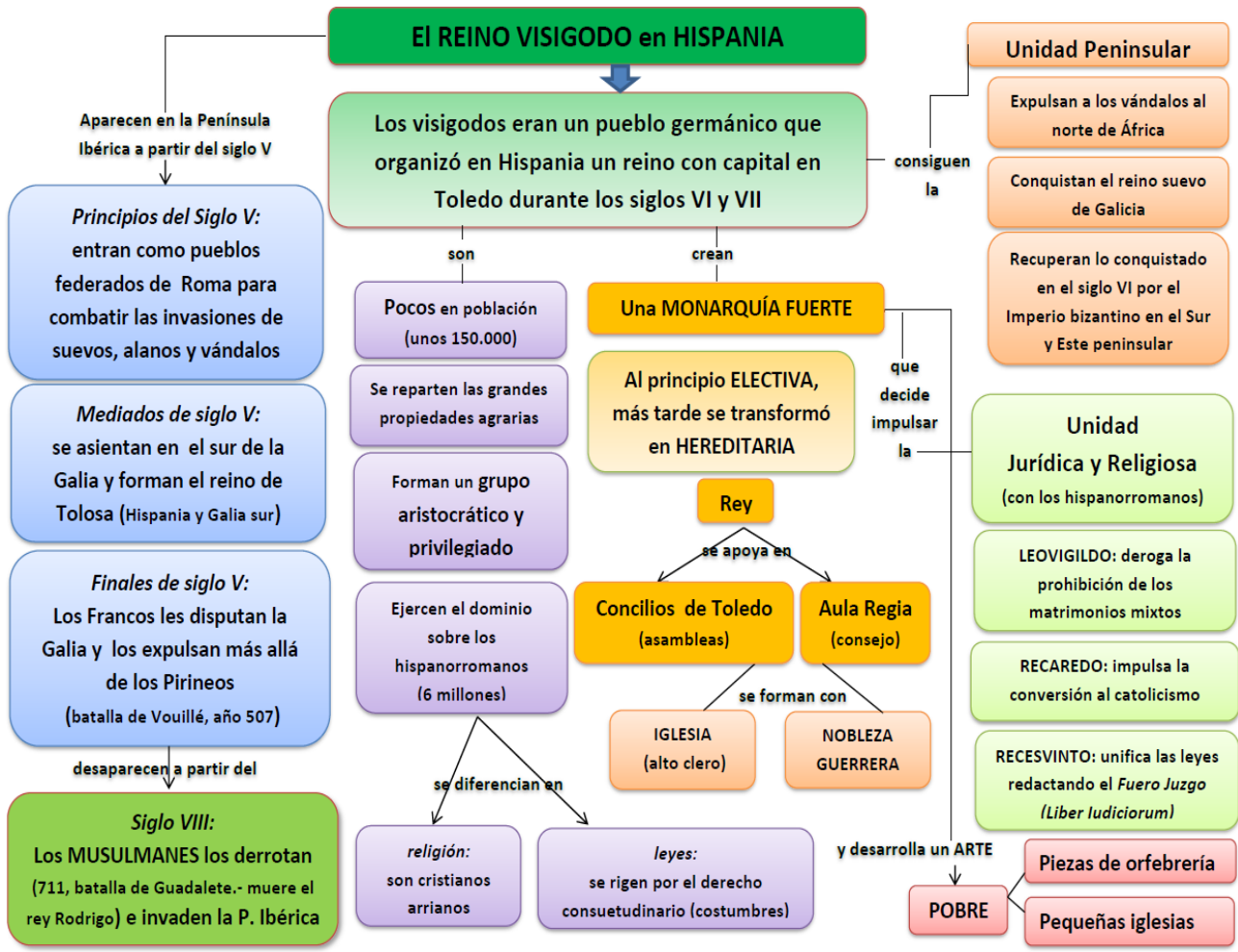
Fichas de trabajo ESO-Aula de Convivencia by Mª Begoña García Pérez is licensed under a [Creative Commons Reconocimiento-NoComercial-CompartirIgual 4.0 Internacional License](https://creativecommons.org/licenses/by-nc-sa/4.0/).

**TEORÍA**  
**UN REINO GERMÁNICO: LOS VISIGODOS EN HISPANIA**



Arriba, migraciones de los pueblos godos por el Imperio Romano y el reino de Tolosa. (fuente: <http://kappostorias.blogspot.com.es>). El reino visigodo en Hispania, abajo. (fuente: <http://www.profesorfrancisco.es>)





Fragmento del cuadro LA CONVERSIÓN DE RECAREDO de Antonio Muñoz Degraín, 1888.

El rey RECAREDO, hijo y sucesor de Leovigildo, formalizó su conversión al catolicismo en el III Concilio de Toledo en el 589 y tras él el resto de la nobleza visigoda abjuró de la fe cristiana arriana. Con la conversión se puso fin a la división entre los gobernantes visigodos y sus súbditos hispanorromanos, pero trajo también el fin de la relativa tolerancia religiosa vivida en Hispania y la persecución a los arrianos considerados herejes y los judíos sufrieron una brutal persecución a lo largo del siglo VII.

**Materia: GEOGRAFÍA E HISTORIA (2º ESO)**

Tareas **1ª EVALUACIÓN**

Contenido: **UN REINO GERMÁNICO: LOS VISIGODOS EN HISPANIA**

Ficha: 1 de 4

ALUMNO/A:

Prof. Guardia:

Apoyo Libro de Texto (sí): tema 1 pág 10 en adelante

FECHA Y HORA:



Fichas de trabajo ESO-Aula de Convivencia by Mª Begoña García Pérez is licensed under a [Creative Commons Reconocimiento-NoComercial-CompartirIgual 4.0 Internacional License](https://creativecommons.org/licenses/by-nc-sa/4.0/).

### EJERCICIOS

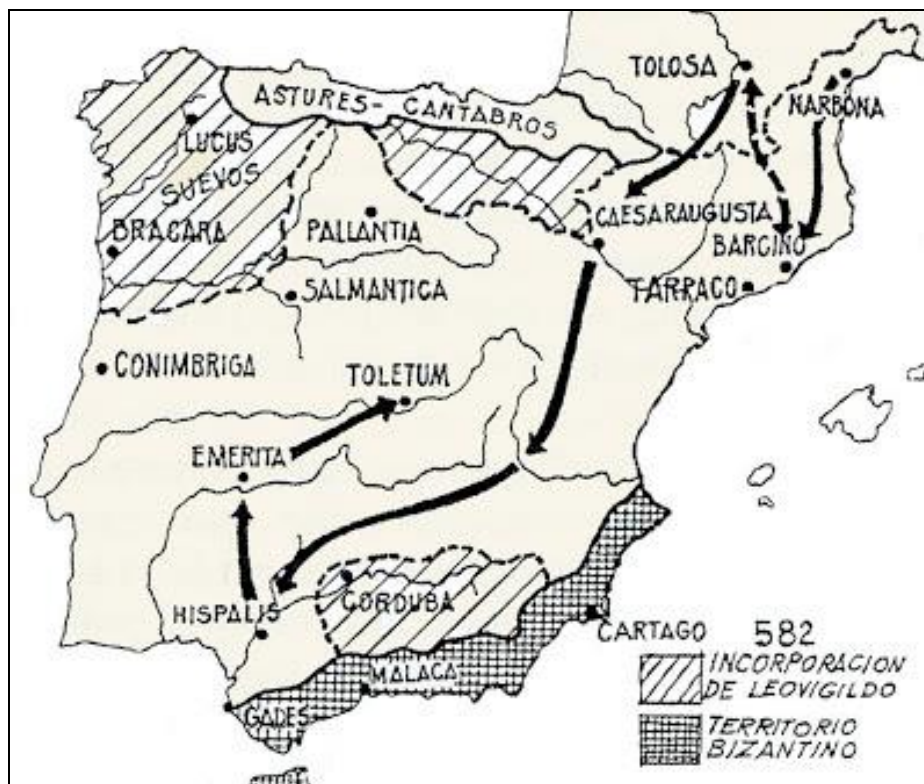
1. Observa el primer mapa y contesta a las siguientes preguntas:

a. ¿De qué parte de Europa provenían originariamente los Godos?

b. ¿Qué itinerario siguieron los visigodos por las tierras europeas que formaban parte del Imperio Romano? ¿Dónde estaban asentados hacia el siglo V?

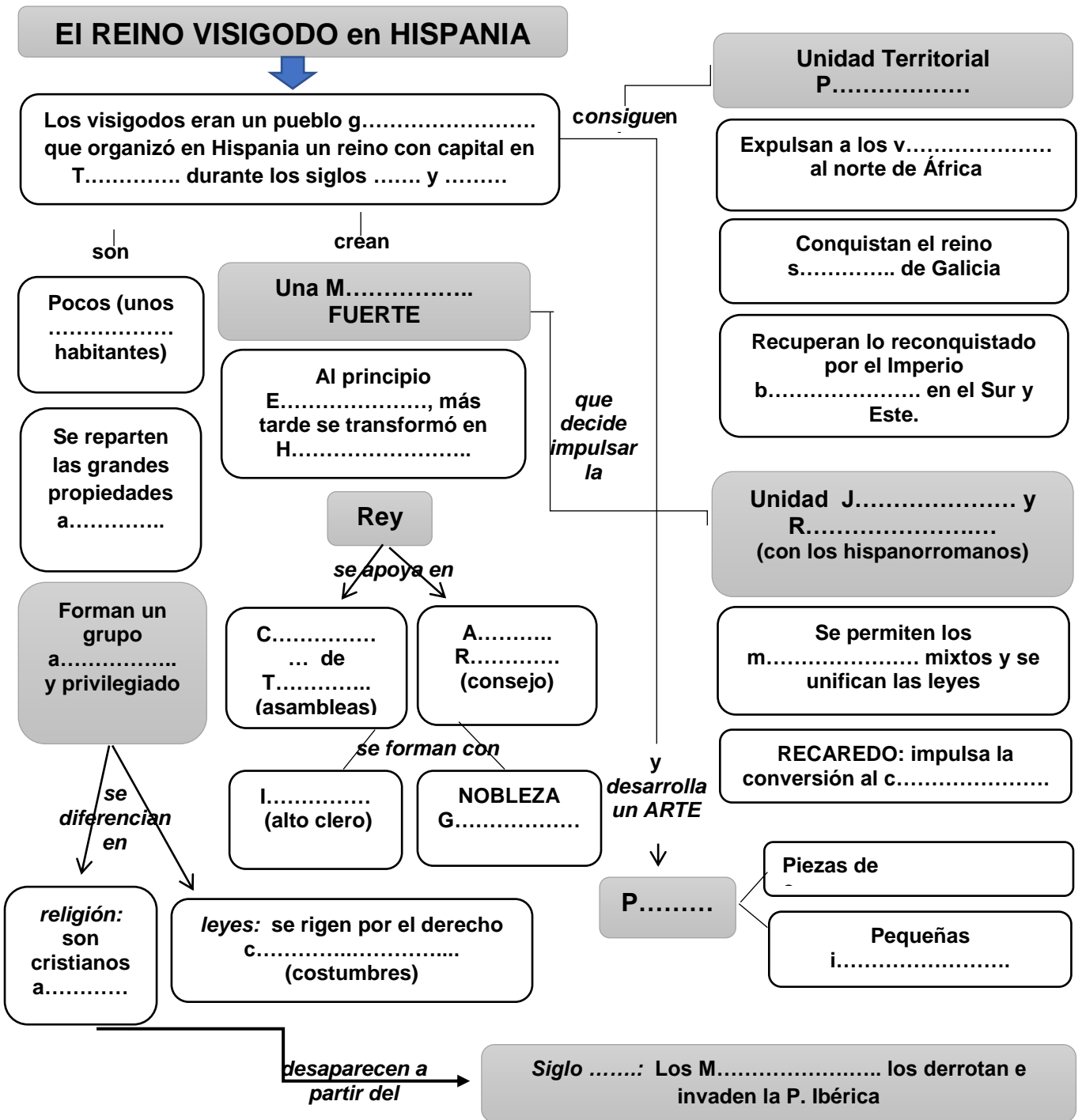
c. ¿Qué itinerario siguieron los ostrogodos? ¿Dónde estaban asentados hacia el siglo V?

2. Pinta con colores en el mapa adjunto la información que aparece en el 2º mapa.



(fuente: <http://traianeum.blogspot.com.es>)

3. Completa el esquema copiando la información del adjunto.



4. Contesta las preguntas:

- a. ¿Qué religión practicaban en origen los visigodos?
- b. ¿Qué se consigue con la conversión del rey Recaredo?

VALORACIÓN DEL PROFESOR DE GUARDIA	¿Trabaja?	SI	NO
OBSERVACIONES			