

TEMA 7: EUROPA



TEMA 7: EUROPA

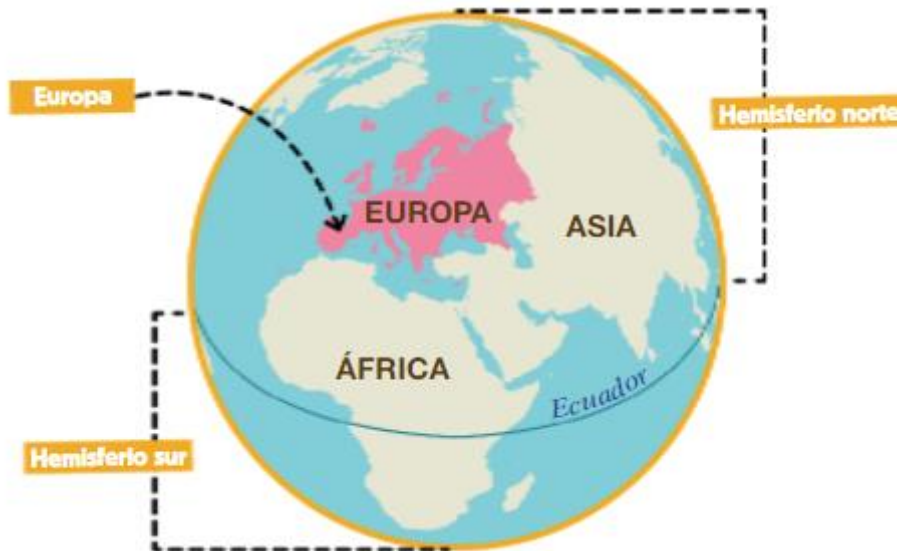
- I. NUESTRO CONTINENTE EUROPA

- II. PRINCIPALES PAISES Y CAPITALES

TEMA 3: EUROPA

I. NUESTRO CONTINENTE EUROPA

Europa es un continente que se sitúa en el hemisferio norte de nuestro planeta Tierra.



Comparado con otros continentes, tiene un tamaño pequeño.

Europa es el segundo continente más pequeño del mundo tras Oceanía. En realidad se trata de una gran península situada en el Hemisferio Norte al oeste del bloque continental de Eurasia.





Vamos a estudiar ahora sus límites:

Limita al norte con el océano Glacial Ártico; al sur con el Cáucaso, el mar Negro y el mar Mediterráneo; al este con los montes Urales, el río Ural y el mar Caspio; y al oeste con el océano Atlántico.

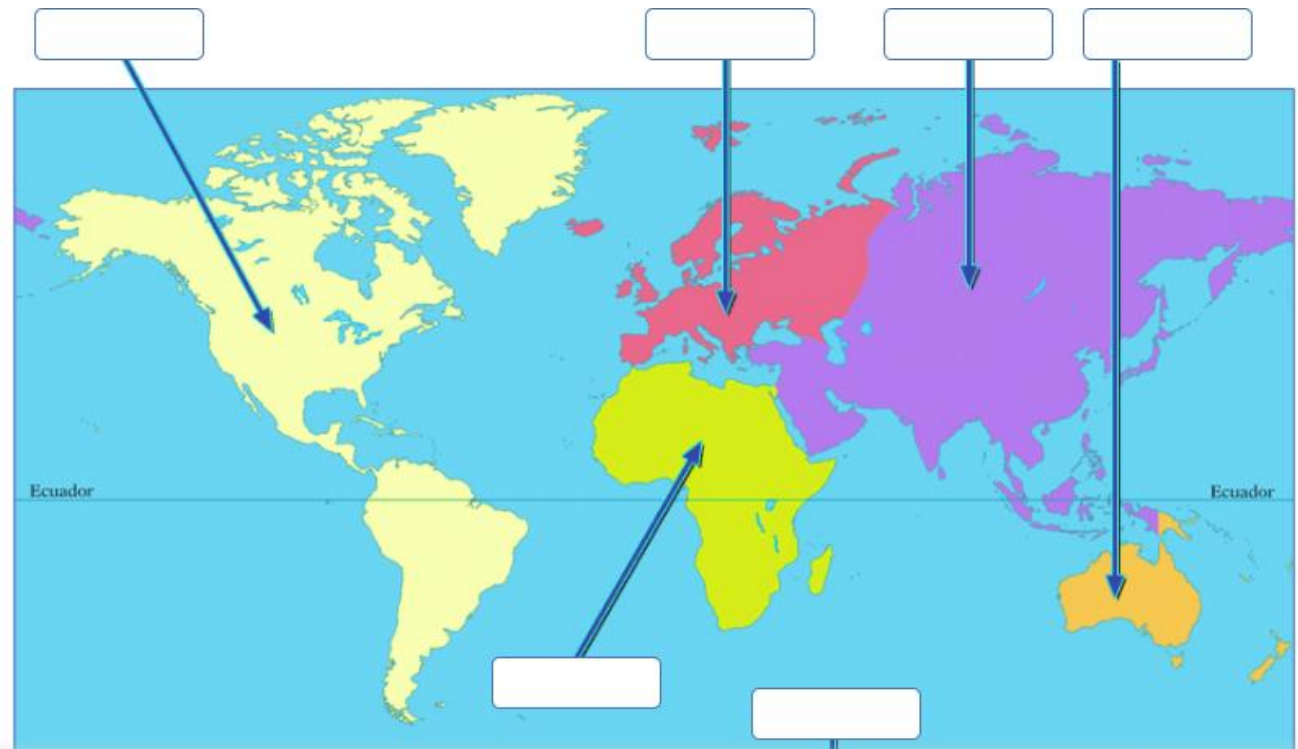
Cuenta con 10.530.751 kilómetros cuadrados, lo que representa el 2% de la superficie de la Tierra.



Localización y límites de Europa

ACTIVIDADES:

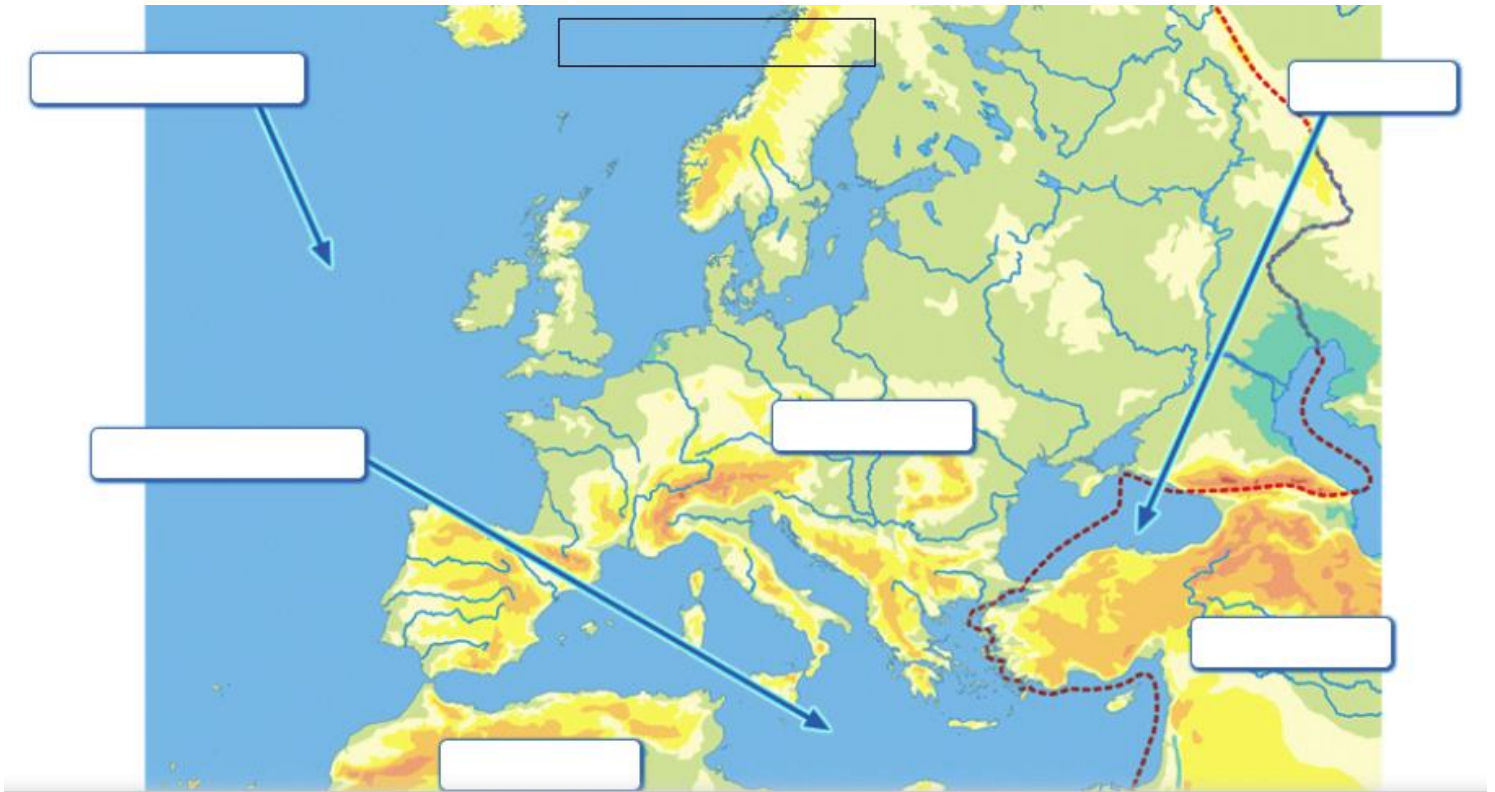
1. Escribe el nombre de cada continente y escribe con rojo Europa.



2. Colorea Europa.



3. Escribe los límites de Europa:



4. Responde a estas preguntas:

a) ¿En qué hemisferio se encuentra Europa?

b) ¿Es el continente más pequeño? ¿Cuál es el continente más pequeño?

c) ¿Cuántos continentes hay? ¿En cuál está España?

II. PRINCIPALES PAÍSES Y CAPITALES

El continente europeo está formado por 50 países. De ellos 43 son propiamente europeos y los 7 restantes se consideran euroasiáticos por encontrarse entre Asia y Europa.

Hay países **muy extensos** como Rusia y otros **muy pequeños** como Ciudad del Vaticano.

Europa tiene una extensión de más de diez millones de km².

En nuestro continente viven aproximadamente unos 750 millones de habitantes.



La población no se reparte de forma igual por el continente y unos países tienen más población que otros. Así podemos diferenciar:

- **Países más poblados de Europa** (en el centro del continente): Países Bajos, Bélgica, Reino Unido, Alemania...
- **Países menos poblados de Europa** (en el norte): Finlandia, Suecia, Estonia y Letonia.

A continuación vamos a aprender los países de Europa con sus capitales:

Los países marcados con un asterisco (*) son países euroasiáticos y están incluidos en el listado porque política y/o geográficamente (de manera parcial) se consideran parte de Europa.

Nosotros vamos a intentar aprendernos los países y capitales marcados con amarillo.

N.º PAÍS	CAPITAL
1 Albania	Tirana
2 Alemania	Berlín
3 Andorra	Andorra La Vieja
4 Armenia (*)	Ereván
5 Austria	Viena
6 Azerbaiyán (*)	Bakú
7 Bélgica	Bruselas
8 Bielorrusia	Minsk
9 Bosnia y Herzegovina	Sarajevo
10 Bulgaria	Sofía
11 Chipre (*)	Nicosia
12 Ciudad del Vaticano	Ciudad del Vaticano
13 Croacia	Zagreb
14 Dinamarca	Copenhague
15 Eslovaquia	Bratislava
16 Eslovenia	Liubliana

17 España	Madrid
18 Estonia	Tallín
19 Finlandia	Helsinki
20 Francia	París
21 Georgia (*)	Tiflis
22 Grecia	Atenas
23 Hungría	Budapest
24 Irlanda	Dublín
25 Islandia	Reikiavik
26 Italia	Roma
27 Kazajistán (*)	Astaná
28 Letonia	Riga
29 Liechtenstein	Vaduz
30 Lituania	Vilna
31 Luxemburgo	Luxemburgo
32 Macedonia del Norte	Skopie
33 Malta	La Valeta
34 Moldavia	Chisinau

35 Mónaco	Mónaco
36 Montenegro	Podgorica
37 Noruega	Oslo
38 Países Bajos	Ámsterdam
39 Polonia	Varsovia
40 Portugal	Lisboa
41 Reino Unido	Londres
42 República Checa	Praga
43 Rumanía	Bucarest
44 Rusia (*)	Moscú
45 San Marino	San Marino
46 Serbia	Belgrado
47 Suecia	Estocolmo
48 Suiza	Berna
49 Turquía (*)	Ankara
50 Ucrania	Kiev



[Capitales de Europa](#)

[Canción capitales Europa](#)

[Juega a localizar capitales de Europa](#)

ACTIVIDADES:

5. Escribe cada país en su lugar correspondiente:

FINLANDIA
UCRANIA
ESPAÑA
POLONIA
NORUEGA
FRANCIA
ALEMANIA
RUSIA
TURQUÍA
SUECIA



6. Responde a las preguntas:

- a) ¿Cuántos países tiene Europa?
- b) ¿Qué país es el más extenso y cuál menos?
- c) ¿Cuántos habitantes tiene aproximadamente Europa?
- d) Escribe 3 países que sean los más poblados y 3 países menos poblados de Europa.

7. Localiza y escribe el nombre de estos países de Europa:

**España, Francia, Italia, Alemania, Austria, Andorra, Bélgica,
Dinamarca, Noruega, Portugal, Rusia, Suecia, Finlandia, Irlanda,
Grecia, Islandia y Hungría.**





8. Del siguiente recuadro, relaciona cada país con su capital:

Madrid – París – Sofía – Italia – Alemania – Berlín – España –
Portugal – Lisboa – Francia – Roma – Bulgaria

9. Une cada país con su capital correspondiente:

Noruega	Francia	Italia	España	Alemania	Reino Unido
París	Berlín	Londres	Oslo	Roma	Madrid

10. Colorea del mismo color el país y su capital:

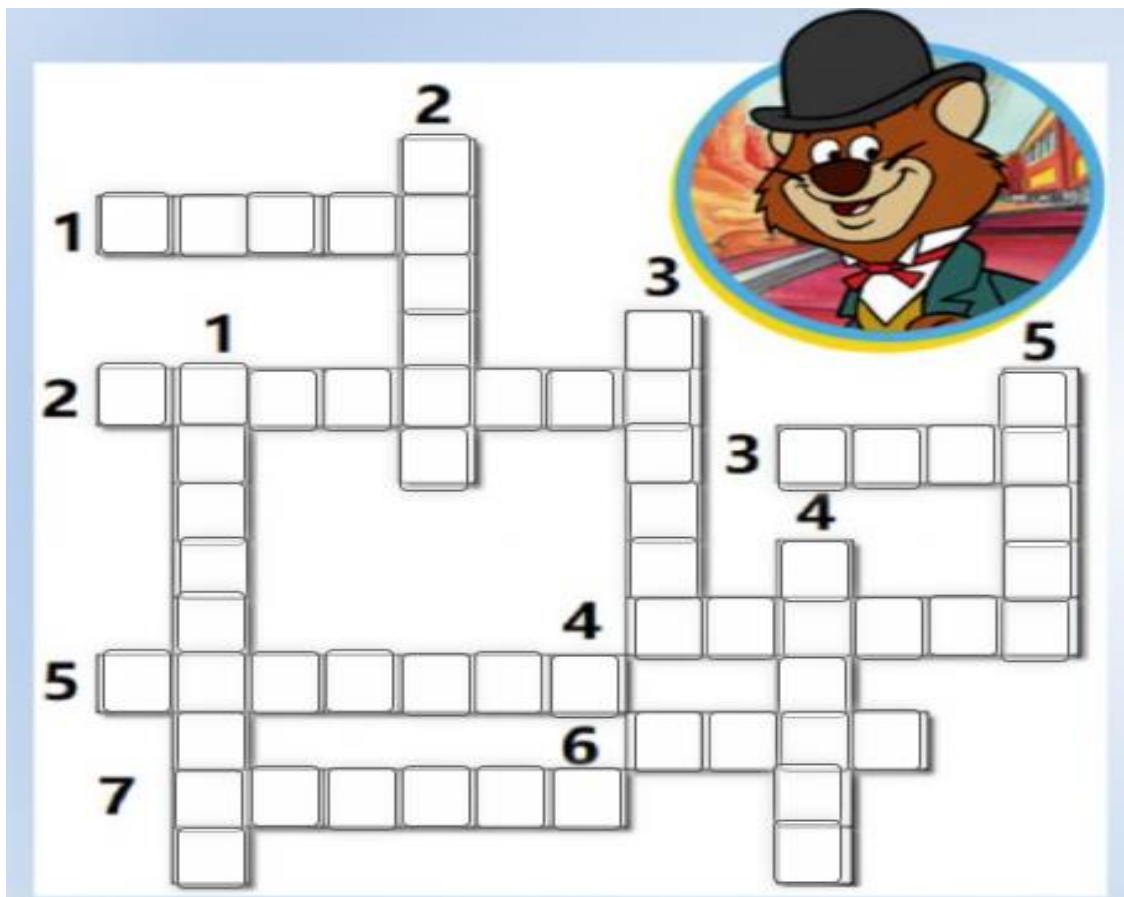
Reino Unido	Estocolmo
España	Lisboa
Noruega	Madrid
Turquía	Londres
Irlanda	Roma
Francia	Ankara
Suecia	Dublín
Portugal	Berlín
Alemania	Oslo
Italia	París



11. Investiga qué es la Unión Europea y escribe:

- ¿Cuándo se creó?
- ¿En qué año entró a formar parte España?
- ¿Cuál es el objetivo de la Unión Europea?
- ¿Cuántos países forman la Unión Europea? Pon algunos ejemplos.
- ¿Cuál es la moneda que usan?

12. Completa el crucigrama:



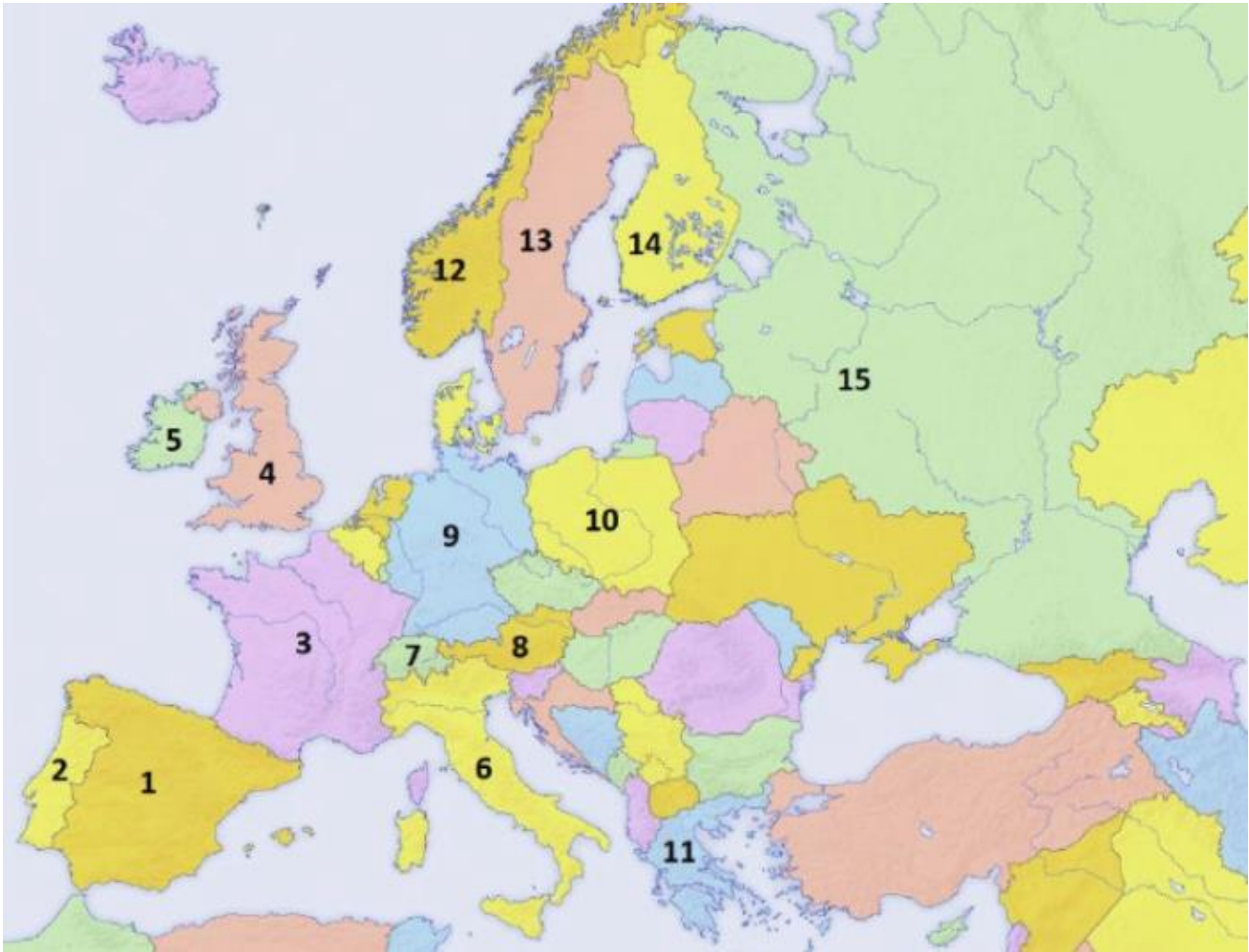
HORIZONTAL

- Capital de Rusia.
- Capital de Finlandia.
- Capital de Italia.
- Capital de Grecia.
- Capital del Reino Unido.
- Capital de Noruega
- Capital de España.

VERTICAL

- Capital de Suecia.
- Capital de Irlanda.
- Capital de Portugal.
- Capital de Alemania
- Capital de Francia.

13. Observa el mapa y completa la tabla:



	PAÍS	CAPITAL
1	España	Madrid
2	<input type="text"/>	<input type="text"/>
3	<input type="text"/>	<input type="text"/>
4	<input type="text"/>	<input type="text"/>
5	<input type="text"/>	<input type="text"/>
6	<input type="text"/>	<input type="text"/>
7	<input type="text"/>	<input type="text"/>
8	<input type="text"/>	<input type="text"/>
9	<input type="text"/>	<input type="text"/>
10	<input type="text"/>	<input type="text"/>
11	<input type="text"/>	<input type="text"/>
12	<input type="text"/>	<input type="text"/>
13	<input type="text"/>	<input type="text"/>
14	<input type="text"/>	<input type="text"/>
15	<input type="text"/>	<input type="text"/>

MAPAS MUDOS DE EUROPA POLÍTICA



