



NÚMEROS HASTA EL 10

¿Cuántos pétalos tienen estas flores? Une con una línea.




10 6 5 4 7 8

Colorea 6 niños de verde y 2 de amarillo.



Une cantidades iguales.



Pinta 7 flores.



Repasa los números.

0- 1- 2- 3- 4- 5- 6- 7- 8 - 9- 10

0- 1- 2- 3- 4- 5- 6- 7- 8 - 9- 10


0- 1- 2- 3- 4- 5- 6- 7- 8 - 9- 10

Pinta los dedos que indican cantidades MAYORES que 5.
Escribe debajo la cantidad que representan.




Dibuja 8 cuadrados.

Haz grupos de 10 libélulas.



¿Cuántos grupos has formado? _____
 ¿Te han sobrado algunas? _____ ¿Cuántas? _____

Escribe bajo los cubos la cantidad que indican.



Continúa la serie numérica.

1 - 2 - 3 - _____

10 - 9 - 8 - _____